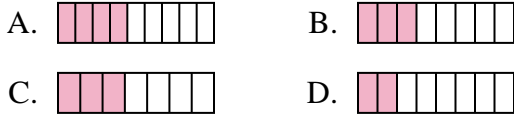




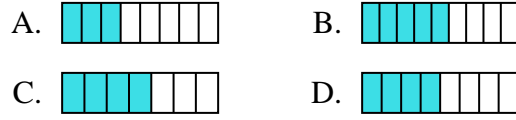
Determina cuál opción mejor responde a cada pregunta.

Respuestas

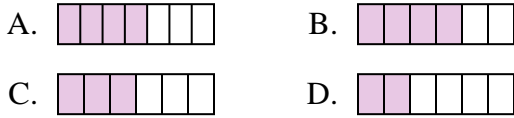
1) ¿Cuál de las figuras de abajo está sombreada para representar $\frac{3}{8}$?



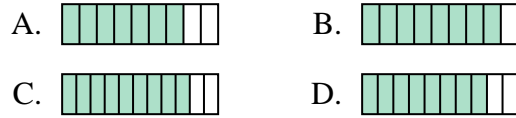
2) ¿Cuál de las figuras de abajo está sombreada para representar $\frac{4}{8}$?



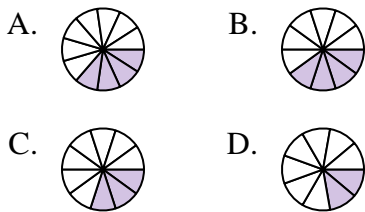
3) ¿Cuál de las figuras de abajo está sombreada para representar $\frac{3}{6}$?



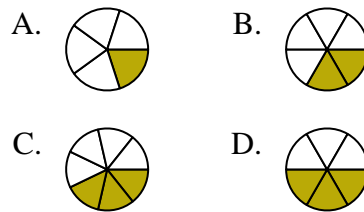
4) ¿Cuál de las figuras de abajo está sombreada para representar $\frac{8}{10}$?



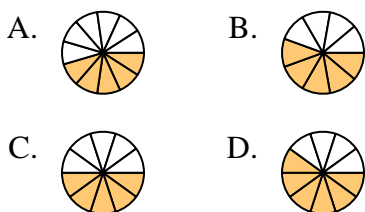
5) ¿Cuál de las figuras de abajo está sombreada para representar $\frac{3}{10}$?



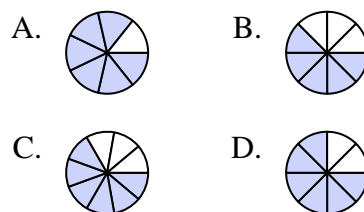
6) ¿Cuál de las figuras de abajo está sombreada para representar $\frac{2}{6}$?



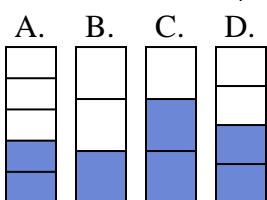
7) ¿Cuál de las figuras de abajo está sombreada para representar $\frac{5}{10}$?



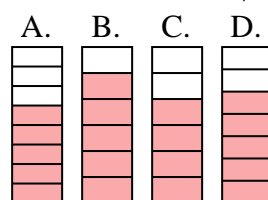
8) ¿Cuál de las figuras de abajo está sombreada para representar $\frac{6}{8}$?



9) ¿Cuál de las figuras de abajo está sombreada para representar $\frac{2}{4}$?



10) ¿Cuál de las figuras de abajo está sombreada para representar $\frac{5}{7}$?



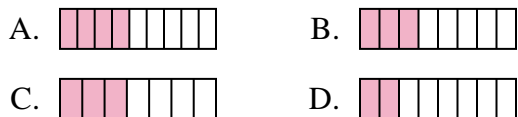
1. _____
2. _____
3. _____
4. _____
5. _____
6. _____
7. _____
8. _____
9. _____
10. _____



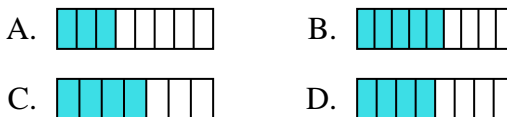
Determina cuál opción mejor responde a cada pregunta.

Respuestas

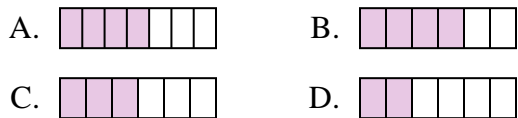
1) ¿Cuál de las figuras de abajo está sombreada para representar $\frac{3}{8}$?



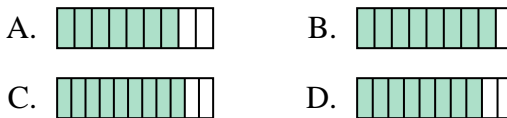
2) ¿Cuál de las figuras de abajo está sombreada para representar $\frac{4}{8}$?



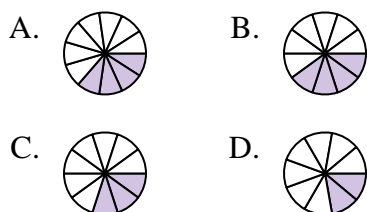
3) ¿Cuál de las figuras de abajo está sombreada para representar $\frac{3}{6}$?



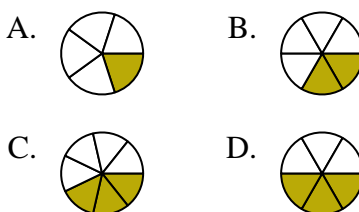
4) ¿Cuál de las figuras de abajo está sombreada para representar $\frac{8}{10}$?



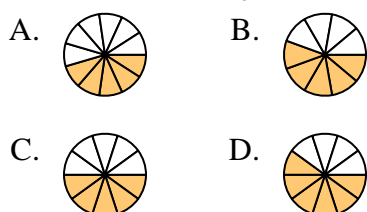
5) ¿Cuál de las figuras de abajo está sombreada para representar $\frac{3}{10}$?



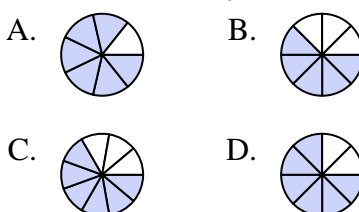
6) ¿Cuál de las figuras de abajo está sombreada para representar $\frac{2}{6}$?




7) ¿Cuál de las figuras de abajo está sombreada para representar $\frac{5}{10}$?



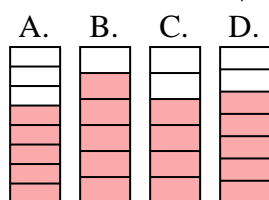
8) ¿Cuál de las figuras de abajo está sombreada para representar $\frac{6}{8}$?



9) ¿Cuál de las figuras de abajo está sombreada para representar $\frac{2}{4}$?



10) ¿Cuál de las figuras de abajo está sombreada para representar $\frac{5}{7}$?



- 1. **B**
- 2. **D**
- 3. **C**
- 4. **D**
- 5. **C**
- 6. **B**
- 7. **C**
- 8. **D**
- 9. **D**
- 10. **D**