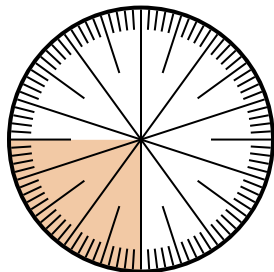


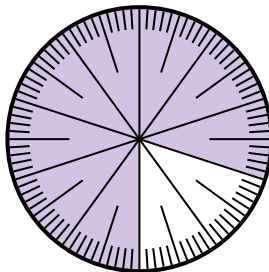


Resuelve cada problema.

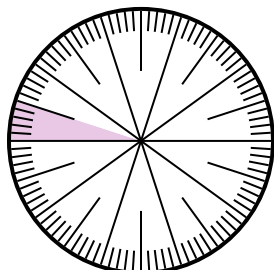
- 1) Expresa la porción de {PALABRA} como una fracción del todo con un 100 como denominador.



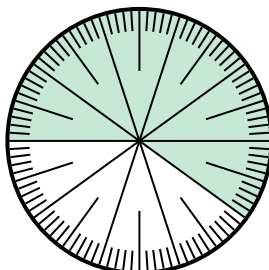
- 2) Expresa la porción de {PALABRA} como un decimal del entero.



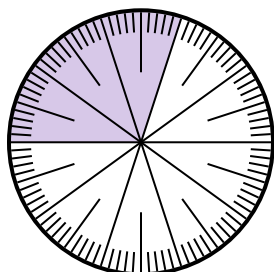
- 3) Expresa la porción de {PALABRA} como una fracción del todo con un 100 como denominador.



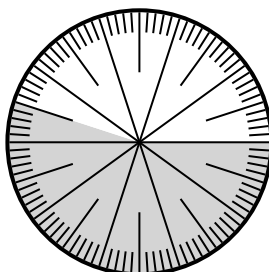
- 4) Expresa la porción de {PALABRA} como una fracción del todo con un 100 como denominador.



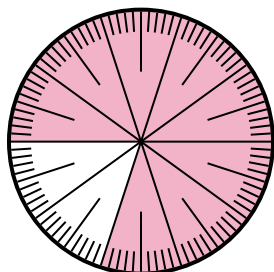
- 5) Expresa la porción de {PALABRA} como una fracción del todo con un 100 como denominador.



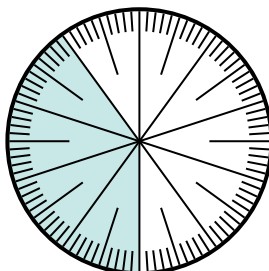
- 6) Expresa la porción de {PALABRA} como una fracción del todo con un 100 como denominador.



- 7) Expresa la porción de {PALABRA} como una fracción del todo con un 100 como denominador.



- 8) Expresa la porción de {PALABRA} como un decimal del entero.



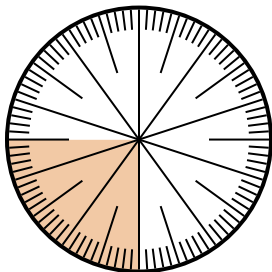
**Respuestas**

1. \_\_\_\_\_
2. \_\_\_\_\_
3. \_\_\_\_\_
4. \_\_\_\_\_
5. \_\_\_\_\_
6. \_\_\_\_\_
7. \_\_\_\_\_
8. \_\_\_\_\_

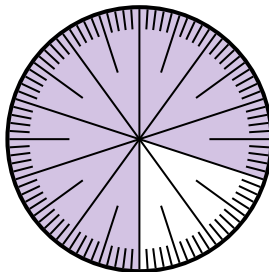


Resuelve cada problema.

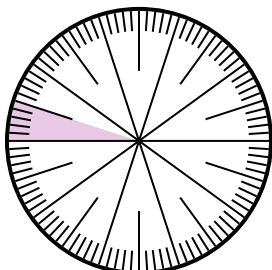
- 1) Expresa la porción de {PALABRA} como una fracción del todo con un 100 como denominador.



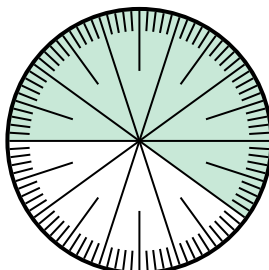
- 2) Expresa la porción de {PALABRA} como un decimal del entero.



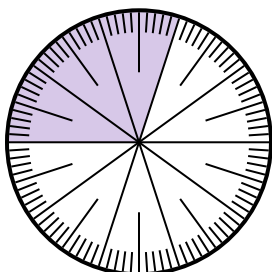
- 3) Expresa la porción de {PALABRA} como una fracción del todo con un 100 como denominador.



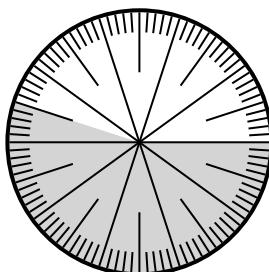
- 4) Expresa la porción de {PALABRA} como una fracción del todo con un 100 como denominador.



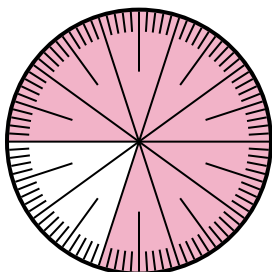
- 5) Expresa la porción de {PALABRA} como una fracción del todo con un 100 como denominador.



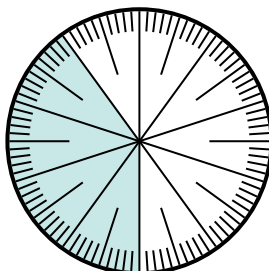
- 6) Expresa la porción de {PALABRA} como una fracción del todo con un 100 como denominador.



- 7) Expresa la porción de {PALABRA} como una fracción del todo con un 100 como denominador.



- 8) Expresa la porción de {PALABRA} como un decimal del entero.



**Respuestas**

1.  $\frac{25}{100}$
2. **0.2**
3.  $\frac{5}{100}$
4.  $\frac{45}{100}$
5.  $\frac{30}{100}$
6.  $\frac{60}{100}$
7.  $\frac{20}{100}$
8. **0.6**