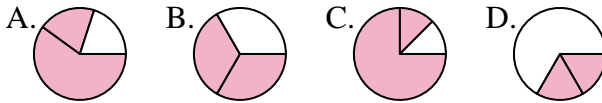




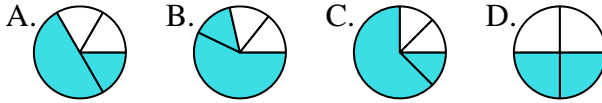
**Determina cuál letra mejor representa a cada fracción**

**Respuestas**

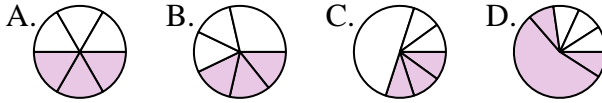
1) ¿Que opción representa mejor  $\frac{2}{3}$ ?



2) ¿Que opción representa mejor  $\frac{2}{4}$ ?



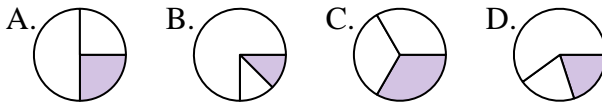
3) ¿Que opción representa mejor  $\frac{3}{6}$ ?



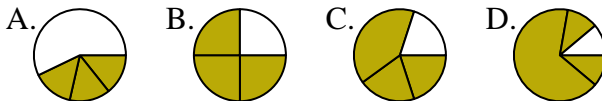
4) ¿Que opción representa mejor  $\frac{6}{8}$ ?



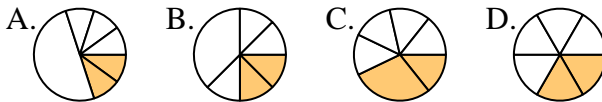
5) ¿Que opción representa mejor  $\frac{1}{3}$ ?



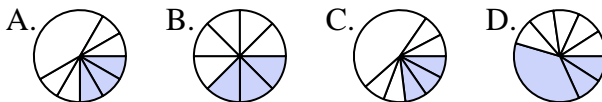
6) ¿Que opción representa mejor  $\frac{3}{4}$ ?



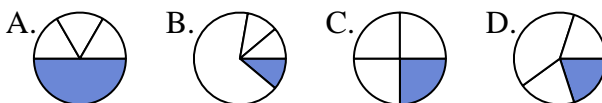
7) ¿Que opción representa mejor  $\frac{2}{6}$ ?



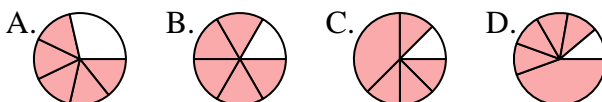
8) ¿Que opción representa mejor  $\frac{3}{8}$ ?



9) ¿Que opción representa mejor  $\frac{1}{4}$ ?



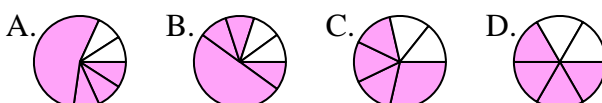
10) ¿Que opción representa mejor  $\frac{5}{6}$ ?



11) ¿Que opción representa mejor  $\frac{2}{8}$ ?



12) ¿Que opción representa mejor  $\frac{4}{6}$ ?



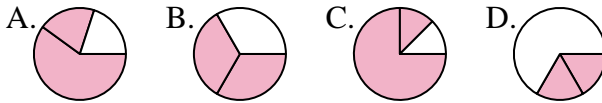
1. \_\_\_\_\_
2. \_\_\_\_\_
3. \_\_\_\_\_
4. \_\_\_\_\_
5. \_\_\_\_\_
6. \_\_\_\_\_
7. \_\_\_\_\_
8. \_\_\_\_\_
9. \_\_\_\_\_
10. \_\_\_\_\_
11. \_\_\_\_\_
12. \_\_\_\_\_



**Determina cuál letra mejor representa a cada fracción**

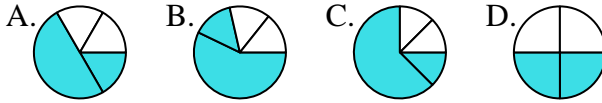
**Respuestas**

1) ¿Que opción representa mejor  $\frac{2}{3}$ ?



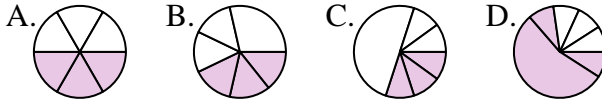
1.     **B**    

2) ¿Que opción representa mejor  $\frac{2}{4}$ ?



2.     **D**    

3) ¿Que opción representa mejor  $\frac{3}{6}$ ?



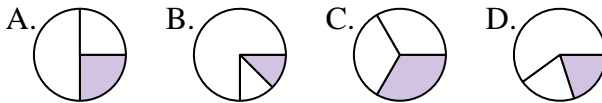
3.     **A**    

4) ¿Que opción representa mejor  $\frac{6}{8}$ ?



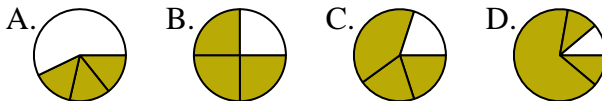
4.     **A**    

5) ¿Que opción representa mejor  $\frac{1}{3}$ ?



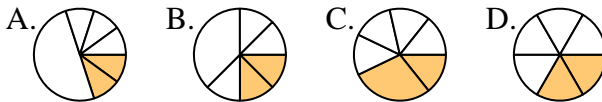
5.     **C**    

6) ¿Que opción representa mejor  $\frac{3}{4}$ ?



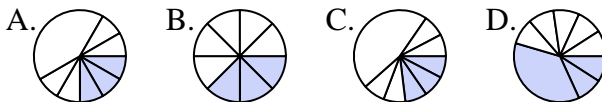
6.     **B**    

7) ¿Que opción representa mejor  $\frac{2}{6}$ ?



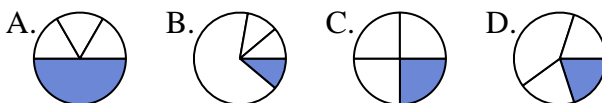
7.     **D**    

8) ¿Que opción representa mejor  $\frac{3}{8}$ ?



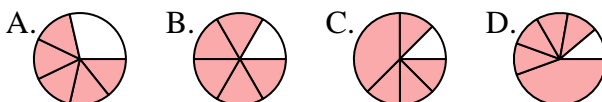
8.     **B**    

9) ¿Que opción representa mejor  $\frac{1}{4}$ ?



9.     **C**    

10) ¿Que opción representa mejor  $\frac{5}{6}$ ?



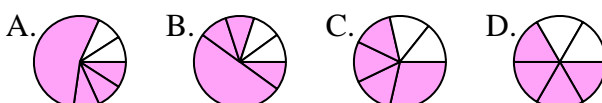
10.     **B**    

11) ¿Que opción representa mejor  $\frac{2}{8}$ ?



11.     **B**    

12) ¿Que opción representa mejor  $\frac{4}{6}$ ?



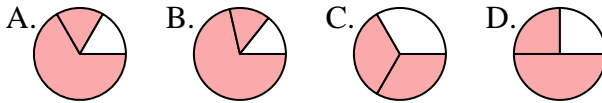
12.     **D**



**Determina cuál letra mejor representa a cada fracción**

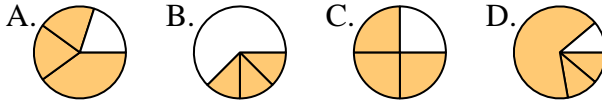
**Respuestas**

1) ¿Que opción representa mejor  $\frac{2}{3}$ ?



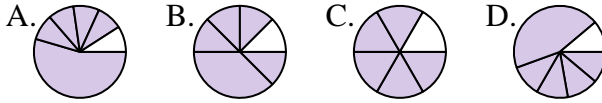
1. \_\_\_\_\_

2) ¿Que opción representa mejor  $\frac{3}{4}$ ?



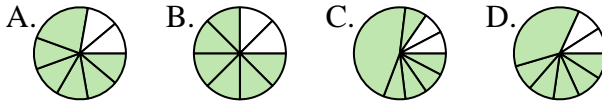
2. \_\_\_\_\_

3) ¿Que opción representa mejor  $\frac{5}{6}$ ?



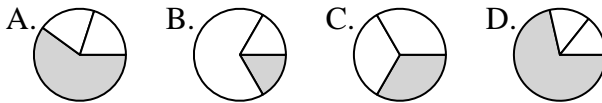
4. \_\_\_\_\_

4) ¿Que opción representa mejor  $\frac{6}{8}$ ?



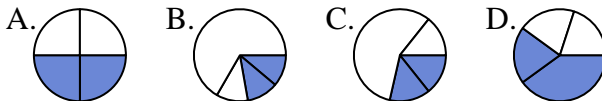
6. \_\_\_\_\_

5) ¿Que opción representa mejor  $\frac{1}{3}$ ?



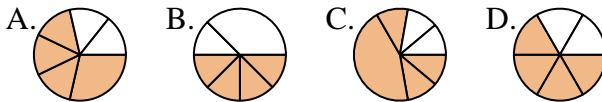
8. \_\_\_\_\_

6) ¿Que opción representa mejor  $\frac{2}{4}$ ?



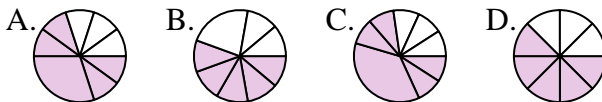
9. \_\_\_\_\_

7) ¿Que opción representa mejor  $\frac{4}{6}$ ?



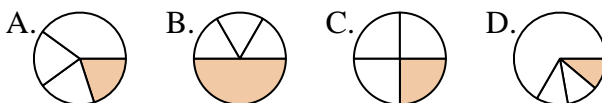
11. \_\_\_\_\_

8) ¿Que opción representa mejor  $\frac{5}{8}$ ?

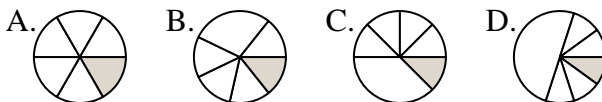


12. \_\_\_\_\_

9) ¿Que opción representa mejor  $\frac{1}{4}$ ?



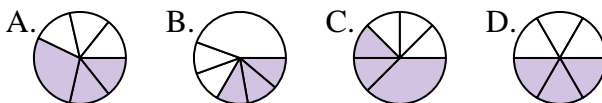
10) ¿Que opción representa mejor  $\frac{1}{6}$ ?



11) ¿Que opción representa mejor  $\frac{4}{8}$ ?



12) ¿Que opción representa mejor  $\frac{3}{6}$ ?

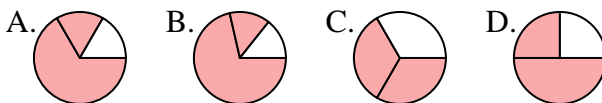




**Determina cuál letra mejor representa a cada fracción**

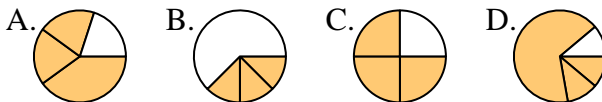
**Respuestas**

1) ¿Que opción representa mejor  $\frac{2}{3}$ ?



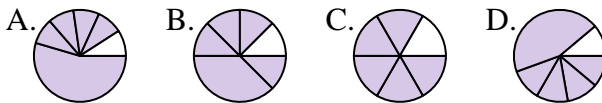
1.     **C**    

2) ¿Que opción representa mejor  $\frac{3}{4}$ ?



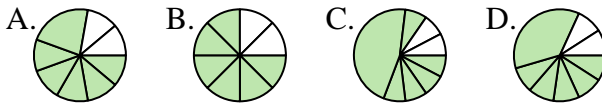
2.     **C**    

3) ¿Que opción representa mejor  $\frac{5}{6}$ ?



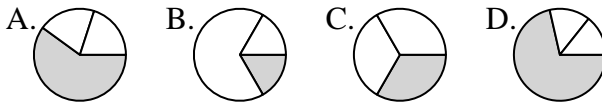
4.     **B**    

4) ¿Que opción representa mejor  $\frac{6}{8}$ ?



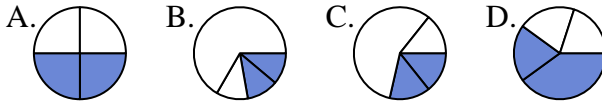
5.     **C**    

5) ¿Que opción representa mejor  $\frac{1}{3}$ ?



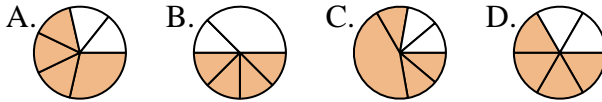
6.     **A**    

6) ¿Que opción representa mejor  $\frac{2}{4}$ ?



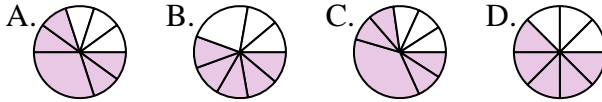
7.     **D**    

7) ¿Que opción representa mejor  $\frac{4}{6}$ ?



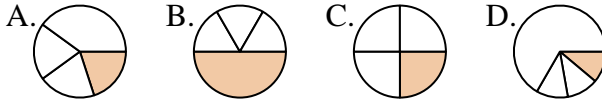
8.     **D**    

8) ¿Que opción representa mejor  $\frac{5}{8}$ ?



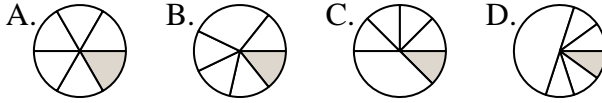
9.     **C**    

9) ¿Que opción representa mejor  $\frac{1}{4}$ ?



10.     **A**    

10) ¿Que opción representa mejor  $\frac{1}{6}$ ?



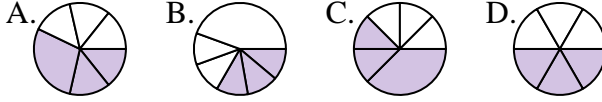
11.     **A**    

11) ¿Que opción representa mejor  $\frac{4}{8}$ ?



12.     **D**    

12) ¿Que opción representa mejor  $\frac{3}{6}$ ?

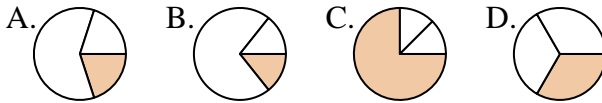




Determina cuál letra mejor representa a cada fracción

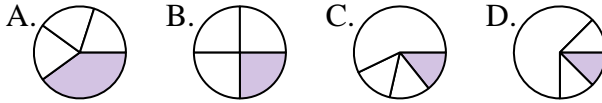
Respuestas

1) ¿Que opción representa mejor  $\frac{1}{3}$ ?



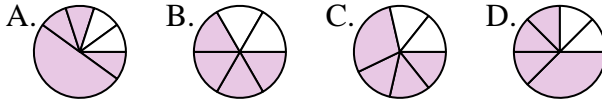
1. \_\_\_\_\_

2) ¿Que opción representa mejor  $\frac{1}{4}$ ?



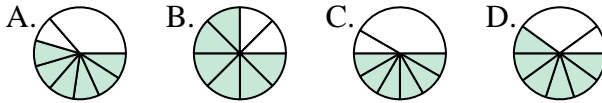
2. \_\_\_\_\_

3) ¿Que opción representa mejor  $\frac{4}{6}$ ?



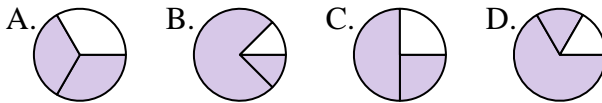
3. \_\_\_\_\_

4) ¿Que opción representa mejor  $\frac{6}{8}$ ?



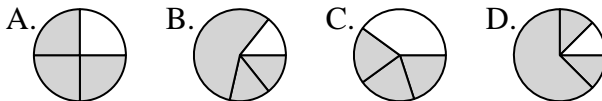
4. \_\_\_\_\_

5) ¿Que opción representa mejor  $\frac{2}{3}$ ?



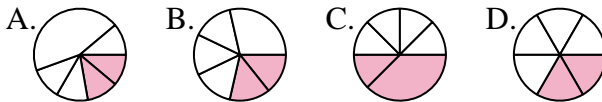
5. \_\_\_\_\_

6) ¿Que opción representa mejor  $\frac{3}{4}$ ?



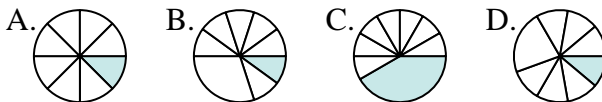
6. \_\_\_\_\_

7) ¿Que opción representa mejor  $\frac{2}{6}$ ?



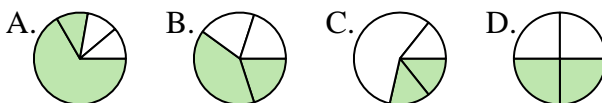
7. \_\_\_\_\_

8) ¿Que opción representa mejor  $\frac{1}{8}$ ?



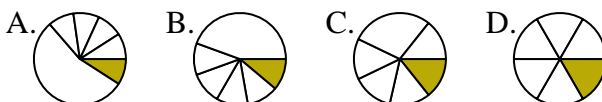
8. \_\_\_\_\_

9) ¿Que opción representa mejor  $\frac{2}{4}$ ?



9. \_\_\_\_\_

10) ¿Que opción representa mejor  $\frac{1}{6}$ ?



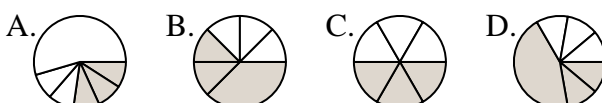
10. \_\_\_\_\_

11) ¿Que opción representa mejor  $\frac{4}{8}$ ?



11. \_\_\_\_\_

12) ¿Que opción representa mejor  $\frac{3}{6}$ ?



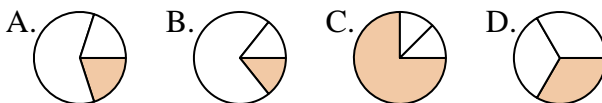
12. \_\_\_\_\_



Determina cuál letra mejor representa a cada fracción

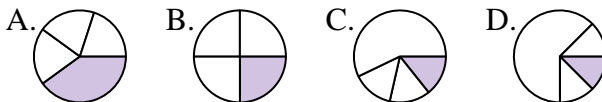
**Respuestas**

1) ¿Que opción representa mejor  $\frac{1}{3}$ ?



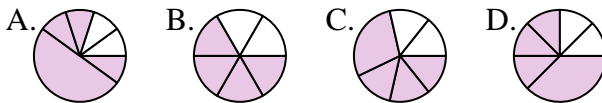
1.     **D**    

2) ¿Que opción representa mejor  $\frac{1}{4}$ ?



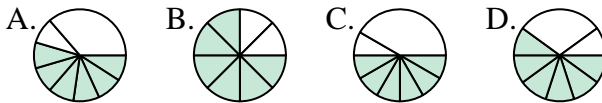
2.     **B**    

3) ¿Que opción representa mejor  $\frac{4}{6}$ ?



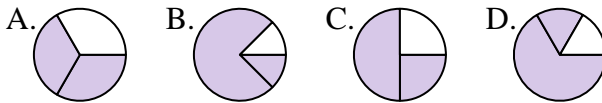
3.     **B**    

4) ¿Que opción representa mejor  $\frac{6}{8}$ ?



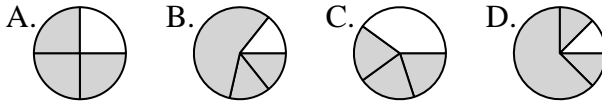
4.     **B**    

5) ¿Que opción representa mejor  $\frac{2}{3}$ ?



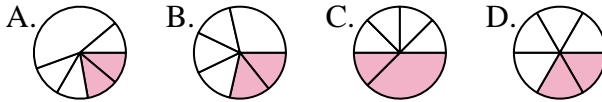
5.     **A**    

6) ¿Que opción representa mejor  $\frac{3}{4}$ ?



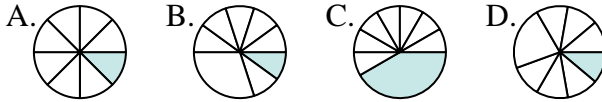
6.     **A**    

7) ¿Que opción representa mejor  $\frac{2}{6}$ ?



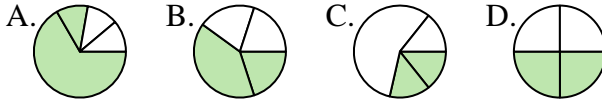
7.     **D**    

8) ¿Que opción representa mejor  $\frac{1}{8}$ ?



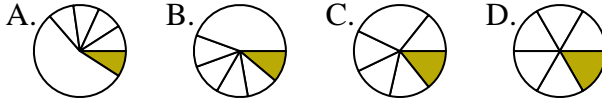
8.     **A**    

9) ¿Que opción representa mejor  $\frac{2}{4}$ ?



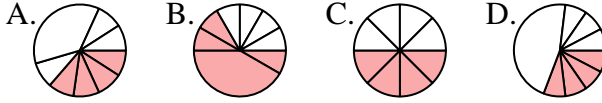
9.     **D**    

10) ¿Que opción representa mejor  $\frac{1}{6}$ ?



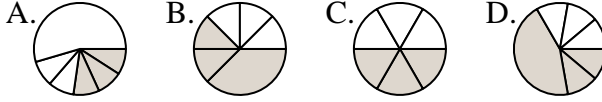
10.     **D**    

11) ¿Que opción representa mejor  $\frac{4}{8}$ ?



11.     **C**    

12) ¿Que opción representa mejor  $\frac{3}{6}$ ?



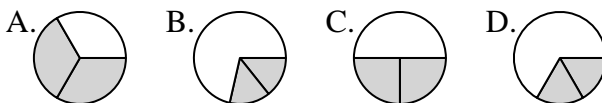
12.     **C**



**Determina cuál letra mejor representa a cada fracción**

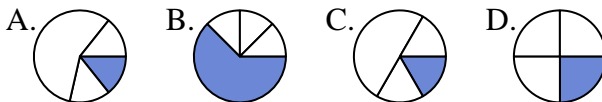
**Respuestas**

1) ¿Que opción representa mejor  $\frac{2}{3}$ ?



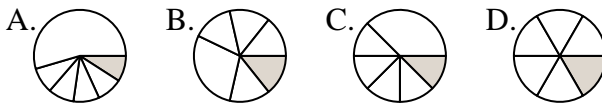
1. \_\_\_\_\_

2) ¿Que opción representa mejor  $\frac{1}{4}$ ?



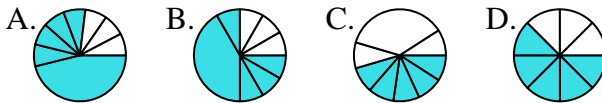
2. \_\_\_\_\_

3) ¿Que opción representa mejor  $\frac{1}{6}$ ?



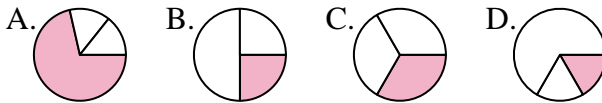
3. \_\_\_\_\_

4) ¿Que opción representa mejor  $\frac{5}{8}$ ?



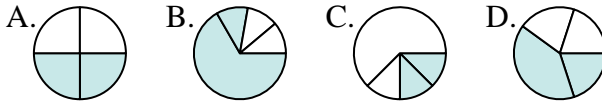
4. \_\_\_\_\_

5) ¿Que opción representa mejor  $\frac{1}{3}$ ?



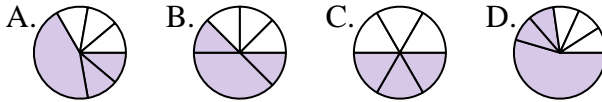
5. \_\_\_\_\_

6) ¿Que opción representa mejor  $\frac{2}{4}$ ?



6. \_\_\_\_\_

7) ¿Que opción representa mejor  $\frac{3}{6}$ ?



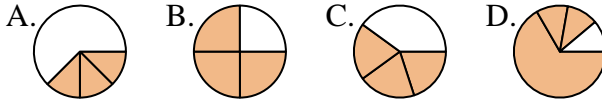
7. \_\_\_\_\_

8) ¿Que opción representa mejor  $\frac{7}{8}$ ?



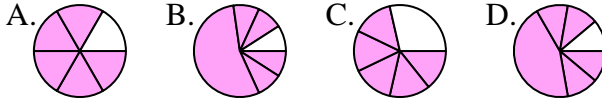
8. \_\_\_\_\_

9) ¿Que opción representa mejor  $\frac{3}{4}$ ?



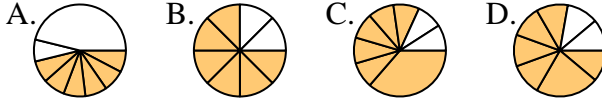
9. \_\_\_\_\_

10) ¿Que opción representa mejor  $\frac{5}{6}$ ?



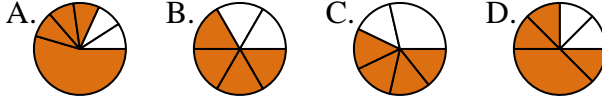
10. \_\_\_\_\_

11) ¿Que opción representa mejor  $\frac{6}{8}$ ?



11. \_\_\_\_\_

12) ¿Que opción representa mejor  $\frac{4}{6}$ ?



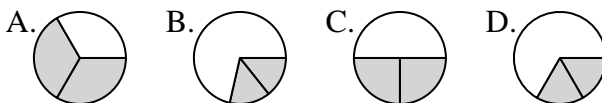
12. \_\_\_\_\_



Determina cuál letra mejor representa a cada fracción

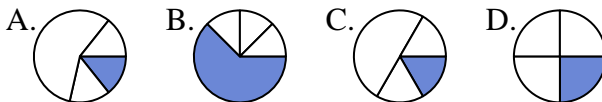
**Respuestas**

1) ¿Que opción representa mejor  $\frac{2}{3}$ ?



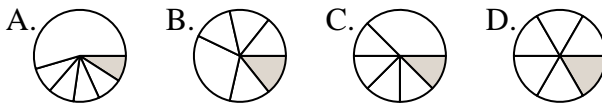
1.     **A**    

2) ¿Que opción representa mejor  $\frac{1}{4}$ ?



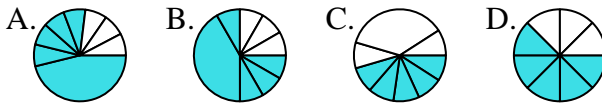
2.     **D**    

3) ¿Que opción representa mejor  $\frac{1}{6}$ ?



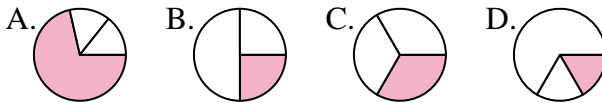
3.     **D**    

4) ¿Que opción representa mejor  $\frac{5}{8}$ ?



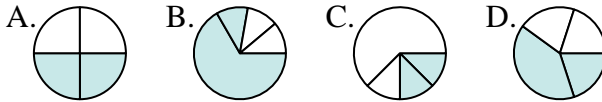
4.     **D**    

5) ¿Que opción representa mejor  $\frac{1}{3}$ ?



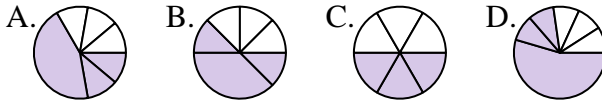
5.     **C**    

6) ¿Que opción representa mejor  $\frac{2}{4}$ ?



6.     **A**    

7) ¿Que opción representa mejor  $\frac{3}{6}$ ?



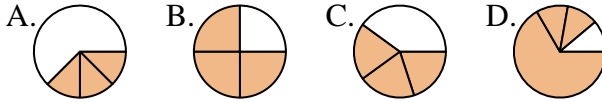
7.     **C**    

8) ¿Que opción representa mejor  $\frac{7}{8}$ ?



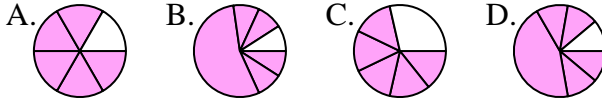
8.     **D**    

9) ¿Que opción representa mejor  $\frac{3}{4}$ ?



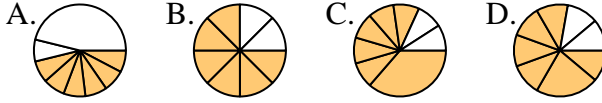
9.     **B**    

10) ¿Que opción representa mejor  $\frac{5}{6}$ ?



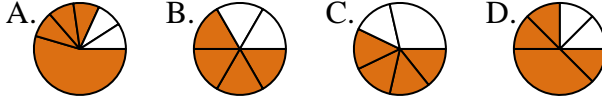
10.     **A**    

11) ¿Que opción representa mejor  $\frac{6}{8}$ ?



11.     **B**    

12) ¿Que opción representa mejor  $\frac{4}{6}$ ?



12.     **B**

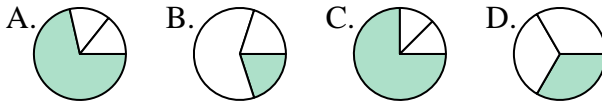




**Determina cuál letra mejor representa a cada fracción**

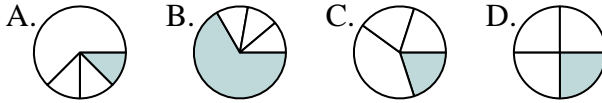
**Respuestas**

1) ¿Que opción representa mejor  $\frac{1}{3}$ ?



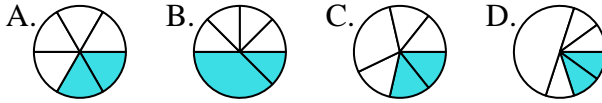
1. \_\_\_\_\_

2) ¿Que opción representa mejor  $\frac{1}{4}$ ?



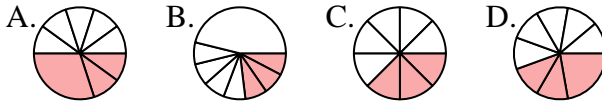
2. \_\_\_\_\_

3) ¿Que opción representa mejor  $\frac{2}{6}$ ?



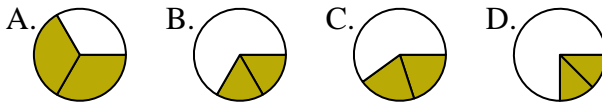
4. \_\_\_\_\_

4) ¿Que opción representa mejor  $\frac{3}{8}$ ?



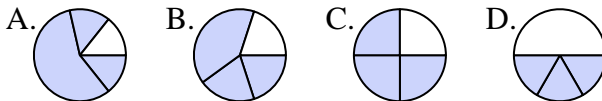
6. \_\_\_\_\_

5) ¿Que opción representa mejor  $\frac{2}{3}$ ?



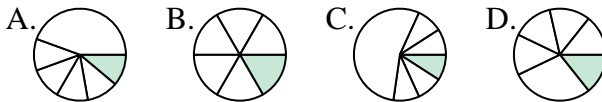
8. \_\_\_\_\_

6) ¿Que opción representa mejor  $\frac{3}{4}$ ?



9. \_\_\_\_\_

7) ¿Que opción representa mejor  $\frac{1}{6}$ ?



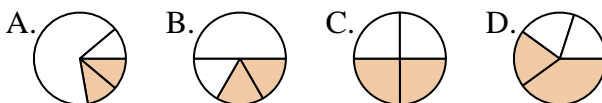
11. \_\_\_\_\_

8) ¿Que opción representa mejor  $\frac{1}{8}$ ?

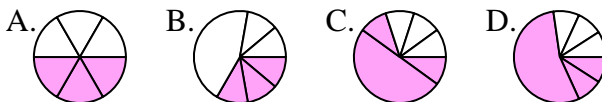


12. \_\_\_\_\_

9) ¿Que opción representa mejor  $\frac{2}{4}$ ?



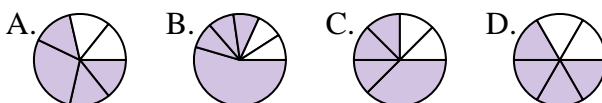
10) ¿Que opción representa mejor  $\frac{3}{6}$ ?



11) ¿Que opción representa mejor  $\frac{5}{8}$ ?



12) ¿Que opción representa mejor  $\frac{4}{6}$ ?

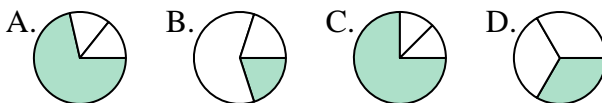




**Determina cuál letra mejor representa a cada fracción**

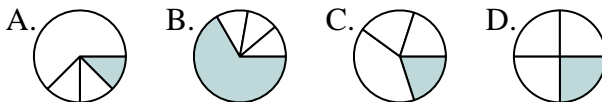
**Respuestas**

1) ¿Que opción representa mejor  $\frac{1}{3}$ ?



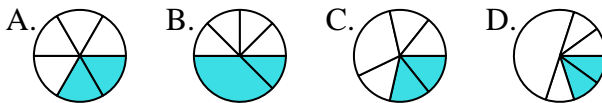
1.     **D**    

2) ¿Que opción representa mejor  $\frac{1}{4}$ ?



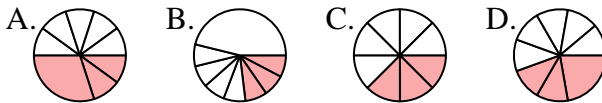
2.     **D**    

3) ¿Que opción representa mejor  $\frac{2}{6}$ ?



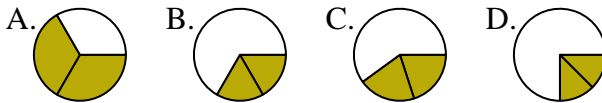
3.     **A**    

4) ¿Que opción representa mejor  $\frac{3}{8}$ ?



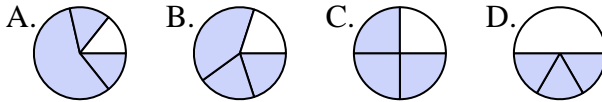
4.     **C**    

5) ¿Que opción representa mejor  $\frac{2}{3}$ ?



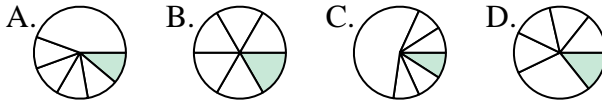
5.     **A**    

6) ¿Que opción representa mejor  $\frac{3}{4}$ ?



6.     **C**    

7) ¿Que opción representa mejor  $\frac{1}{6}$ ?



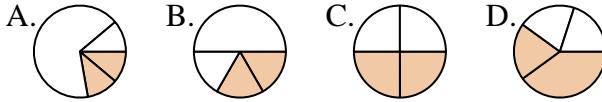
7.     **B**    

8) ¿Que opción representa mejor  $\frac{1}{8}$ ?



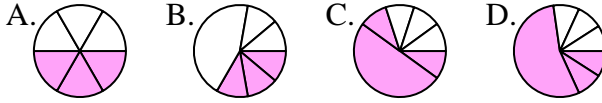
8.     **A**    

9) ¿Que opción representa mejor  $\frac{2}{4}$ ?



9.     **C**    

10) ¿Que opción representa mejor  $\frac{3}{6}$ ?



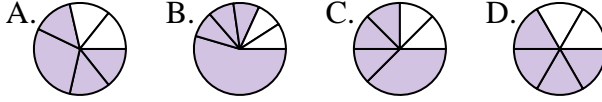
10.     **A**    

11) ¿Que opción representa mejor  $\frac{5}{8}$ ?



11.     **C**    

12) ¿Que opción representa mejor  $\frac{4}{6}$ ?



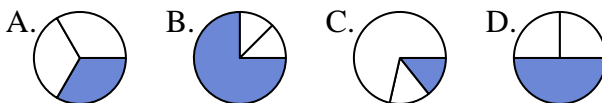
12.     **D**



**Determina cuál letra mejor representa a cada fracción**

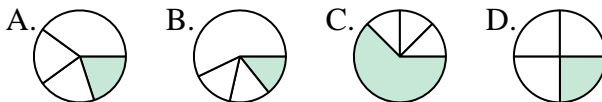
**Respuestas**

1) ¿Que opción representa mejor  $\frac{1}{3}$ ?



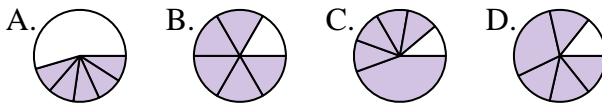
1. \_\_\_\_\_

2) ¿Que opción representa mejor  $\frac{1}{4}$ ?



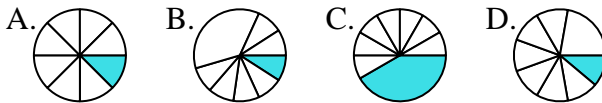
2. \_\_\_\_\_

3) ¿Que opción representa mejor  $\frac{5}{6}$ ?



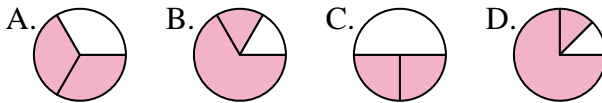
4. \_\_\_\_\_

4) ¿Que opción representa mejor  $\frac{1}{8}$ ?



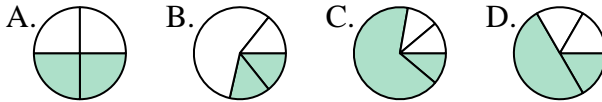
6. \_\_\_\_\_

5) ¿Que opción representa mejor  $\frac{2}{3}$ ?



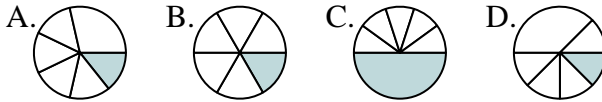
8. \_\_\_\_\_

6) ¿Que opción representa mejor  $\frac{2}{4}$ ?



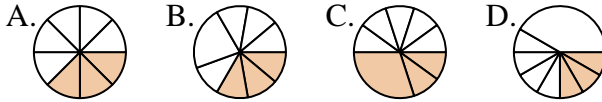
9. \_\_\_\_\_

7) ¿Que opción representa mejor  $\frac{1}{6}$ ?



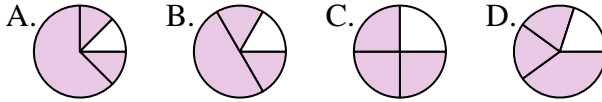
11. \_\_\_\_\_

8) ¿Que opción representa mejor  $\frac{3}{8}$ ?

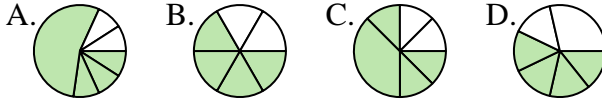


12. \_\_\_\_\_

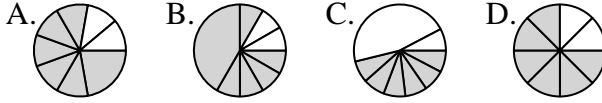
9) ¿Que opción representa mejor  $\frac{3}{4}$ ?



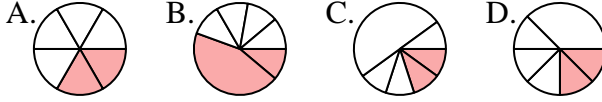
10) ¿Que opción representa mejor  $\frac{4}{6}$ ?



11) ¿Que opción representa mejor  $\frac{6}{8}$ ?



12) ¿Que opción representa mejor  $\frac{2}{6}$ ?

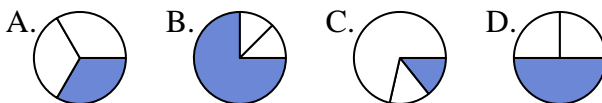




**Determina cuál letra mejor representa a cada fracción**

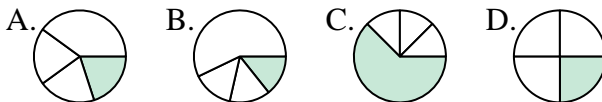
**Respuestas**

1) ¿Que opción representa mejor  $\frac{1}{3}$ ?



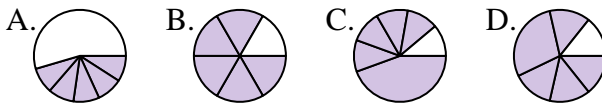
1.     **A**    

2) ¿Que opción representa mejor  $\frac{1}{4}$ ?



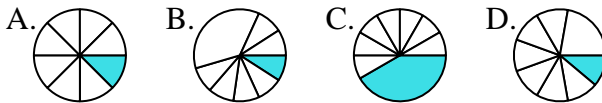
2.     **D**    

3) ¿Que opción representa mejor  $\frac{5}{6}$ ?



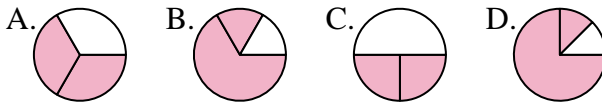
3.     **B**    

4) ¿Que opción representa mejor  $\frac{1}{8}$ ?



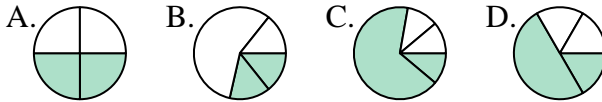
4.     **A**    

5) ¿Que opción representa mejor  $\frac{2}{3}$ ?



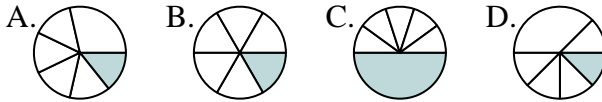
5.     **A**    

6) ¿Que opción representa mejor  $\frac{2}{4}$ ?



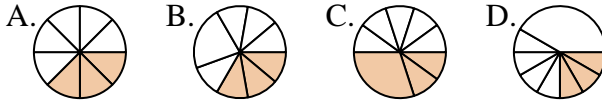
6.     **A**    

7) ¿Que opción representa mejor  $\frac{1}{6}$ ?



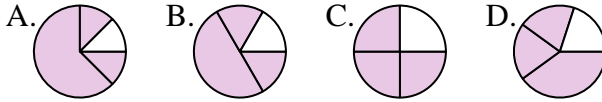
7.     **B**    

8) ¿Que opción representa mejor  $\frac{3}{8}$ ?



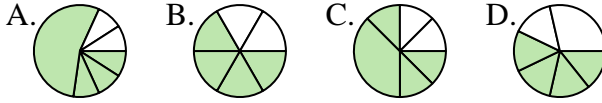
8.     **A**    

9) ¿Que opción representa mejor  $\frac{3}{4}$ ?



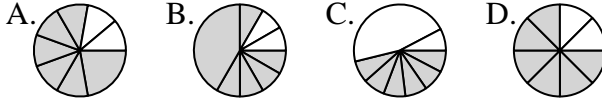
9.     **C**    

10) ¿Que opción representa mejor  $\frac{4}{6}$ ?



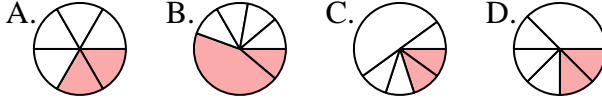
10.     **B**    

11) ¿Que opción representa mejor  $\frac{6}{8}$ ?



11.     **D**    

12) ¿Que opción representa mejor  $\frac{2}{6}$ ?



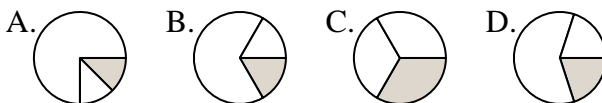
12.     **A**



**Determina cuál letra mejor representa a cada fracción**

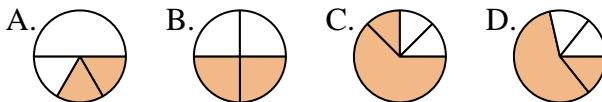
**Respuestas**

1) ¿Que opción representa mejor  $\frac{1}{3}$ ?



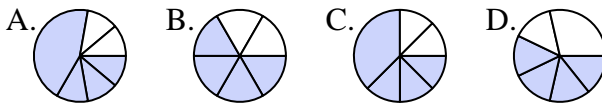
1. \_\_\_\_\_

2) ¿Que opción representa mejor  $\frac{2}{4}$ ?



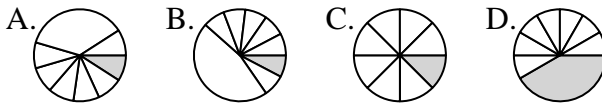
2. \_\_\_\_\_

3) ¿Que opción representa mejor  $\frac{4}{6}$ ?



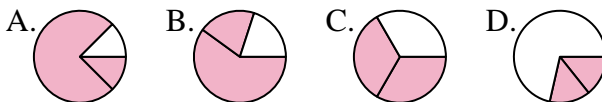
4. \_\_\_\_\_

4) ¿Que opción representa mejor  $\frac{1}{8}$ ?



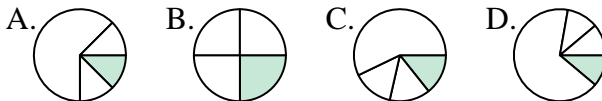
6. \_\_\_\_\_

5) ¿Que opción representa mejor  $\frac{2}{3}$ ?



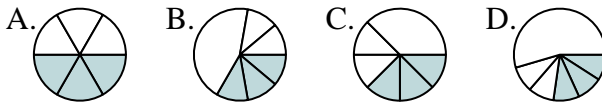
7. \_\_\_\_\_

6) ¿Que opción representa mejor  $\frac{1}{4}$ ?



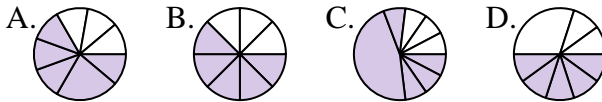
9. \_\_\_\_\_

7) ¿Que opción representa mejor  $\frac{3}{6}$ ?



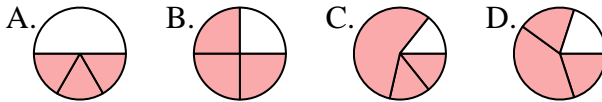
11. \_\_\_\_\_

8) ¿Que opción representa mejor  $\frac{5}{8}$ ?

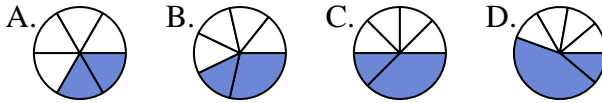


12. \_\_\_\_\_

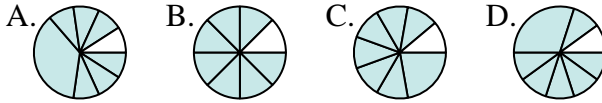
9) ¿Que opción representa mejor  $\frac{3}{4}$ ?



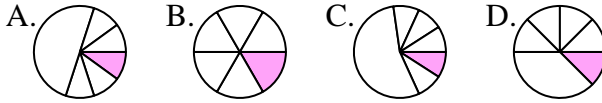
10) ¿Que opción representa mejor  $\frac{2}{6}$ ?



11) ¿Que opción representa mejor  $\frac{7}{8}$ ?



12) ¿Que opción representa mejor  $\frac{1}{6}$ ?

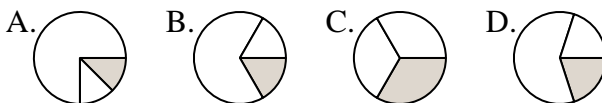




Determina cuál letra mejor representa a cada fracción

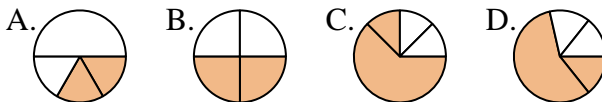
**Respuestas**

1) ¿Que opción representa mejor  $\frac{1}{3}$ ?



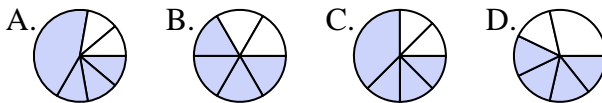
1.     **C**    

2) ¿Que opción representa mejor  $\frac{2}{4}$ ?



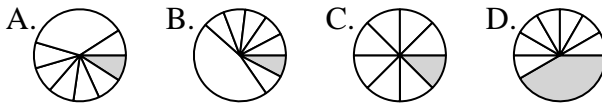
2.     **B**    

3) ¿Que opción representa mejor  $\frac{4}{6}$ ?



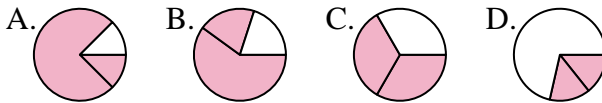
4.     **C**    

4) ¿Que opción representa mejor  $\frac{1}{8}$ ?



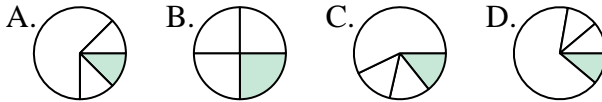
5.     **C**    

5) ¿Que opción representa mejor  $\frac{2}{3}$ ?



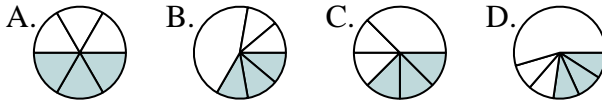
6.     **B**    

6) ¿Que opción representa mejor  $\frac{1}{4}$ ?



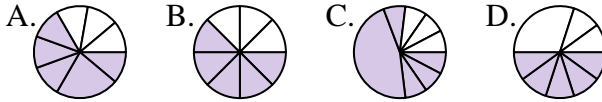
7.     **A**    

7) ¿Que opción representa mejor  $\frac{3}{6}$ ?



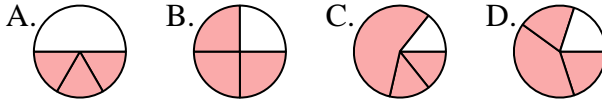
8.     **B**    

8) ¿Que opción representa mejor  $\frac{5}{8}$ ?



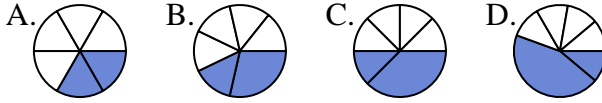
9.     **B**    

9) ¿Que opción representa mejor  $\frac{3}{4}$ ?



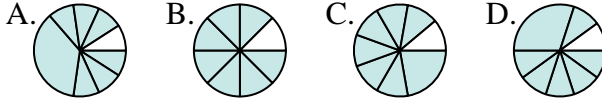
10.     **A**    

10) ¿Que opción representa mejor  $\frac{2}{6}$ ?



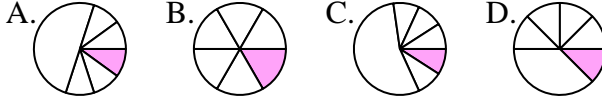
11.     **B**    

11) ¿Que opción representa mejor  $\frac{7}{8}$ ?



12.     **B**    

12) ¿Que opción representa mejor  $\frac{1}{6}$ ?

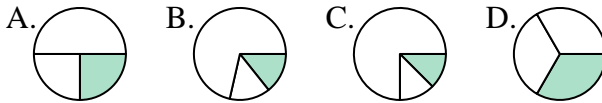




**Determina cuál letra mejor representa a cada fracción**

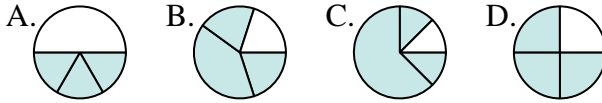
**Respuestas**

1) ¿Que opción representa mejor  $\frac{1}{3}$ ?



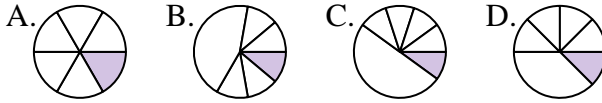
1. \_\_\_\_\_

2) ¿Que opción representa mejor  $\frac{3}{4}$ ?



2. \_\_\_\_\_

3) ¿Que opción representa mejor  $\frac{1}{6}$ ?



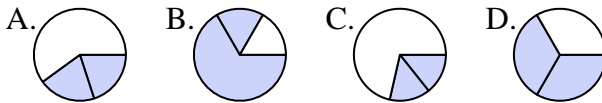
4. \_\_\_\_\_

4) ¿Que opción representa mejor  $\frac{5}{8}$ ?



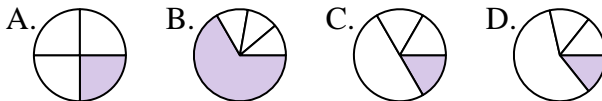
6. \_\_\_\_\_

5) ¿Que opción representa mejor  $\frac{2}{3}$ ?



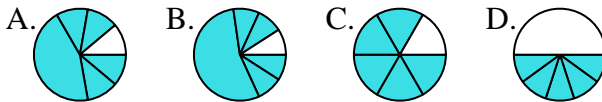
7. \_\_\_\_\_

6) ¿Que opción representa mejor  $\frac{1}{4}$ ?



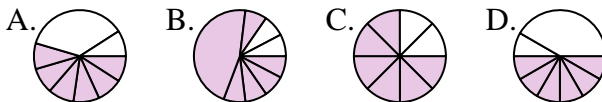
9. \_\_\_\_\_

7) ¿Que opción representa mejor  $\frac{5}{6}$ ?



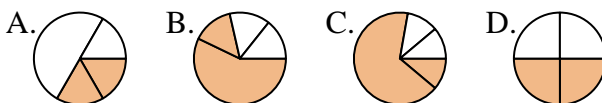
11. \_\_\_\_\_

8) ¿Que opción representa mejor  $\frac{6}{8}$ ?

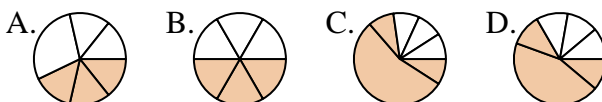


12. \_\_\_\_\_

9) ¿Que opción representa mejor  $\frac{2}{4}$ ?



10) ¿Que opción representa mejor  $\frac{3}{6}$ ?



11) ¿Que opción representa mejor  $\frac{2}{8}$ ?



12) ¿Que opción representa mejor  $\frac{4}{6}$ ?

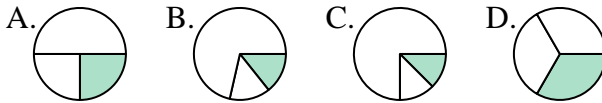




**Determina cuál letra mejor representa a cada fracción**

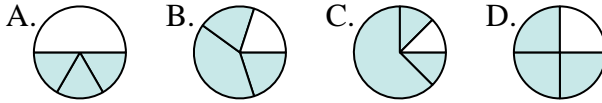
**Respuestas**

1) ¿Que opción representa mejor  $\frac{1}{3}$ ?



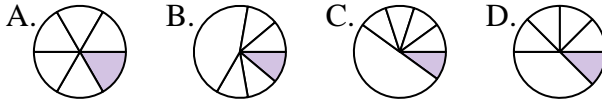
1.     **D**    

2) ¿Que opción representa mejor  $\frac{3}{4}$ ?



2.     **D**    

3) ¿Que opción representa mejor  $\frac{1}{6}$ ?



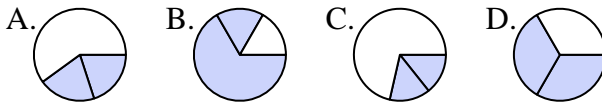
3.     **A**    

4) ¿Que opción representa mejor  $\frac{5}{8}$ ?



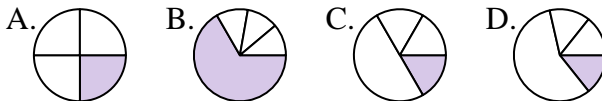
4.     **A**    

5) ¿Que opción representa mejor  $\frac{2}{3}$ ?



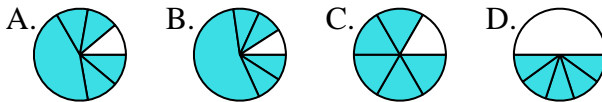
5.     **D**    

6) ¿Que opción representa mejor  $\frac{1}{4}$ ?



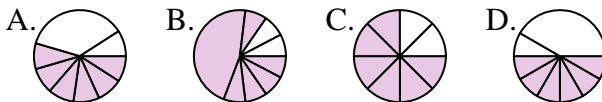
6.     **A**    

7) ¿Que opción representa mejor  $\frac{5}{6}$ ?



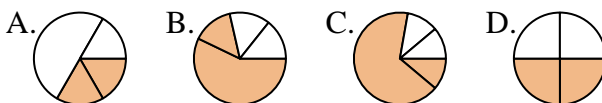
7.     **C**    

8) ¿Que opción representa mejor  $\frac{6}{8}$ ?



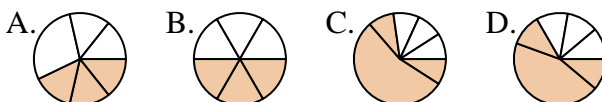
8.     **C**    

9) ¿Que opción representa mejor  $\frac{2}{4}$ ?



9.     **D**    

10) ¿Que opción representa mejor  $\frac{3}{6}$ ?



10.     **B**    

11) ¿Que opción representa mejor  $\frac{2}{8}$ ?



11.     **C**    

12) ¿Que opción representa mejor  $\frac{4}{6}$ ?



12.     **C**

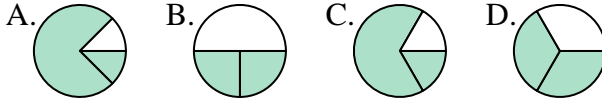




**Determina cuál letra mejor representa a cada fracción**

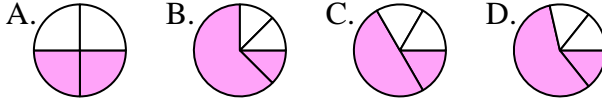
**Respuestas**

1) ¿Que opción representa mejor  $\frac{2}{3}$ ?



1. \_\_\_\_\_

2) ¿Que opción representa mejor  $\frac{2}{4}$ ?



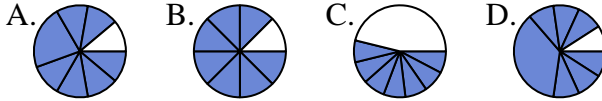
2. \_\_\_\_\_

3) ¿Que opción representa mejor  $\frac{4}{6}$ ?



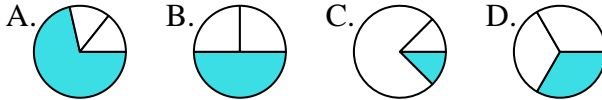
4. \_\_\_\_\_

4) ¿Que opción representa mejor  $\frac{7}{8}$ ?



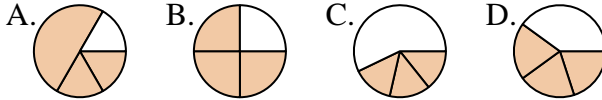
6. \_\_\_\_\_

5) ¿Que opción representa mejor  $\frac{1}{3}$ ?



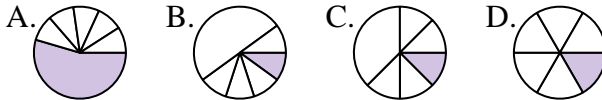
7. \_\_\_\_\_

6) ¿Que opción representa mejor  $\frac{3}{4}$ ?



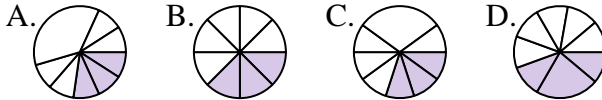
9. \_\_\_\_\_

7) ¿Que opción representa mejor  $\frac{1}{6}$ ?



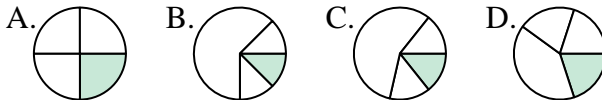
10. \_\_\_\_\_

8) ¿Que opción representa mejor  $\frac{3}{8}$ ?



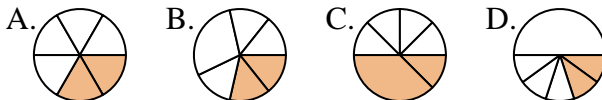
11. \_\_\_\_\_

9) ¿Que opción representa mejor  $\frac{1}{4}$ ?

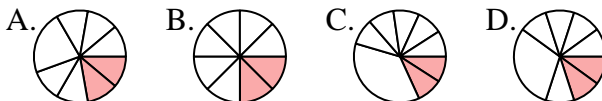


12. \_\_\_\_\_

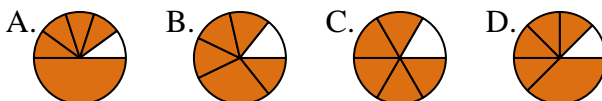
10) ¿Que opción representa mejor  $\frac{2}{6}$ ?



11) ¿Que opción representa mejor  $\frac{2}{8}$ ?



12) ¿Que opción representa mejor  $\frac{5}{6}$ ?

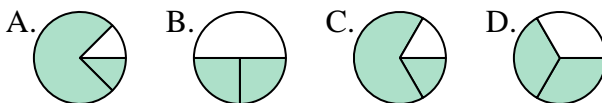




Determina cuál letra mejor representa a cada fracción

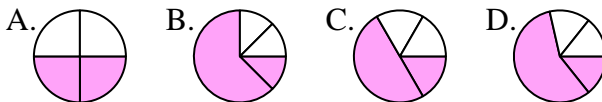
**Respuestas**

1) ¿Que opción representa mejor  $\frac{2}{3}$ ?



1.     **D**    

2) ¿Que opción representa mejor  $\frac{2}{4}$ ?



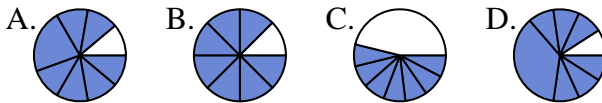
2.     **A**    

3) ¿Que opción representa mejor  $\frac{4}{6}$ ?



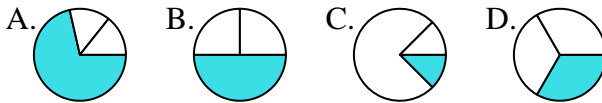
3.     **D**    

4) ¿Que opción representa mejor  $\frac{7}{8}$ ?



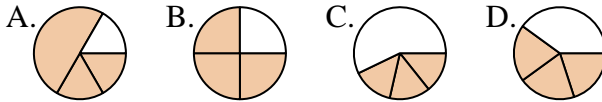
4.     **B**    

5) ¿Que opción representa mejor  $\frac{1}{3}$ ?



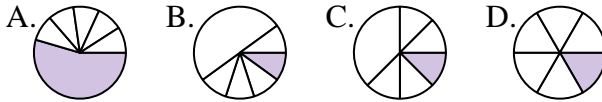
5.     **D**    

6) ¿Que opción representa mejor  $\frac{3}{4}$ ?



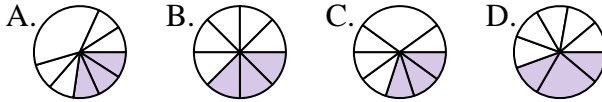
6.     **B**    

7) ¿Que opción representa mejor  $\frac{1}{6}$ ?



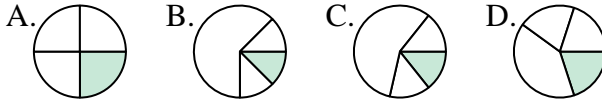
7.     **D**    

8) ¿Que opción representa mejor  $\frac{3}{8}$ ?



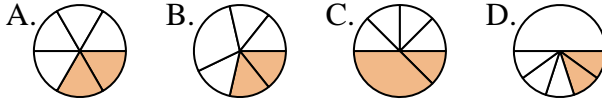
8.     **B**    

9) ¿Que opción representa mejor  $\frac{1}{4}$ ?



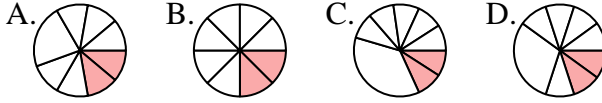
9.     **A**    

10) ¿Que opción representa mejor  $\frac{2}{6}$ ?



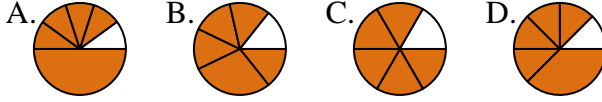
10.     **A**    

11) ¿Que opción representa mejor  $\frac{2}{8}$ ?



11.     **B**    

12) ¿Que opción representa mejor  $\frac{5}{6}$ ?



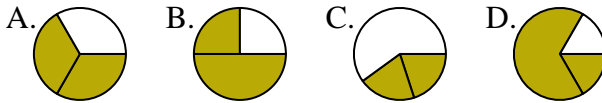
12.     **C**



**Determina cuál letra mejor representa a cada fracción**

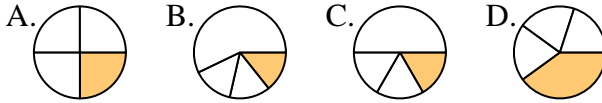
**Respuestas**

1) ¿Que opción representa mejor  $\frac{2}{3}$ ?



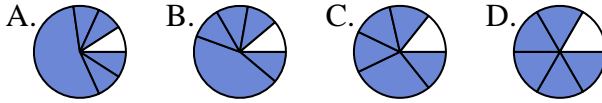
1. \_\_\_\_\_

2) ¿Que opción representa mejor  $\frac{1}{4}$ ?



2. \_\_\_\_\_

3) ¿Que opción representa mejor  $\frac{5}{6}$ ?



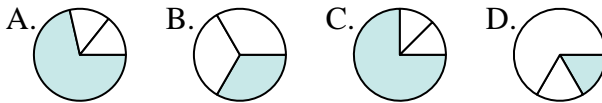
4. \_\_\_\_\_

4) ¿Que opción representa mejor  $\frac{3}{8}$ ?



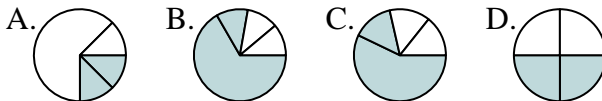
6. \_\_\_\_\_

5) ¿Que opción representa mejor  $\frac{1}{3}$ ?



7. \_\_\_\_\_

6) ¿Que opción representa mejor  $\frac{2}{4}$ ?



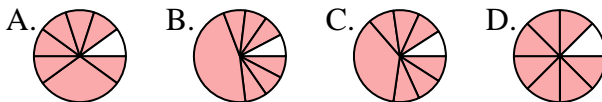
9. \_\_\_\_\_

7) ¿Que opción representa mejor  $\frac{3}{6}$ ?



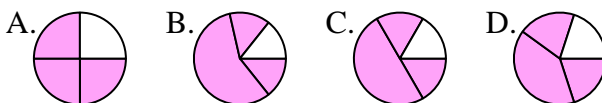
10. \_\_\_\_\_

8) ¿Que opción representa mejor  $\frac{7}{8}$ ?



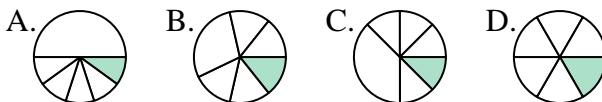
11. \_\_\_\_\_

9) ¿Que opción representa mejor  $\frac{3}{4}$ ?

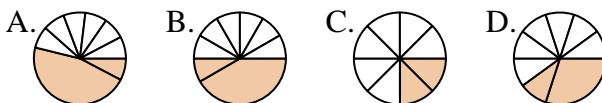


12. \_\_\_\_\_

10) ¿Que opción representa mejor  $\frac{1}{6}$ ?



11) ¿Que opción representa mejor  $\frac{2}{8}$ ?



12) ¿Que opción representa mejor  $\frac{2}{6}$ ?

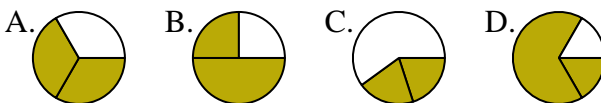




**Determina cuál letra mejor representa a cada fracción**

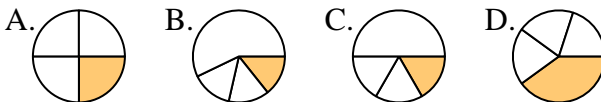
**Respuestas**

1) ¿Que opción representa mejor  $\frac{2}{3}$ ?



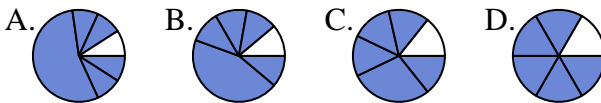
1.     **A**    

2) ¿Que opción representa mejor  $\frac{1}{4}$ ?



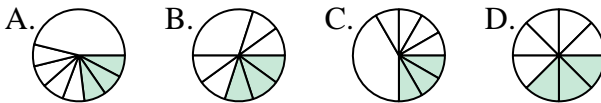
2.     **A**    

3) ¿Que opción representa mejor  $\frac{5}{6}$ ?



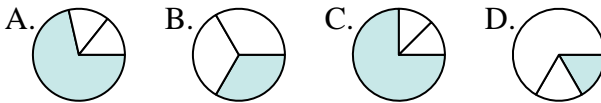
3.     **D**    

4) ¿Que opción representa mejor  $\frac{3}{8}$ ?



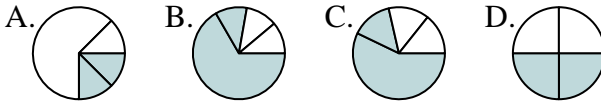
4.     **D**    

5) ¿Que opción representa mejor  $\frac{1}{3}$ ?



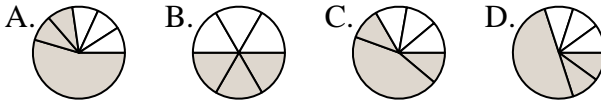
5.     **B**    

6) ¿Que opción representa mejor  $\frac{2}{4}$ ?



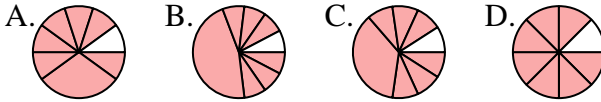
6.     **D**    

7) ¿Que opción representa mejor  $\frac{3}{6}$ ?



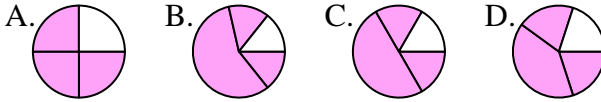
7.     **B**    

8) ¿Que opción representa mejor  $\frac{7}{8}$ ?



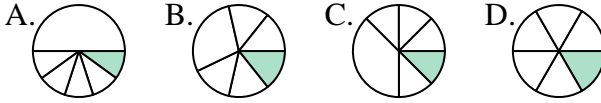
8.     **D**    

9) ¿Que opción representa mejor  $\frac{3}{4}$ ?



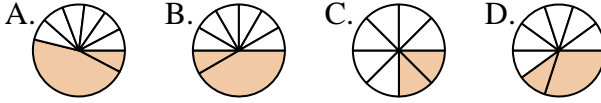
9.     **A**    

10) ¿Que opción representa mejor  $\frac{1}{6}$ ?



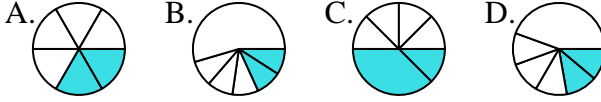
10.     **D**    

11) ¿Que opción representa mejor  $\frac{2}{8}$ ?



11.     **C**    

12) ¿Que opción representa mejor  $\frac{2}{6}$ ?



12.     **A**