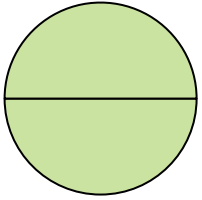




Determina cuál letra mejor describe a la porción sombreada.

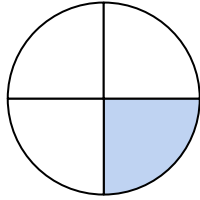
Respuestas

1)



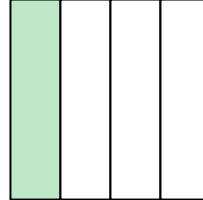
- A. dos cuartos
B. tres cuartos
C. dos mitades

2)



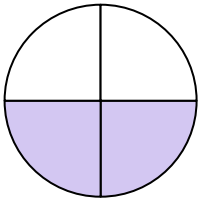
- A. tres cuartos
B. una mitad
C. un cuarto

3)



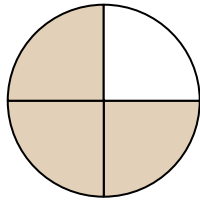
- A. dos mitades
B. tres cuartos
C. un cuarto

4)



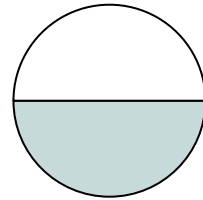
- A. dos mitades
B. cuatro cuartos
C. dos cuartos

5)




- A. tres cuartos
B. tres cuartos
C. una mitad

6)



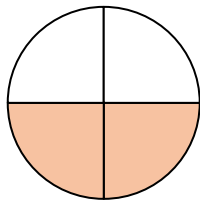
- A. dos cuartos
B. dos mitades
C. una mitad

7)



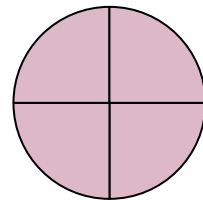
- A. tres cuartos
B. una mitad
C. dos mitades

8)



- A. dos cuartos
B. tres cuartos
C. una mitad

9)



- A. dos cuartos
B. un cuarto
C. cuatro cuartos

1. _____

2. _____

3. _____

4. _____

5. _____

6. _____

7. _____

8. _____

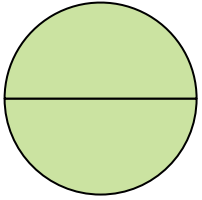
9. _____



Determina cuál letra mejor describe a la porción sombreada.

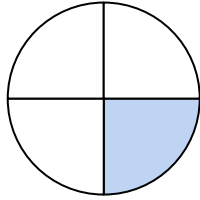
Respuestas

1)



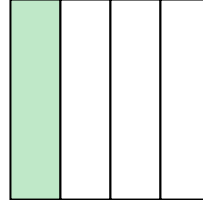
- A. dos cuartos
B. tres cuartos
C. dos mitades

2)



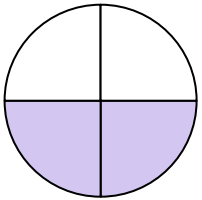
- A. tres cuartos
B. una mitad
C. un cuarto

3)



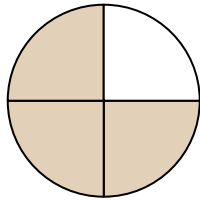
- A. dos mitades
B. tres cuartos
C. un cuarto

4)



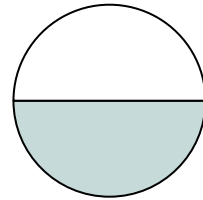
- A. dos mitades
B. cuatro cuartos
C. dos cuartos

5)




- A. tres cuartos
B. tres cuartos
C. una mitad

6)



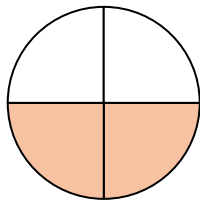
- A. dos cuartos
B. dos mitades
C. una mitad

7)



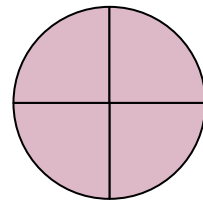
- A. tres cuartos
B. una mitad
C. dos mitades

8)



- A. dos cuartos
B. tres cuartos
C. una mitad

9)



- A. dos cuartos
B. un cuarto
C. cuatro cuartos

1. **C**
2. **C**
3. **C**
4. **C**
5. **A**
6. **C**
7. **C**
8. **A**
9. **C**