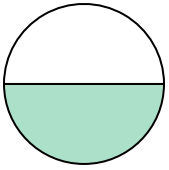




Determina cuál letra mejor describe a la porción sombreada.


**Respuestas**

1)



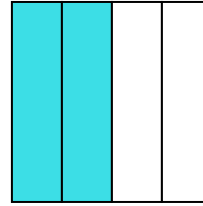
- A. una mitad
- B. dos mitades
- C. cuatro cuartos

2)



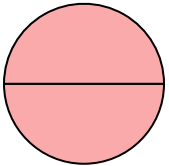
- A. dos mitades
- B. una mitad
- C. un cuarto

3)



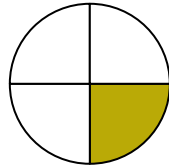
- A. tres cuartos
- B. un cuarto
- C. dos cuartos

4)



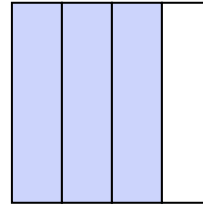
- A. dos mitades
- B. tres cuartos
- C. un cuarto

5)



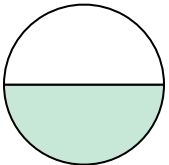
- A. tres cuartos
- B. un cuarto
- C. dos cuartos

6)



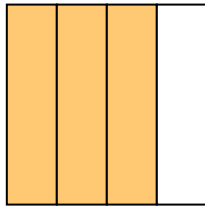
- A. tres cuartos
- B. tres cuartos
- C. una mitad

7)



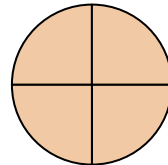
- A. dos cuartos
- B. dos mitades
- C. una mitad

8)



- A. tres cuartos
- B. un cuarto
- C. dos mitades

9)



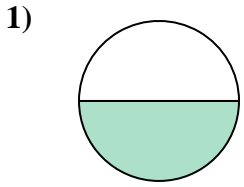
- A. dos mitades
- B. tres cuartos
- C. tres cuartos

- 1. \_\_\_\_\_
- 2. \_\_\_\_\_
- 3. \_\_\_\_\_
- 4. \_\_\_\_\_
- 5. \_\_\_\_\_
- 6. \_\_\_\_\_
- 7. \_\_\_\_\_
- 8. \_\_\_\_\_
- 9. \_\_\_\_\_

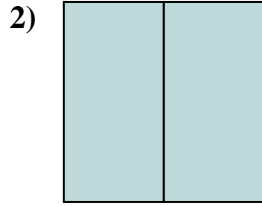


Determina cuál letra mejor describe a la porción sombreada.

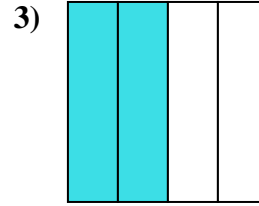
**Respuestas**



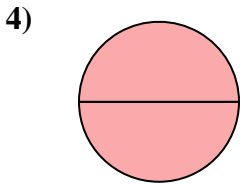
- A. una mitad
- B. dos mitades
- C. cuatro cuartos



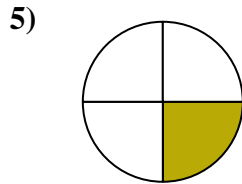
- A. dos mitades
- B. una mitad
- C. un cuarto



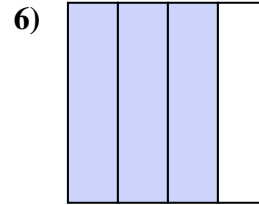
- A. tres cuartos
- B. un cuarto
- C. dos cuartos



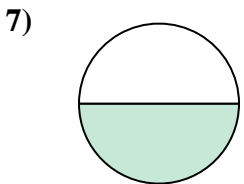
- A. dos mitades
- B. tres cuartos
- C. un cuarto



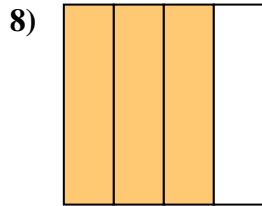
- A. tres cuartos
- B. un cuarto
- C. dos cuartos



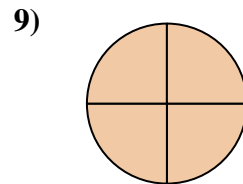
- A. tres cuartos
- B. tres cuartos
- C. una mitad



- A. dos cuartos
- B. dos mitades
- C. una mitad



- A. tres cuartos
- B. un cuarto
- C. dos mitades



- A. dos mitades
- B. tres cuartos
- C. tres cuartos

- 1.     **A**
- 2.     **A**
- 3.     **C**
- 4.     **A**
- 5.     **B**
- 6.     **A**
- 7.     **C**
- 8.     **A**
- 9.     **C**