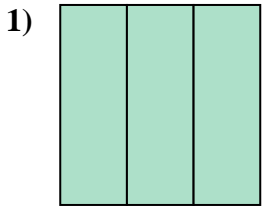


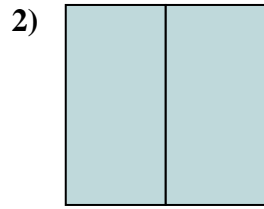


Determina cuál letra mejor describe a la porción sombreada.

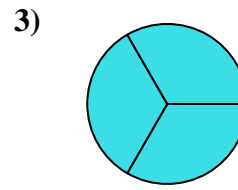
**Respuestas**



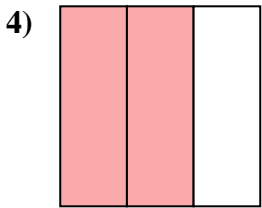
- A. tres cuartos
- B. tres tercios
- C. dos mitades



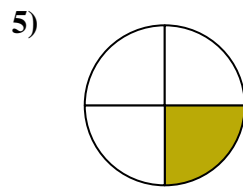
- A. tres cuartos
- B. dos mitades
- C. dos cuartos



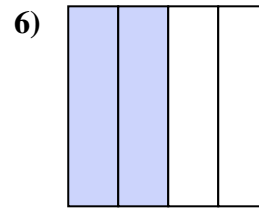
- A. tres cuartos
- B. dos cuartos
- C. tres tercios



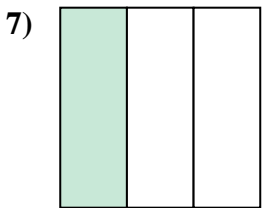
- A. dos tercios
- B. cuatro cuartos
- C. un cuarto



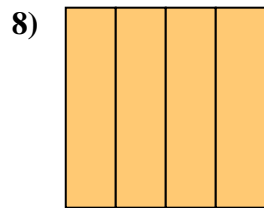
- A. dos cuartos
- B. un cuarto
- C. dos mitades



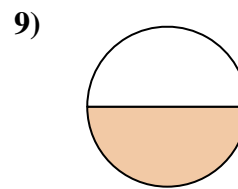
- A. un cuarto
- B. una mitad
- C. dos cuartos



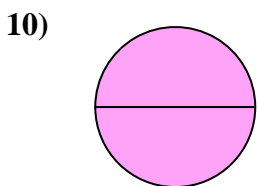
- A. cuatro cuartos
- B. un tercio
- C. un cuarto



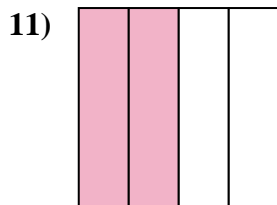
- A. cuatro cuartos
- B. una mitad
- C. dos mitades



- A. un cuarto
- B. dos mitades
- C. una mitad



- A. cuatro cuartos
- B. dos mitades
- C. tres cuartos



- A. dos cuartos
- B. un cuarto
- C. tres cuartos



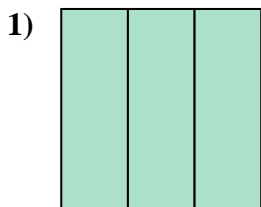
- A. tres cuartos
- B. una mitad
- C. tres cuartos

- 1. \_\_\_\_\_
- 2. \_\_\_\_\_
- 3. \_\_\_\_\_
- 4. \_\_\_\_\_
- 5. \_\_\_\_\_
- 6. \_\_\_\_\_
- 7. \_\_\_\_\_
- 8. \_\_\_\_\_
- 9. \_\_\_\_\_
- 10. \_\_\_\_\_
- 11. \_\_\_\_\_
- 12. \_\_\_\_\_

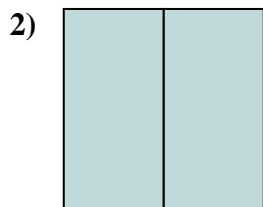


Determina cuál letra mejor describe a la porción sombreada.

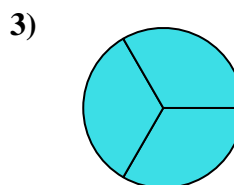
**Respuestas**



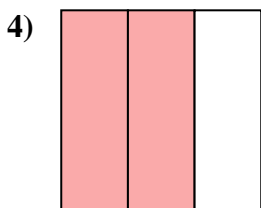
- A. tres cuartos
- B. tres tercios
- C. dos mitades



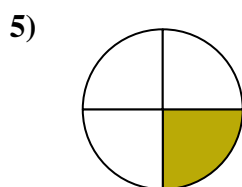
- A. tres cuartos
- B. dos mitades
- C. dos cuartos



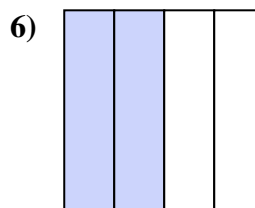
- A. tres cuartos
- B. dos cuartos
- C. tres tercios



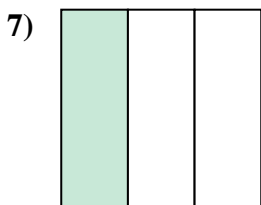
- A. dos tercios
- B. cuatro cuartos
- C. un cuarto



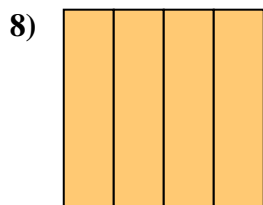
- A. dos cuartos
- B. un cuarto
- C. dos mitades



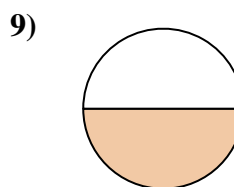
- A. un cuarto
- B. una mitad
- C. dos cuartos



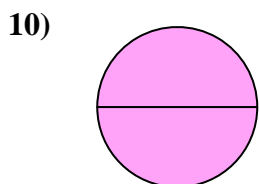
- A. cuatro cuartos
- B. un tercio
- C. un cuarto



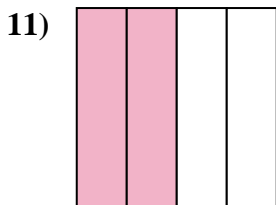
- A. cuatro cuartos
- B. una mitad
- C. dos mitades



- A. un cuarto
- B. dos mitades
- C. una mitad



- A. cuatro cuartos
- B. dos mitades
- C. tres cuartos



- A. dos cuartos
- B. un cuarto
- C. tres cuartos



- A. tres cuartos
- B. una mitad
- C. tres cuartos

- 1.     **B**
- 2.     **B**
- 3.     **C**
- 4.     **A**
- 5.     **B**
- 6.     **C**
- 7.     **B**
- 8.     **A**
- 9.     **C**
- 10.    **B**
- 11.    **A**
- 12.    **B**