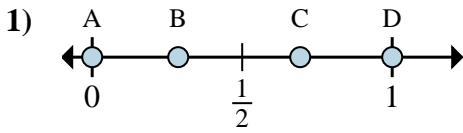


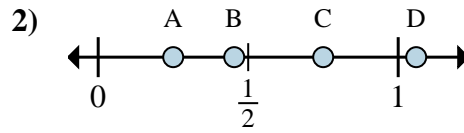


Determina cuál letra mejor muestra la ubicación de la fracción.

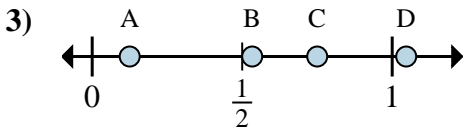
Respuestas



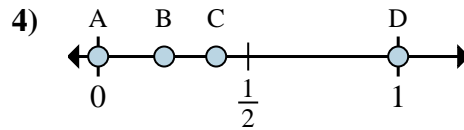
- a. ¿Qué letra representa mejor $\frac{0}{2}$
 b. ¿Qué letra representa mejor $\frac{2}{2}$



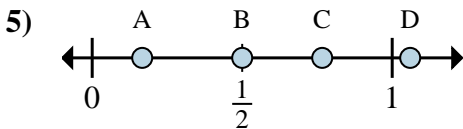
- a. ¿Qué letra representa mejor $\frac{1}{4}$
 b. ¿Qué letra representa mejor $\frac{3}{4}$



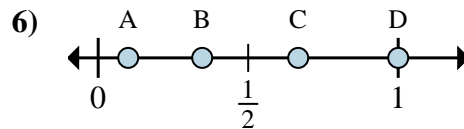
- a. ¿Qué letra representa mejor $\frac{6}{8}$
 b. ¿Qué letra representa mejor $\frac{1}{8}$



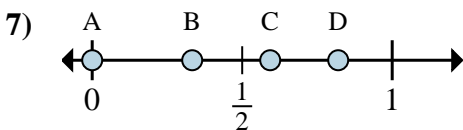
- a. ¿Qué letra representa mejor $\frac{0}{2}$
 b. ¿Qué letra representa mejor $\frac{2}{2}$



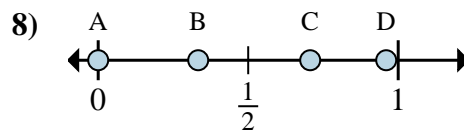
- a. ¿Qué letra representa mejor $\frac{3}{6}$
 b. ¿Qué letra representa mejor $\frac{1}{6}$



- a. ¿Qué letra representa mejor $\frac{2}{3}$
 b. ¿Qué letra representa mejor $\frac{3}{3}$



- a. ¿Qué letra representa mejor $\frac{0}{3}$
 b. ¿Qué letra representa mejor $\frac{1}{3}$



- a. ¿Qué letra representa mejor $\frac{0}{6}$
 b. ¿Qué letra representa mejor $\frac{2}{6}$

1. _____

2. _____

3. _____

4. _____

5. _____

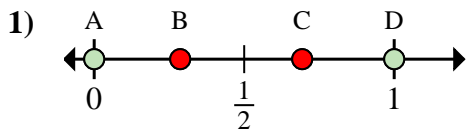
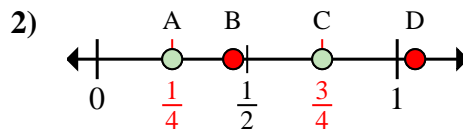
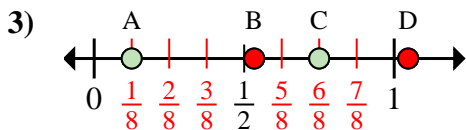
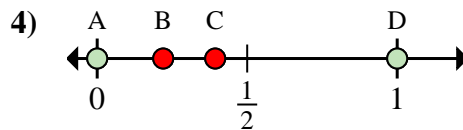
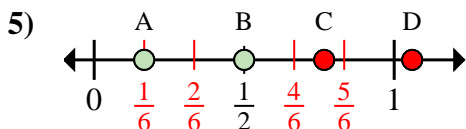
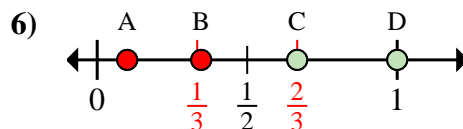
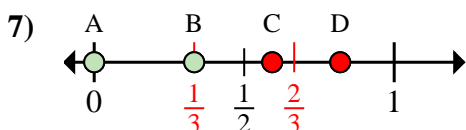
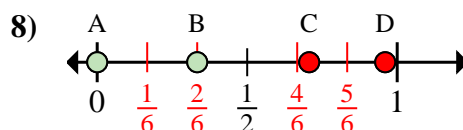
6. _____

7. _____

8. _____



Determina cuál letra mejor muestra la ubicación de la fracción.

Respuestasa. ¿Qué letra representa mejor $\frac{0}{2}$ b. ¿Qué letra representa mejor $\frac{2}{2}$ a. ¿Qué letra representa mejor $\frac{1}{4}$ b. ¿Qué letra representa mejor $\frac{3}{4}$ a. ¿Qué letra representa mejor $\frac{6}{8}$ b. ¿Qué letra representa mejor $\frac{1}{8}$ a. ¿Qué letra representa mejor $\frac{0}{2}$ b. ¿Qué letra representa mejor $\frac{2}{2}$ a. ¿Qué letra representa mejor $\frac{3}{6}$ b. ¿Qué letra representa mejor $\frac{1}{6}$ a. ¿Qué letra representa mejor $\frac{2}{3}$ b. ¿Qué letra representa mejor $\frac{3}{3}$ a. ¿Qué letra representa mejor $\frac{0}{3}$ b. ¿Qué letra representa mejor $\frac{1}{3}$ a. ¿Qué letra representa mejor $\frac{0}{6}$ b. ¿Qué letra representa mejor $\frac{2}{6}$ 1. **A** **D**2. **A** **C**3. **C** **A**4. **A** **D**5. **B** **A**6. **C** **D**7. **A** **B**8. **A** **B**