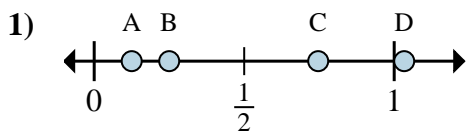
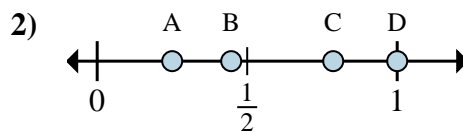
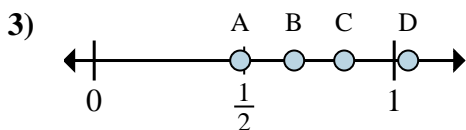
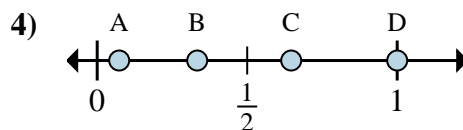
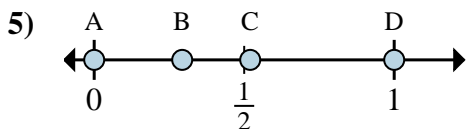
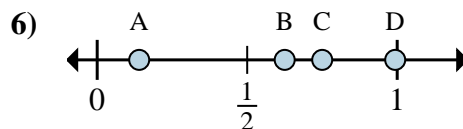
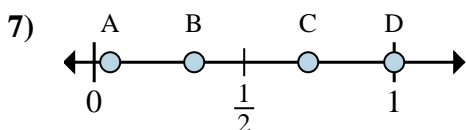
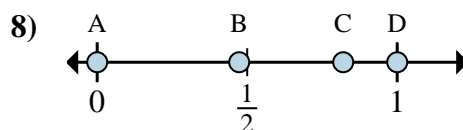


**Determina cuál letra mejor muestra la ubicación de la fracción.****Respuestas**a. ¿Qué letra representa mejor $\frac{1}{8}$ b. ¿Qué letra representa mejor $\frac{2}{8}$ a. ¿Qué letra representa mejor $\frac{4}{4}$ b. ¿Qué letra representa mejor $\frac{1}{4}$ a. ¿Qué letra representa mejor $\frac{5}{6}$ b. ¿Qué letra representa mejor $\frac{4}{6}$ a. ¿Qué letra representa mejor $\frac{3}{3}$ b. ¿Qué letra representa mejor $\frac{1}{3}$ a. ¿Qué letra representa mejor $\frac{0}{2}$ b. ¿Qué letra representa mejor $\frac{2}{2}$ a. ¿Qué letra representa mejor $\frac{6}{8}$ b. ¿Qué letra representa mejor $\frac{5}{8}$ a. ¿Qué letra representa mejor $\frac{1}{3}$ b. ¿Qué letra representa mejor $\frac{3}{3}$ a. ¿Qué letra representa mejor $\frac{0}{2}$ b. ¿Qué letra representa mejor $\frac{2}{2}$

1. _____

2. _____

3. _____

4. _____

5. _____

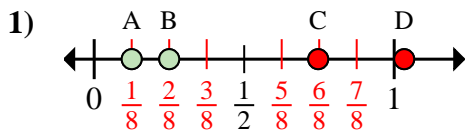
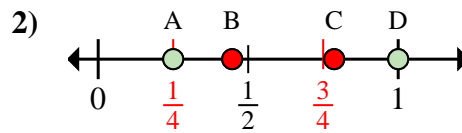
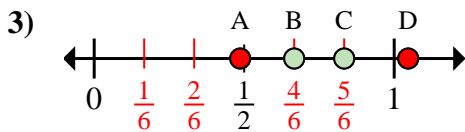
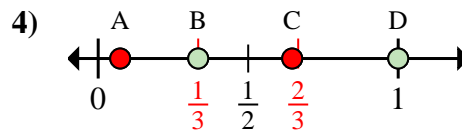
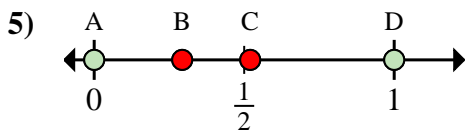
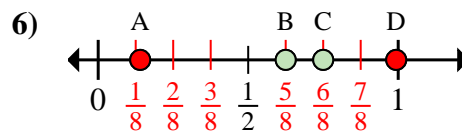
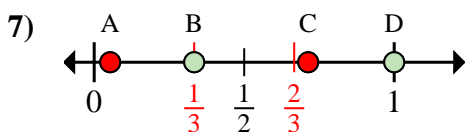
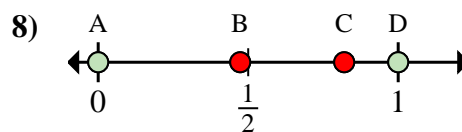
6. _____

7. _____

8. _____



Determina cuál letra mejor muestra la ubicación de la fracción.

Respuestasa. ¿Qué letra representa mejor $\frac{1}{8}$ b. ¿Qué letra representa mejor $\frac{2}{8}$ a. ¿Qué letra representa mejor $\frac{4}{4}$ b. ¿Qué letra representa mejor $\frac{1}{4}$ a. ¿Qué letra representa mejor $\frac{5}{6}$ b. ¿Qué letra representa mejor $\frac{4}{6}$ a. ¿Qué letra representa mejor $\frac{3}{3}$ b. ¿Qué letra representa mejor $\frac{1}{3}$ a. ¿Qué letra representa mejor $\frac{0}{2}$ b. ¿Qué letra representa mejor $\frac{2}{2}$ a. ¿Qué letra representa mejor $\frac{6}{8}$ b. ¿Qué letra representa mejor $\frac{5}{8}$ a. ¿Qué letra representa mejor $\frac{1}{3}$ b. ¿Qué letra representa mejor $\frac{3}{3}$ a. ¿Qué letra representa mejor $\frac{0}{2}$ b. ¿Qué letra representa mejor $\frac{2}{2}$ 1. A B2. D A3. C B4. D B5. A D6. C B7. B D8. A D