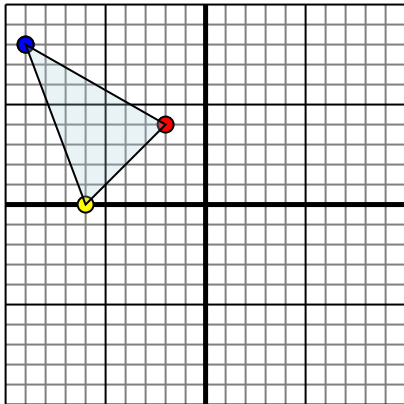




Reflejar cada figura como se describe.

1)

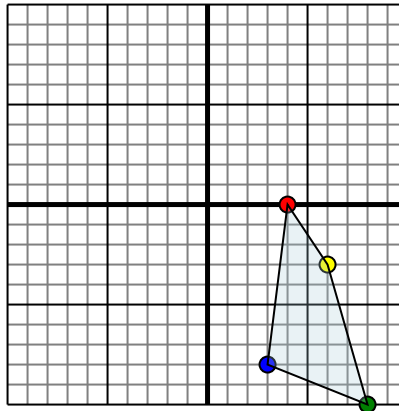


La figura de arriba tiene las siguientes coordenadas:

- A. (-2,4)
- B. (-6,0)
- C. (-9,8)

Refleja la figura sobre el eje X.

2)

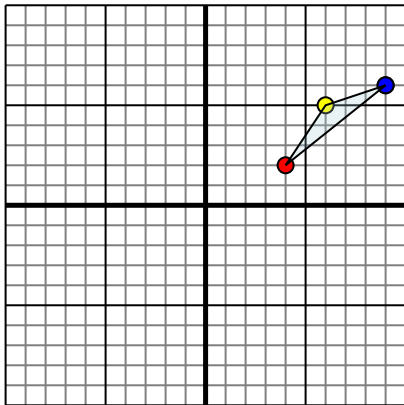


La figura de arriba tiene las siguientes coordenadas:

- A. (4,0)
- B. (6,-3)
- C. (8,-10)
- D. (3,-8)

Refleja la figura sobre el eje X.

3)

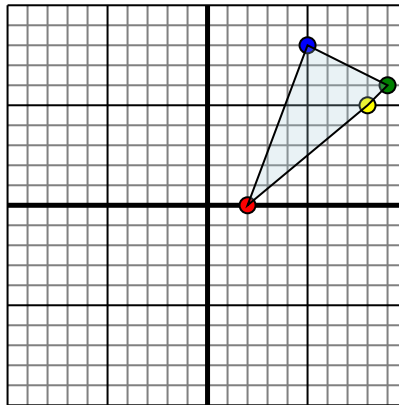


La figura de arriba tiene las siguientes coordenadas:

- A. (4,2)
- B. (6,5)
- C. (9,6)

Refleja la figura sobre el eje X.

4)



La figura de arriba tiene las siguientes coordenadas:

- A. (2,0)
- B. (8,5)
- C. (9,6)
- D. (5,8)

Refleja la figura sobre el eje Y.

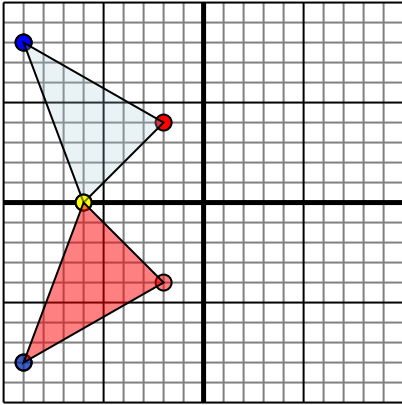
**Respuestas**

- 1. \_\_\_\_\_
- 2. \_\_\_\_\_
- 3. \_\_\_\_\_
- 4. \_\_\_\_\_



Reflejar cada figura como se describe.

1)

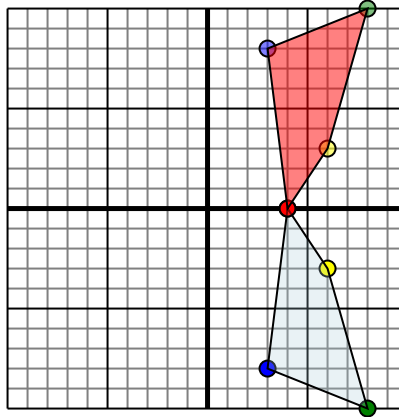


La figura de arriba tiene las siguientes coordenadas:

- A. (-2,4)
- B. (-6,0)
- C. (-9,8)

Refleja la figura sobre el eje X.

2)

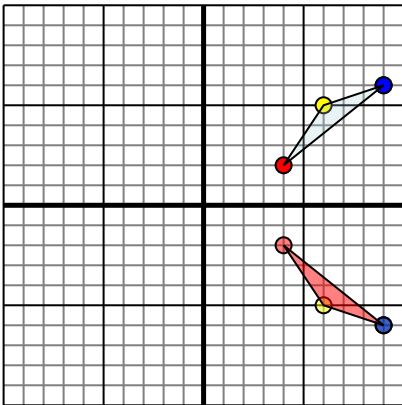


La figura de arriba tiene las siguientes coordenadas:

- A. (4,0)
- B. (6,-3)
- C. (8,-10)
- D. (3,-8)

Refleja la figura sobre el eje X.

3)

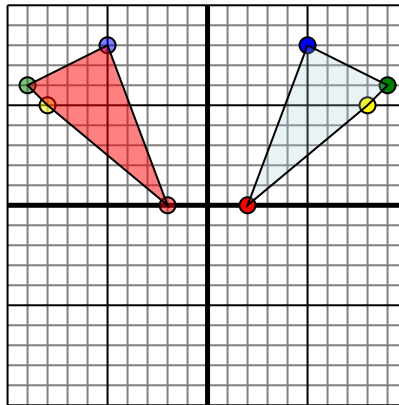


La figura de arriba tiene las siguientes coordenadas:

- A. (4,2)
- B. (6,5)
- C. (9,6)

Refleja la figura sobre el eje X.

4)



La figura de arriba tiene las siguientes coordenadas:

- A. (2,0)
- B. (8,5)
- C. (9,6)
- D. (5,8)

Refleja la figura sobre el eje Y.

**Respuestas**

1. -2,-4 -6,0 -9,-8 gráfica
2. 4,0 6,3 8,10 3,8 gráfica
3. 4,-2 6,-5 9,-6 gráfica
4. -2,0 -8,5 -9,6 -5,8 gráfica