








Medir el ancho de cada bloque en pulgadas y en centímetros.


Ej) 


1) 


2) 


3) 


4) 

5) 

6) 

7) 

8) 

9) 

**Respuestas**

Ej. 5 12 - 13

1. \_\_\_\_\_

2. \_\_\_\_\_

3. \_\_\_\_\_

4. \_\_\_\_\_

5. \_\_\_\_\_

6. \_\_\_\_\_


7. \_\_\_\_\_


8. \_\_\_\_\_


9. \_\_\_\_\_





Medir el ancho de cada bloque en pulgadas y en centímetros.


Ej) 


1) 


2) 


3) 


4) 

5) 

6) 

7) 

8) 

9) 

**Respuestas**

Ej. 5 12 - 13

1. 2 1/2 6 - 7

2. 3 1/2 8 - 9

3. 4 10 - 11

4. 4 1/2 11 - 12

5. 3 7 - 8

6. 1 1/2 3 - 4

7. 2 5 - 6

8. 0 1/2 1 - 2

9. 1 2 - 3