




Medir el ancho y alto de cada bloque en pulgadas y en centímetros

Ej)



1)



2)



3)



4)



**Respuestas**

Ej. 3 1 7.6 2.5

1. \_\_\_\_\_

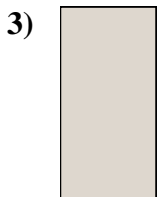

2. \_\_\_\_\_

3. \_\_\_\_\_

4. \_\_\_\_\_



Medir el ancho y alto de cada bloque en pulgadas y en centímetros



**Respuestas**

Ej. 3 1 7.6 2.5

1. 5 0 1/2 12.7 1.3

2. 1 1/2 0 1/2 3.8 1.3

3. 0 1/2 1 1.3 2.5

4. 4 1/2 0 1/2 11.4 1.3