



Mida cada ITEM punta a punta y luego coloque sus resultados en la gráfica de línea.

Respuestas

Ej)



1)



2)



3)



Ej.

$\frac{1}{2}$

1.

2.

3.

4.

5.

6.

7.

8.

9.

10.

11.

4)



5)



6)



7)



8)



9)



10)



11)



Line Plot

$\frac{1}{4}$

$\frac{1}{2}$

$\frac{3}{4}$

1

$1\frac{1}{4}$


$1\frac{1}{2}$


$1\frac{3}{4}$


2





Mida cada ITEM punta a punta y luego coloque sus resultados en la gráfica de línea.


Ej)  



1)  



2)  



3)  



4)  



5)  



6)  


7)  


8)  


9)  


10)  


11)  


- Respuestas
- Ej.

$\frac{1}{2}$
1.

$1\frac{1}{2}$
2.

$1\frac{1}{4}$
3.

$1\frac{3}{4}$
4.

1
5.

$\frac{3}{4}$
6.

2
7.

$\frac{1}{4}$
8.

$\frac{1}{4}$
9.

1
10.

$1\frac{1}{4}$
11.

$\frac{3}{4}$

