

Indica el número de monedas de quarters (25 ¢), dimes (10 ¢), nickels (5 ¢) y pennies (1 ¢).

Ej)



Ej. 2 3 2 2

1)



1. _____

2)




2. _____

3)



3. _____

4)



4. _____

5)



5. _____

6)



6. _____

7)



7. _____

8)



8. _____

9)



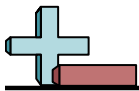
9. _____

10)



10. _____

Respuestas



Indica el número de monedas de quarters (25 ¢), dimes (10 ¢), nickels (5 ¢) y pennies (1 ¢).

Ej)

1)

2)

3)

4)

5)

6)

7)

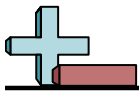
8)

9)

10)

Respuestas

Ej.	<u>2</u>	<u>3</u>	<u>2</u>	<u>2</u>
1.	<u>3</u>	<u>2</u>	<u>1</u>	<u>3</u>
2.	<u>2</u>	<u>2</u>	<u>2</u>	<u>3</u>
3.	<u>3</u>	<u>2</u>	<u>2</u>	<u>2</u>
4.	<u>2</u>	<u>2</u>	<u>2</u>	<u>3</u>
5.	<u>2</u>	<u>2</u>	<u>3</u>	<u>2</u>
6.	<u>2</u>	<u>2</u>	<u>4</u>	<u>1</u>
7.	<u>1</u>	<u>4</u>	<u>2</u>	<u>2</u>
8.	<u>3</u>	<u>1</u>	<u>2</u>	<u>3</u>
9.	<u>3</u>	<u>2</u>	<u>2</u>	<u>2</u>
10.	<u>1</u>	<u>4</u>	<u>3</u>	<u>1</u>



Indica el número de monedas de quarters (25 ¢), dimes (10 ¢), nickels (5 ¢) y pennies (1 ¢).

Ej)

1)

2)

3)

4)

5)

6)

7)

8)

9)

10)

Respuestas

Ej. 1 1 4 3

1. _____

2. _____

3. _____

4. _____

5. _____

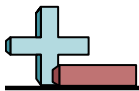
6. _____

7. _____

8. _____

9. _____

10. _____



Indica el número de monedas de quarters (25 ¢), dimes (10 ¢), nickels (5 ¢) y pennies (1 ¢).

Ej)

1)

2)

3)

4)

5)

6)

7)

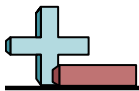
8)

9)

10)

Respuestas

Ej.	<u>1</u>	<u>1</u>	<u>4</u>	<u>3</u>
1.	<u>3</u>	<u>2</u>	<u>1</u>	<u>3</u>
2.	<u>3</u>	<u>2</u>	<u>2</u>	<u>2</u>
3.	<u>2</u>	<u>2</u>	<u>2</u>	<u>3</u>
4.	<u>1</u>	<u>3</u>	<u>3</u>	<u>2</u>
5.	<u>1</u>	<u>2</u>	<u>2</u>	<u>4</u>
6.	<u>2</u>	<u>2</u>	<u>3</u>	<u>2</u>
7.	<u>4</u>	<u>2</u>	<u>2</u>	<u>1</u>
8.	<u>3</u>	<u>3</u>	<u>1</u>	<u>2</u>
9.	<u>1</u>	<u>2</u>	<u>4</u>	<u>2</u>
10.	<u>1</u>	<u>2</u>	<u>3</u>	<u>3</u>



Conte el número de monedas de quarters (25 ¢), dimes (10 ¢), nickels (5 ¢) y pennies (1 ¢).

Ej)




Ej. 3 2 2 2

1)



1. _____

2)



2. _____

3)



3. _____

4)



4. _____

5)



5. _____

6)



6. _____

7)



7. _____

8)



8. _____

9)



9. _____

10)



10. _____

Respuestas



Conte el número de monedas de quarters (25 ¢), dimes (10 ¢), nickels (5 ¢) y pennies (1 ¢).

Ej)

1)

2)

3)

4)

5)

6)

7)

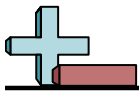
8)

9)

10)

Respuestas

Ej.	<u>3</u>	<u>2</u>	<u>2</u>	<u>2</u>
1.	<u>2</u>	<u>2</u>	<u>3</u>	<u>2</u>
2.	<u>2</u>	<u>2</u>	<u>2</u>	<u>3</u>
3.	<u>2</u>	<u>5</u>	<u>1</u>	<u>1</u>
4.	<u>2</u>	<u>3</u>	<u>2</u>	<u>2</u>
5.	<u>2</u>	<u>2</u>	<u>2</u>	<u>3</u>
6.	<u>2</u>	<u>4</u>	<u>1</u>	<u>2</u>
7.	<u>3</u>	<u>1</u>	<u>1</u>	<u>4</u>
8.	<u>3</u>	<u>2</u>	<u>2</u>	<u>2</u>
9.	<u>3</u>	<u>2</u>	<u>1</u>	<u>3</u>
10.	<u>1</u>	<u>2</u>	<u>2</u>	<u>4</u>



Conte el número de monedas de quarters (25 ¢), dimes (10 ¢), nickels(5 ¢) y pennies (1 ¢).

Ej)



Ej. 3 2 1 3

1)



1. _____

2)



2. _____

3)



3. _____

4)



4. _____

5)



5. _____

6)



6. _____

7)



7. _____

8)



8. _____

9)



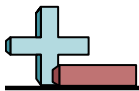
9. _____

10)



10. _____

Respuestas



ente el número de monedas de quarters (25 ¢), dimes (10 ¢), nickels(5 ¢) y pennies (1 ¢).

Ej)

1)

2)

3)

4)

5)

6)

7)

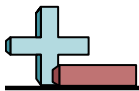
8)

9)

10)

Respuestas

Ej.	<u>3</u>	<u>2</u>	<u>1</u>	<u>3</u>
1.	<u>2</u>	<u>3</u>	<u>3</u>	<u>1</u>
2.	<u>1</u>	<u>3</u>	<u>3</u>	<u>2</u>
3.	<u>2</u>	<u>2</u>	<u>2</u>	<u>3</u>
4.	<u>3</u>	<u>2</u>	<u>2</u>	<u>2</u>
5.	<u>2</u>	<u>4</u>	<u>1</u>	<u>2</u>
6.	<u>2</u>	<u>2</u>	<u>3</u>	<u>2</u>
7.	<u>2</u>	<u>2</u>	<u>3</u>	<u>2</u>
8.	<u>2</u>	<u>1</u>	<u>3</u>	<u>3</u>
9.	<u>2</u>	<u>4</u>	<u>1</u>	<u>2</u>
10.	<u>1</u>	<u>3</u>	<u>1</u>	<u>4</u>



Indica el número de monedas de quarters (25 ¢), dimes (10 ¢), nickels (5 ¢) y pennies (1 ¢).

Ej)



Ej. 2 2 2 3

1)



1. _____

2)




2. _____

3)



3. _____

4)




4. _____

5)



5. _____

6)



6. _____

7)




7. _____

8)



8. _____

9)



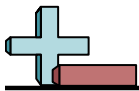
9. _____

10)



10. _____

Respuestas



Indica el número de monedas de quarters (25 ¢), dimes (10 ¢), nickels (5 ¢) y pennies (1 ¢).

Ej)

1)

2)

3)

4)

5)

6)

7)

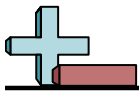
8)

9)

10)

Respuestas

Ej.	<u>2</u>	<u>2</u>	<u>2</u>	<u>3</u>
1.	<u>5</u>	<u>1</u>	<u>1</u>	<u>2</u>
2.	<u>2</u>	<u>2</u>	<u>2</u>	<u>3</u>
3.	<u>1</u>	<u>5</u>	<u>2</u>	<u>1</u>
4.	<u>3</u>	<u>1</u>	<u>2</u>	<u>3</u>
5.	<u>3</u>	<u>2</u>	<u>2</u>	<u>2</u>
6.	<u>3</u>	<u>2</u>	<u>2</u>	<u>2</u>
7.	<u>2</u>	<u>2</u>	<u>3</u>	<u>2</u>
8.	<u>2</u>	<u>3</u>	<u>2</u>	<u>2</u>
9.	<u>2</u>	<u>3</u>	<u>2</u>	<u>2</u>
10.	<u>1</u>	<u>4</u>	<u>3</u>	<u>1</u>



Conte el número de monedas de quarters (25 ¢), dimes (10 ¢), nickels (5 ¢) y pennies (1 ¢).

Ej)

1)

2)

3)

4)

5)

6)

7)

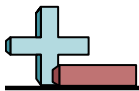
8)

9)

10)

Respuestas

Ej.	<u>2</u>	<u>2</u>	<u>3</u>	<u>2</u>
1.	_____	_____	_____	_____
2.	_____	_____	_____	_____
3.	_____	_____	_____	_____
4.	_____	_____	_____	_____
5.	_____	_____	_____	_____
6.	_____	_____	_____	_____
7.	_____	_____	_____	_____
8.	_____	_____	_____	_____
9.	_____	_____	_____	_____
10.	_____	_____	_____	_____



Indica el número de monedas de quarters (25 ¢), dimes (10 ¢), nickels (5 ¢) y pennies (1 ¢).

Ej)

1)

2)

3)

4)

5)

6)

7)

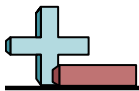
8)

9)

10)

Respuestas

Ej.	<u>2</u>	<u>2</u>	<u>3</u>	<u>2</u>
1.	<u>2</u>	<u>2</u>	<u>3</u>	<u>2</u>
2.	<u>3</u>	<u>3</u>	<u>2</u>	<u>1</u>
3.	<u>2</u>	<u>2</u>	<u>2</u>	<u>3</u>
4.	<u>3</u>	<u>4</u>	<u>1</u>	<u>1</u>
5.	<u>4</u>	<u>2</u>	<u>1</u>	<u>2</u>
6.	<u>1</u>	<u>2</u>	<u>3</u>	<u>3</u>
7.	<u>2</u>	<u>3</u>	<u>1</u>	<u>3</u>
8.	<u>2</u>	<u>2</u>	<u>3</u>	<u>2</u>
9.	<u>2</u>	<u>2</u>	<u>2</u>	<u>3</u>
10.	<u>2</u>	<u>2</u>	<u>2</u>	<u>3</u>



Indica el número de monedas de quarters (25 ¢), dimes (10 ¢), nickels (5 ¢) y pennies (1 ¢).

Ej)

1)

2)

3)

4)

5)

6)

7)

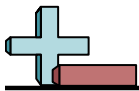
8)

9)

10)

Respuestas

Ej.	<u>2</u>	<u>1</u>	<u>2</u>	<u>4</u>
1.	_____	_____	_____	_____
2.	_____	_____	_____	_____
3.	_____	_____	_____	_____
4.	_____	_____	_____	_____
5.	_____	_____	_____	_____
6.	_____	_____	_____	_____
7.	_____	_____	_____	_____
8.	_____	_____	_____	_____
9.	_____	_____	_____	_____
10.	_____	_____	_____	_____



Indica el número de monedas de quarters (25 ¢), dimes (10 ¢), nickels(5 ¢) y pennies (1 ¢).

Ej)

1)

2)

3)

4)

5)

6)

7)

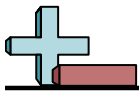
8)

9)

10)

Respuestas

Ej.	<u>2</u>	<u>1</u>	<u>2</u>	<u>4</u>
1.	<u>2</u>	<u>1</u>	<u>3</u>	<u>3</u>
2.	<u>1</u>	<u>2</u>	<u>3</u>	<u>3</u>
3.	<u>3</u>	<u>4</u>	<u>1</u>	<u>1</u>
4.	<u>2</u>	<u>2</u>	<u>3</u>	<u>2</u>
5.	<u>3</u>	<u>1</u>	<u>2</u>	<u>3</u>
6.	<u>1</u>	<u>4</u>	<u>2</u>	<u>2</u>
7.	<u>3</u>	<u>2</u>	<u>2</u>	<u>2</u>
8.	<u>2</u>	<u>3</u>	<u>1</u>	<u>3</u>
9.	<u>2</u>	<u>3</u>	<u>3</u>	<u>1</u>
10.	<u>1</u>	<u>3</u>	<u>4</u>	<u>1</u>



Indica el número de monedas de quarters (25 ¢), dimes (10 ¢), nickels (5 ¢) y pennies (1 ¢).

Ej)

1)

2)

3)

4)

5)

6)

7)

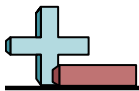
8)

9)

10)

Respuestas

Ej.	<u>1</u>	<u>2</u>	<u>3</u>	<u>3</u>
1.	_____	_____	_____	_____
2.	_____	_____	_____	_____
3.	_____	_____	_____	_____
4.	_____	_____	_____	_____
5.	_____	_____	_____	_____
6.	_____	_____	_____	_____
7.	_____	_____	_____	_____
8.	_____	_____	_____	_____
9.	_____	_____	_____	_____
10.	_____	_____	_____	_____



Conte el número de monedas de quarters (25 ¢), dimes (10 ¢), nickels(5 ¢) y pennies (1 ¢).

Ej)

1)

2)

3)

4)

5)

6)

7)

8)

9)

10)

Respuestas

Ej.	<u>1</u>	<u>2</u>	<u>3</u>	<u>3</u>
1.	<u>3</u>	<u>1</u>	<u>3</u>	<u>2</u>
2.	<u>2</u>	<u>2</u>	<u>2</u>	<u>3</u>
3.	<u>2</u>	<u>3</u>	<u>1</u>	<u>3</u>
4.	<u>2</u>	<u>3</u>	<u>2</u>	<u>2</u>
5.	<u>2</u>	<u>3</u>	<u>2</u>	<u>2</u>
6.	<u>3</u>	<u>3</u>	<u>1</u>	<u>2</u>
7.	<u>2</u>	<u>3</u>	<u>2</u>	<u>2</u>
8.	<u>2</u>	<u>2</u>	<u>3</u>	<u>2</u>
9.	<u>2</u>	<u>3</u>	<u>2</u>	<u>2</u>
10.	<u>2</u>	<u>2</u>	<u>3</u>	<u>2</u>



Conte el número de monedas de quarters (25 ¢), dimes (10 ¢), nickels(5 ¢) y pennies (1 ¢).

Ej)

1)

2)

3)

4)

5)

6)

7)

8)

9)

10)

Respuestas

Ej. 1 2 3 3

1. _____

2. _____

3. _____

4. _____

5. _____

6. _____

7. _____

8. _____

9. _____

10. _____



Indica el número de monedas de quarters (25 ¢), dimes (10 ¢), nickels(5 ¢) y pennies (1 ¢).

Ej)

1)

2)

3)

4)

5)

6)

7)

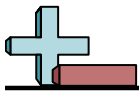
8)

9)

10)

Respuestas

Ej.	<u>1</u>	<u>2</u>	<u>3</u>	<u>3</u>
1.	<u>2</u>	<u>2</u>	<u>3</u>	<u>2</u>
2.	<u>2</u>	<u>2</u>	<u>2</u>	<u>3</u>
3.	<u>3</u>	<u>3</u>	<u>1</u>	<u>2</u>
4.	<u>2</u>	<u>2</u>	<u>3</u>	<u>2</u>
5.	<u>1</u>	<u>3</u>	<u>3</u>	<u>2</u>
6.	<u>2</u>	<u>1</u>	<u>3</u>	<u>3</u>
7.	<u>3</u>	<u>3</u>	<u>2</u>	<u>1</u>
8.	<u>4</u>	<u>2</u>	<u>2</u>	<u>1</u>
9.	<u>2</u>	<u>2</u>	<u>3</u>	<u>2</u>
10.	<u>1</u>	<u>5</u>	<u>1</u>	<u>2</u>



Indica el número de monedas de quarters (25 ¢), dimes (10 ¢), nickels (5 ¢) y pennies (1 ¢).

Respuestas

Ej)

1)

2)

3)

4)

5)

6)

7)

8)

9)

10)

Ej. 3 1 3 2

1. _____

2. _____

3. _____

4. _____

5. _____

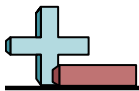
6. _____

7. _____

8. _____

9. _____

10. _____



ente el número de monedas de quarters (25 ¢), dimes (10 ¢), nickels(5 ¢) y pennies (1 ¢).

Ej)

1)

2)

3)

4)

5)

6)

7)

8)

9)

10)

Respuestas

Ej.	<u>3</u>	<u>1</u>	<u>3</u>	<u>2</u>
1.	<u>2</u>	<u>2</u>	<u>2</u>	<u>3</u>
2.	<u>2</u>	<u>3</u>	<u>2</u>	<u>2</u>
3.	<u>1</u>	<u>4</u>	<u>2</u>	<u>2</u>
4.	<u>1</u>	<u>3</u>	<u>1</u>	<u>4</u>
5.	<u>1</u>	<u>3</u>	<u>3</u>	<u>2</u>
6.	<u>1</u>	<u>4</u>	<u>2</u>	<u>2</u>
7.	<u>3</u>	<u>3</u>	<u>2</u>	<u>1</u>
8.	<u>3</u>	<u>3</u>	<u>2</u>	<u>1</u>
9.	<u>2</u>	<u>3</u>	<u>2</u>	<u>2</u>
10.	<u>2</u>	<u>2</u>	<u>3</u>	<u>2</u>