




Resuelve cada problema.


Respuestas

1) ¿Qué letra muestra mejor -82?




1. \_\_\_\_\_

2) ¿Qué letra muestra mejor -89?




2. \_\_\_\_\_

3) ¿Qué letra muestra mejor -41?



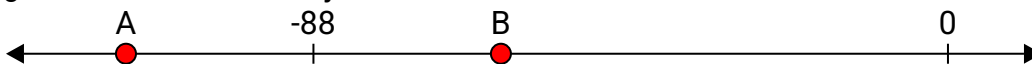
3. \_\_\_\_\_

4) ¿Qué letra muestra mejor -125?




4. \_\_\_\_\_

5) ¿Qué letra muestra mejor -62?




5. \_\_\_\_\_

6) ¿Qué letra muestra mejor -16?




6. \_\_\_\_\_

7) ¿Qué letra muestra mejor -95?




7. \_\_\_\_\_

8) ¿Qué letra muestra mejor -121?



8. \_\_\_\_\_

9) ¿Qué letra muestra mejor -95?



9. \_\_\_\_\_

10) ¿Qué letra muestra mejor -118?




10. \_\_\_\_\_




Resuelve cada problema.

Respuestas


1) ¿Qué letra muestra mejor -82?

1. **A**


2) ¿Qué letra muestra mejor -89?

2. **A**

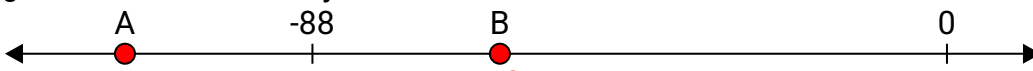
3) ¿Qué letra muestra mejor -41?

3. **B**

4) ¿Qué letra muestra mejor -125?

4. **A**


5) ¿Qué letra muestra mejor -62?

5. **B**


6) ¿Qué letra muestra mejor -16?

6. **B**


7) ¿Qué letra muestra mejor -95?

7. **A**


8) ¿Qué letra muestra mejor -121?

8. **A**

9) ¿Qué letra muestra mejor -95?

9. **A**

10) ¿Qué letra muestra mejor -118?

10. **A**