




Resuelve cada problema.

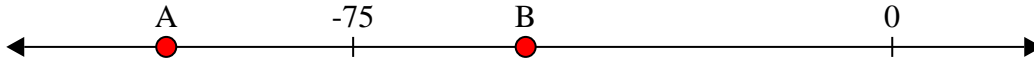
Respuestas

1) ¿Qué letra representa mejor -24




1. _____

2) ¿Qué letra representa mejor -101



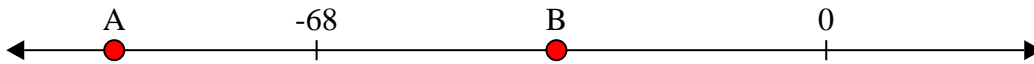
2. _____

3) ¿Qué letra representa mejor -83




3. _____

4) ¿Qué letra representa mejor -95




4. _____

5) ¿Qué letra representa mejor -86



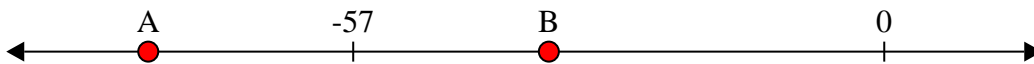
5. _____

6) ¿Qué letra representa mejor -112




6. _____

7) ¿Qué letra representa mejor -79




7. _____

8) ¿Qué letra representa mejor -10



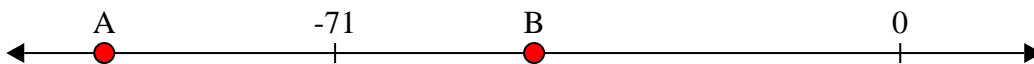
8. _____

9) ¿Qué letra representa mejor -27



9. _____

10) ¿Qué letra representa mejor -100



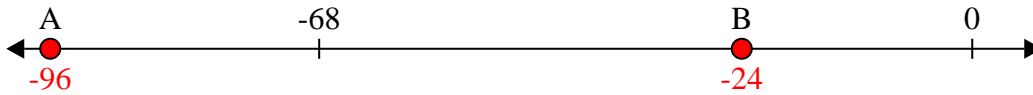
10. _____



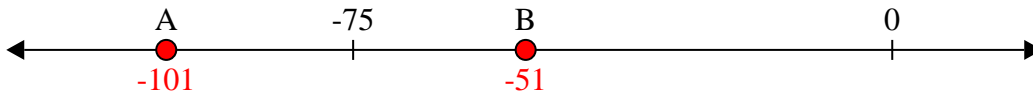
Resuelve cada problema.

Respuestas

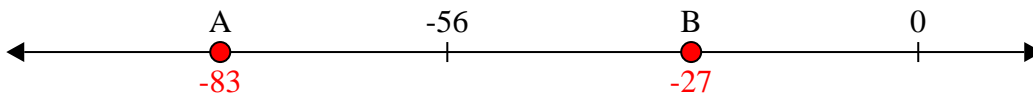
1) ¿Qué letra representa mejor -24

1. **B**

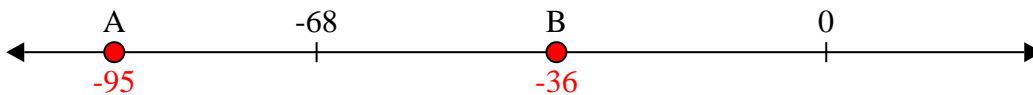
2) ¿Qué letra representa mejor -101

2. **A**


3) ¿Qué letra representa mejor -83

3. **A**


4) ¿Qué letra representa mejor -95

4. **A**

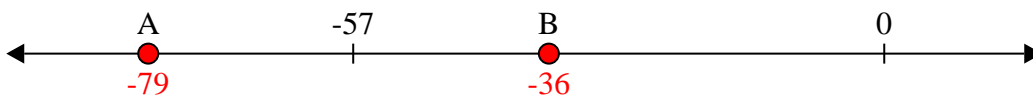
5) ¿Qué letra representa mejor -86

5. **A**


6) ¿Qué letra representa mejor -112

6. **A**

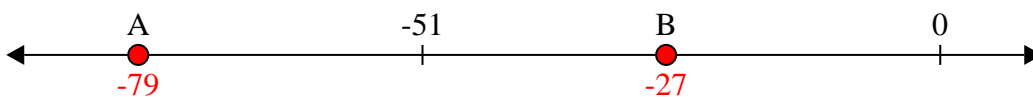
7) ¿Qué letra representa mejor -79

7. **A**

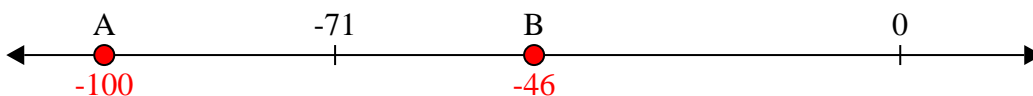
8) ¿Qué letra representa mejor -10

8. **B**

9) ¿Qué letra representa mejor -27

9. **B**

10) ¿Qué letra representa mejor -100

10. **A**