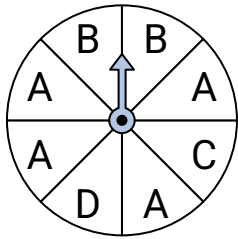




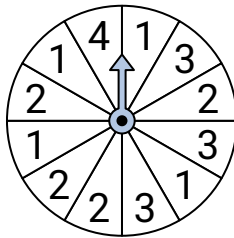
Resuelve cada problema.

**Respuestas**

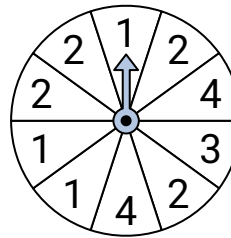
- 1) ¿Qué letra es la más probable en la ruleta?



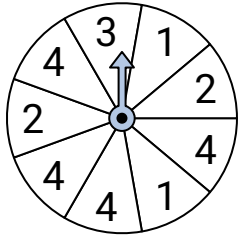
- 2) ¿Qué número es el menos probable en la ruleta?



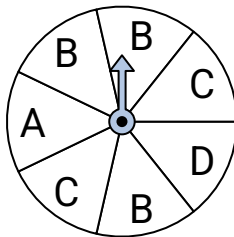
- 3) ¿Qué número es el menos probable en la ruleta?



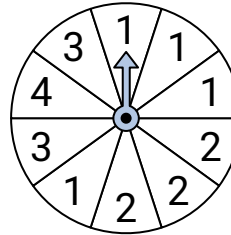
- 4) ¿Qué número es el más probable en la ruleta?



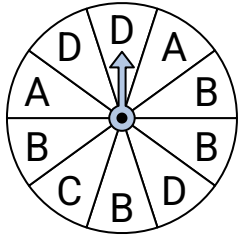
- 5) ¿Qué dos letras tienen la misma probabilidad en la ruleta?



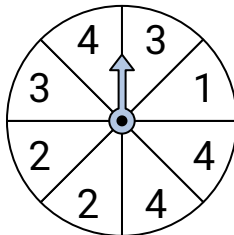
- 6) ¿Qué número es el más probable en la ruleta?



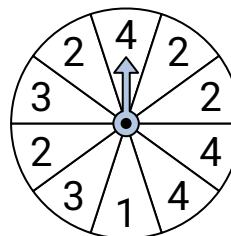
- 7) ¿Qué letra es la menos probable en la ruleta?




- 8) ¿Qué dos números tienen la misma probabilidad en la ruleta?



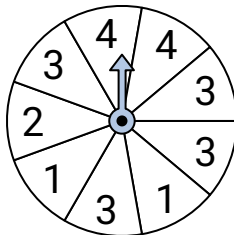
- 9) ¿Qué número es el menos probable en la ruleta?



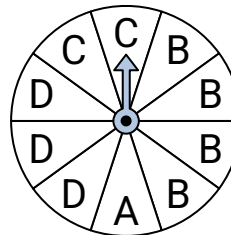
- 10) ¿Qué número es el menos probable en la ruleta?



- 11) ¿Qué número es el más probable en la ruleta?



- 12) ¿Qué letra es la más probable en la ruleta?



1. \_\_\_\_\_

2. \_\_\_\_\_

3. \_\_\_\_\_

4. \_\_\_\_\_

5. \_\_\_\_\_

6. \_\_\_\_\_

7. \_\_\_\_\_

8. \_\_\_\_\_

9. \_\_\_\_\_

10. \_\_\_\_\_

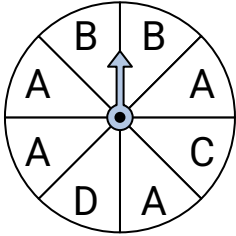
11. \_\_\_\_\_

12. \_\_\_\_\_

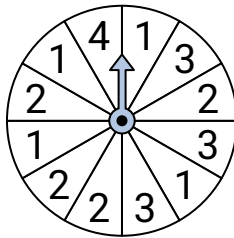


Resuelve cada problema.

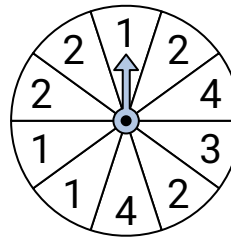
- 1) ¿Qué letra es la más probable en la ruleta?



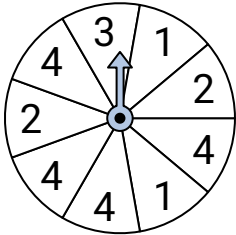
- 2) ¿Qué número es el menos probable en la ruleta?



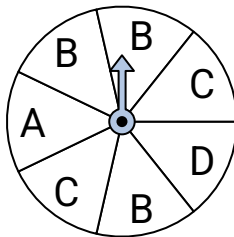
- 3) ¿Qué número es el menos probable en la ruleta?



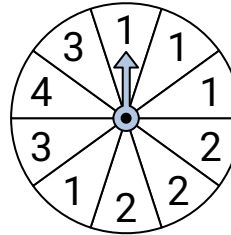
- 4) ¿Qué número es el más probable en la ruleta?



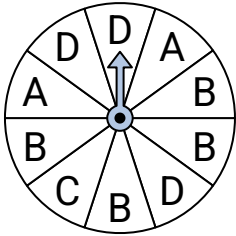
- 5) ¿Qué dos letras tienen la misma probabilidad en la ruleta?



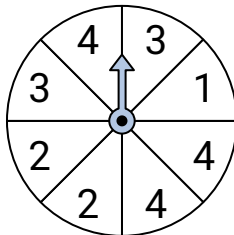
- 6) ¿Qué número es el más probable en la ruleta?



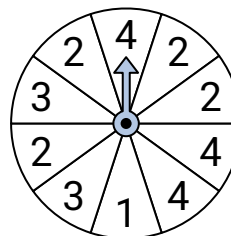
- 7) ¿Qué letra es la menos probable en la ruleta?




- 8) ¿Qué dos números tienen la misma probabilidad en la ruleta?



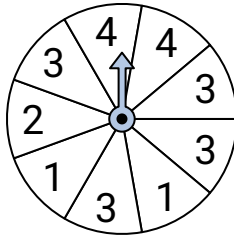
- 9) ¿Qué número es el menos probable en la ruleta?



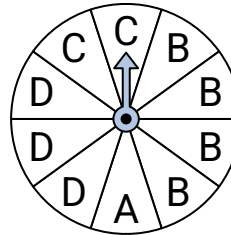
- 10) ¿Qué número es el menos probable en la ruleta?



- 11) ¿Qué número es el más probable en la ruleta?



- 12) ¿Qué letra es la más probable en la ruleta?

**Respuestas**

1. **A**
2. **4**
3. **3**
4. **4**
5. **A & D**
6. **1**
7. **C**
8. **2 & 3**
9. **1**
10. **3**
11. **3**
12. **B**