
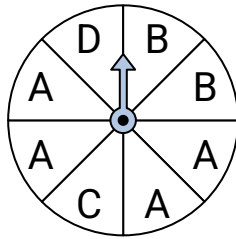


**Resuelve cada problema.**

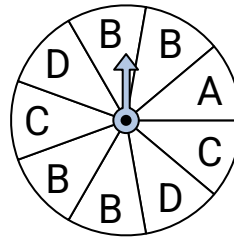
- 1) ¿Qué número es el menos probable en la ruleta?



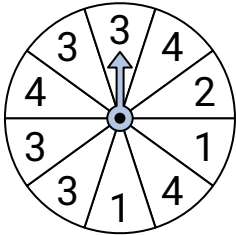
- 2) ¿Qué letra es la más probable en la ruleta?



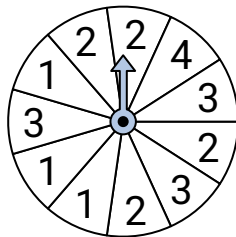
- 3) ¿Qué letra es la más probable en la ruleta?



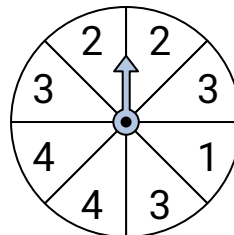
- 4) ¿Qué número es el más probable en la ruleta?



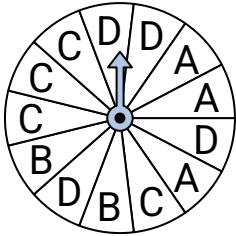
- 5) ¿Qué número es el menos probable en la ruleta?



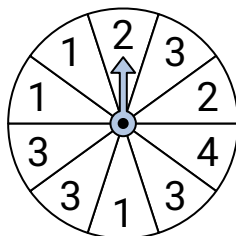
- 6) ¿Qué dos números tienen la misma probabilidad en la ruleta?



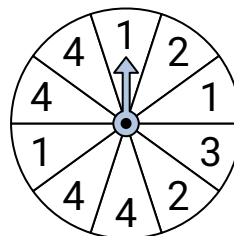
- 7) ¿Qué letra es la menos probable en la ruleta?



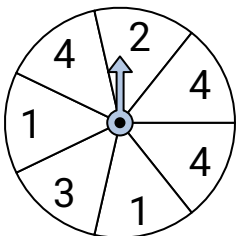
- 8) ¿Qué número es el menos probable en la ruleta?



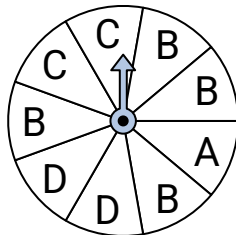
- 9) ¿Qué número es el menos probable en la ruleta?



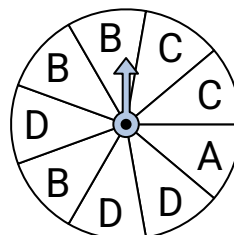
- 10) ¿Qué dos números tienen la misma probabilidad en la ruleta?



- 11) ¿Qué letra es la más probable en la ruleta?



- 12) ¿Qué dos letras tienen la misma probabilidad en la ruleta?


**Respuestas**

1. _____
2. _____
3. _____
4. _____
5. _____
6. _____
7. _____
8. _____
9. _____
10. _____
11. _____
12. _____

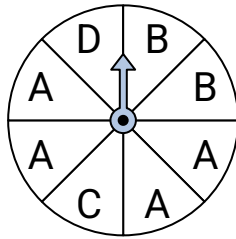


Resuelve cada problema.

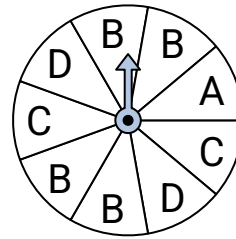
- 1) ¿Qué número es el menos probable en la ruleta?



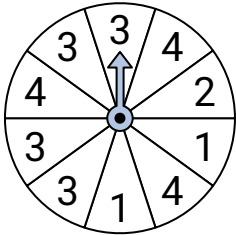
- 2) ¿Qué letra es la más probable en la ruleta?



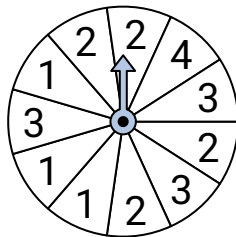
- 3) ¿Qué letra es la más probable en la ruleta?



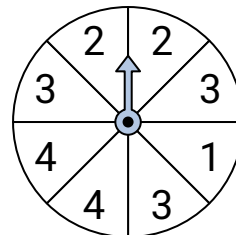
- 4) ¿Qué número es el más probable en la ruleta?



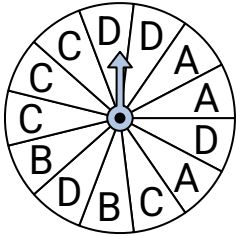
- 5) ¿Qué número es el menos probable en la ruleta?



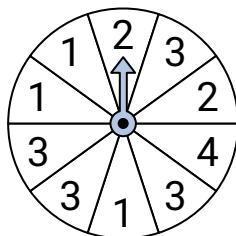
- 6) ¿Qué dos números tienen la misma probabilidad en la ruleta?



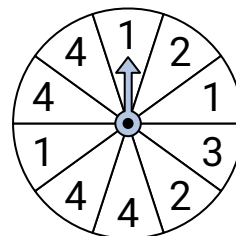
- 7) ¿Qué letra es la menos probable en la ruleta?



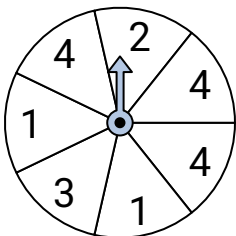
- 8) ¿Qué número es el menos probable en la ruleta?



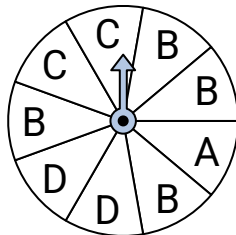
- 9) ¿Qué número es el menos probable en la ruleta?



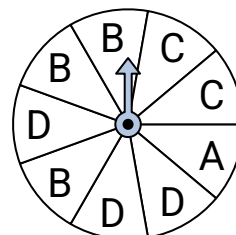
- 10) ¿Qué dos números tienen la misma probabilidad en la ruleta?



- 11) ¿Qué letra es la más probable en la ruleta?



- 12) ¿Qué dos letras tienen la misma probabilidad en la ruleta?

**Respuestas**

1. **3**
2. **A**
3. **B**
4. **3**
5. **4**
6. **2 & 4**
7. **B**
8. **4**
9. **3**
10. **2 & 3**
11. **B**
12. **B & D**