



Usar las rectas numéricas para redondear cada número al 100 más cercano.

Respuestas

Ej)

766



Ej. 800

1)

9,049



1. _____

2)

182



2. _____

3)

8,494



3. _____

4)

3,889



4. _____

5)

99,780



5. _____

6)

46,298



6. _____

7)

113



7. _____

8)

569



8. _____

9)

8,434



9. _____

10)


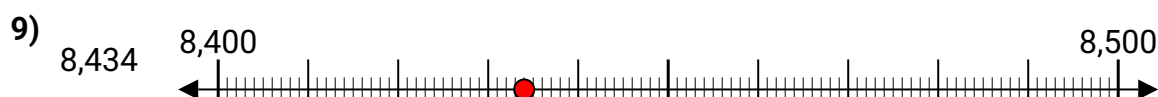
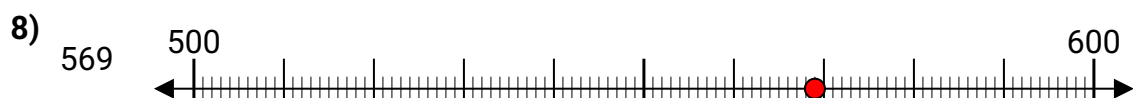
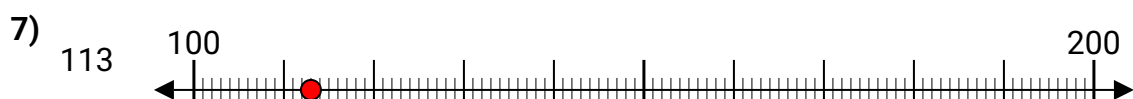
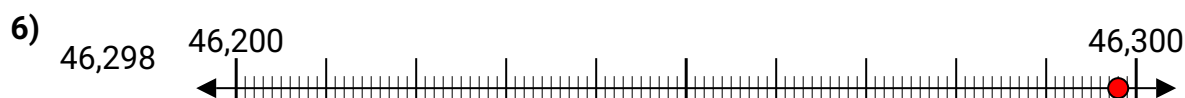
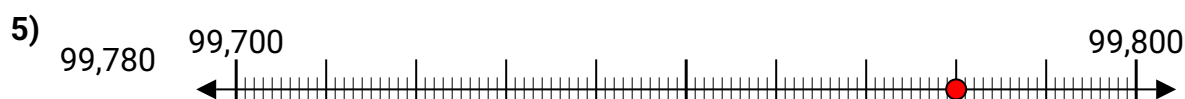
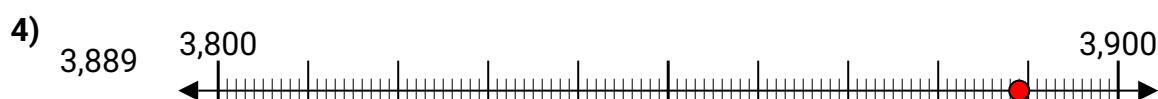
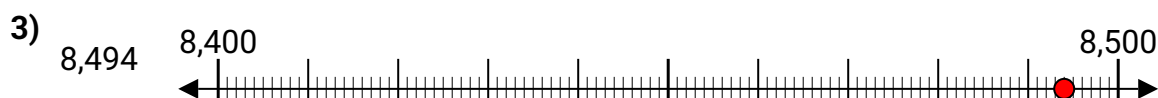
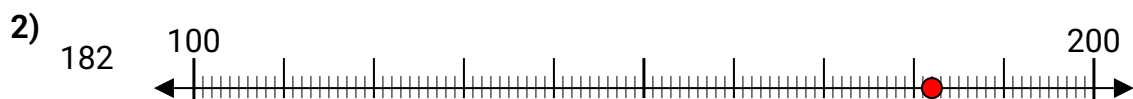
76,263



10. _____



Usar las rectas numéricas para redondear cada número al 100 más cercano.

**Respuestas**Ej. **800**1. **9,000**2. **200**3. **8,500**4. **3,900**5. **99,800**6. **46,300**7. **100**8. **600**9. **8,400**10. **76,300**