

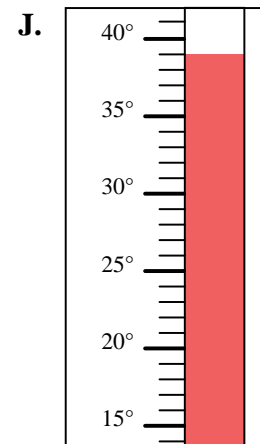
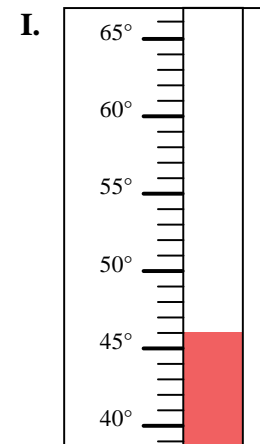
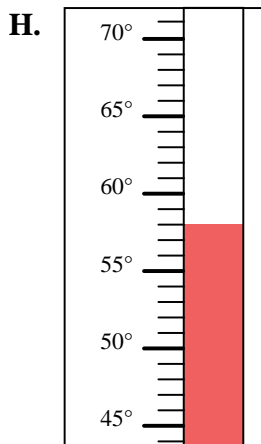
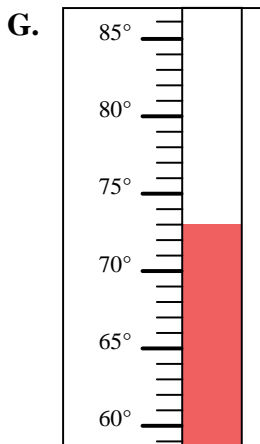
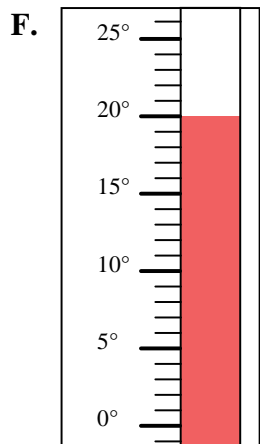
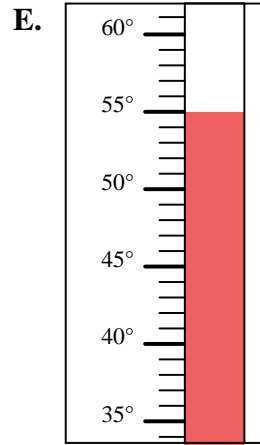
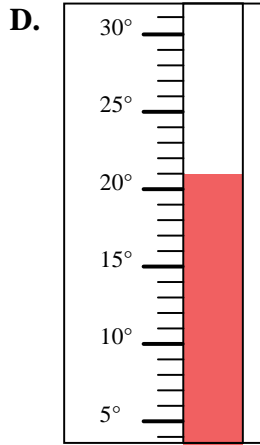
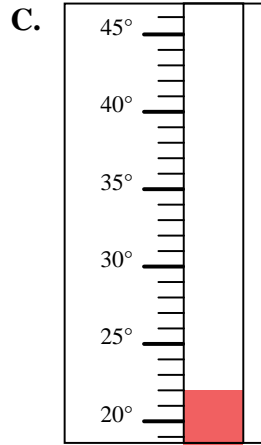
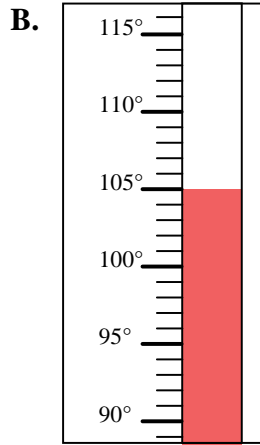
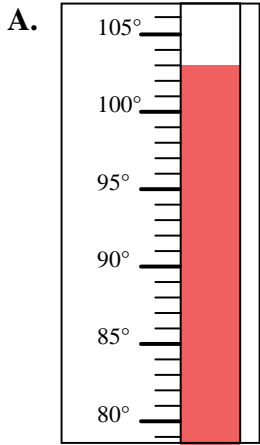


Determinar cuál letra responde mejor a cada pregunta.

Respuestas

- 1) ¿Qué termómetro representa mejor 103° de temperatura?
- 2) ¿Qué termómetro representa mejor 73° de temperatura?
- 3) ¿Qué termómetro representa mejor 22° de temperatura?
- 4) ¿Qué termómetro representa mejor 21° de temperatura?
- 5) ¿Qué termómetro representa mejor 46° de temperatura?
- 6) ¿Qué termómetro representa mejor 20° de temperatura?
- 7) ¿Qué termómetro representa mejor 39° de temperatura?
- 8) ¿Qué termómetro representa mejor 55° de temperatura?
- 9) ¿Qué termómetro representa mejor 105° de temperatura?
- 10) ¿Qué termómetro representa mejor 58° de temperatura?

1. _____
2. _____
3. _____
4. _____
5. _____
6. _____
7. _____
8. _____
9. _____
10. _____





Determinar cuál letra responde mejor a cada pregunta.

Respuestas

- 1) ¿Qué termómetro representa mejor 103° de temperatura?
- 2) ¿Qué termómetro representa mejor 73° de temperatura?
- 3) ¿Qué termómetro representa mejor 22° de temperatura?
- 4) ¿Qué termómetro representa mejor 21° de temperatura?
- 5) ¿Qué termómetro representa mejor 46° de temperatura?
- 6) ¿Qué termómetro representa mejor 20° de temperatura?
- 7) ¿Qué termómetro representa mejor 39° de temperatura?
- 8) ¿Qué termómetro representa mejor 55° de temperatura?
- 9) ¿Qué termómetro representa mejor 105° de temperatura?
- 10) ¿Qué termómetro representa mejor 58° de temperatura?

1. **A**
2. **G**
3. **C**
4. **D**
5. **I**
6. **F**
7. **J**
8. **E**
9. **B**
10. **H**

