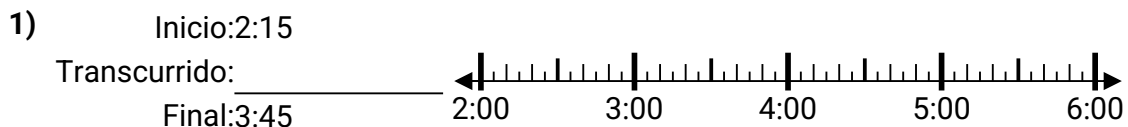




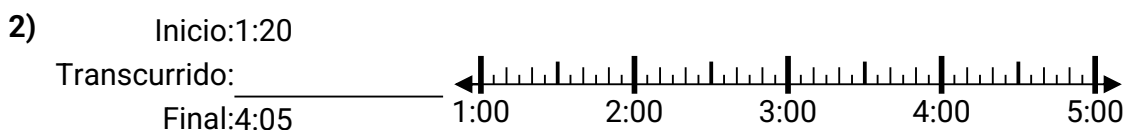
Resuelve cada problema.

Respuestas




1. _____

2. _____



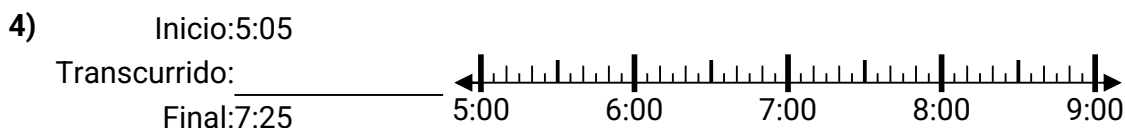
3. _____

4. _____




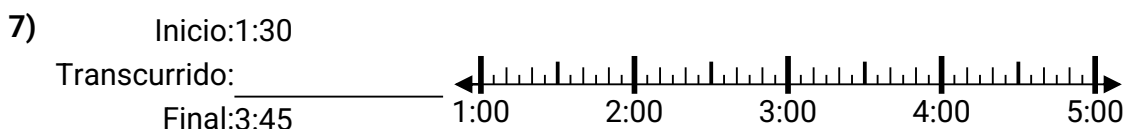
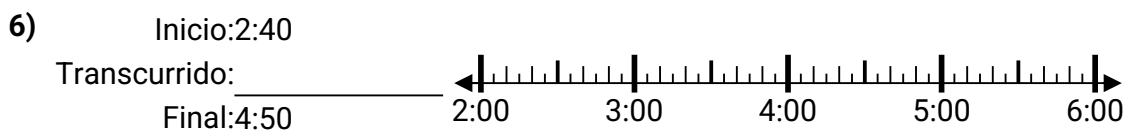
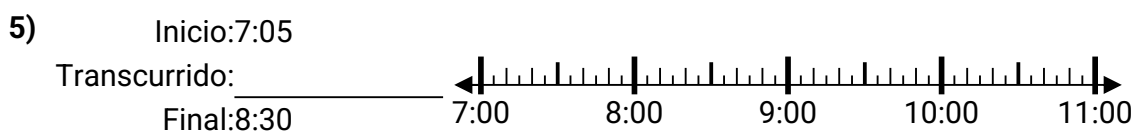
5. _____

6. _____



7. _____

8. _____





Resuelve cada problema.

- 1) Inicio: 2:15
Transcurrido: **1 hr y 30 mins**
Final: 3:45
-
- 2) Inicio: 1:20
Transcurrido: **2 hrs y 45 mins**
Final: 4:05
-
- 3) Inicio: 11:35
Transcurrido: **2 hrs y 45 mins**
Final: 2:20
-
- 4) Inicio: 5:05
Transcurrido: **2 hrs y 20 mins**
Final: 7:25
-
- 5) Inicio: 7:05
Transcurrido: **1 hr y 25 mins**
Final: 8:30
-
- 6) Inicio: 2:40
Transcurrido: **2 hrs y 10 mins**
Final: 4:50
-
- 7) Inicio: 1:30
Transcurrido: **2 hrs y 15 mins**
Final: 3:45
-
- 8) Inicio: 3:30
Transcurrido: **1 hr y 20 mins**
Final: 4:50
-

Respuestas

1. **1 hr y 30 mins**
2. **2 hrs y 45 mins**
3. **2 hrs y 45 mins**
4. **2 hrs y 20 mins**
5. **1 hr y 25 mins**
6. **2 hrs y 10 mins**
7. **2 hrs y 15 mins**
8. **1 hr y 20 mins**