
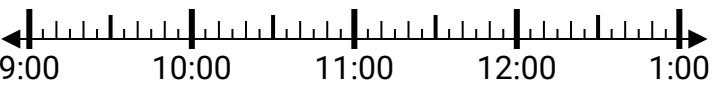




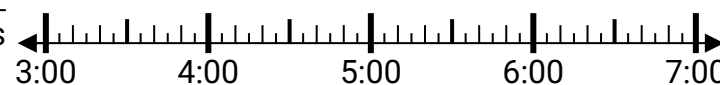





Resuelve cada problema.

Respuestas

- 1) Inicio: _____
Transcurrido: 1 hr y 50 mins
Final: 10:30
- 
- 2) Inicio: _____
Transcurrido: 1 hr y 25 mins
Final: 10:45
- 
- 3) Inicio: _____
Transcurrido: 2 hrs y 50 mins
Final: 10:50
- 
- 4) Inicio: _____
Transcurrido: 2 hrs y 20 mins
Final: 5:20
- 
- 5) Inicio: _____
Transcurrido: 2 hrs y 15 mins
Final: 5:55
- 
- 6) Inicio: _____
Transcurrido: 1 hr y 45 mins
Final: 5:30
- 
- 7) Inicio: _____
Transcurrido: 2 hrs y 40 mins
Final: 5:55
- 
- 8) Inicio: _____
Transcurrido: 1 hr y 20 mins
Final: 8:45
- 

1. _____
2. _____
3. _____
4. _____
5. _____
6. _____
7. _____
8. _____



Resuelve cada problema.

- 1) Inicio: 8:40
Transcurrido: 1 hr y 50 mins
Final: 10:30
- 2) Inicio: 9:20
Transcurrido: 1 hr y 25 mins
Final: 10:45
- 3) Inicio: 8:00
Transcurrido: 2 hrs y 50 mins
Final: 10:50
- 4) Inicio: 3:00
Transcurrido: 2 hrs y 20 mins
Final: 5:20
- 5) Inicio: 3:40
Transcurrido: 2 hrs y 15 mins
Final: 5:55
- 6) Inicio: 3:45
Transcurrido: 1 hr y 45 mins
Final: 5:30
- 7) Inicio: 3:15
Transcurrido: 2 hrs y 40 mins
Final: 5:55
- 8) Inicio: 7:25
Transcurrido: 1 hr y 20 mins
Final: 8:45

Respuestas

1. 8:40
2. 9:20
3. 8:00
4. 3:00
5. 3:40
6. 3:45
7. 3:15
8. 7:25