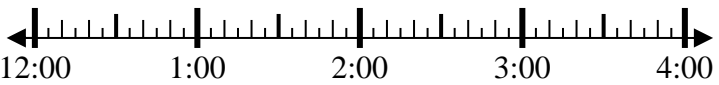
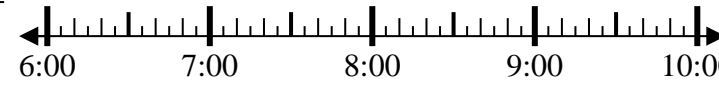


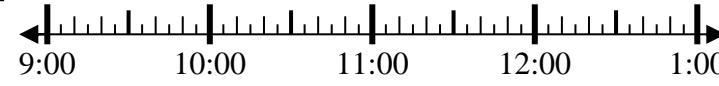


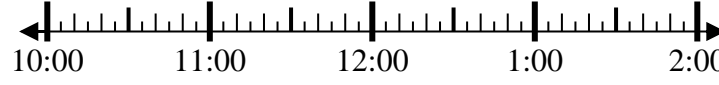
Resuelve cada problema.


Respuestas

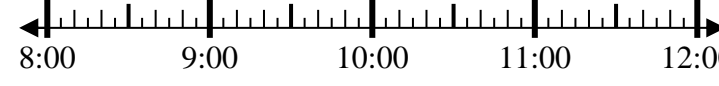
- 1) Inicio: _____
 Transcurrido: 1 hr y 25 mins
 Final: 1:35 

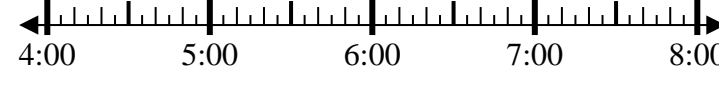
- 2) Inicio: _____
 Transcurrido: 2 hrs y 10 mins
 Final: 8:50 

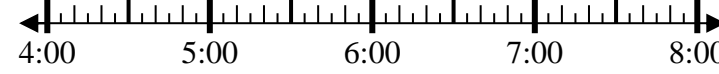
- 3) Inicio: _____
 Transcurrido: 2 hrs y 50 mins
 Final: 11:55 

- 4) Inicio: _____
 Transcurrido: 2 hrs y 40 mins
 Final: 1:25 

- 5) Inicio: _____
 Transcurrido: 1 hr y 30 mins
 Final: 7:05 

- 6) Inicio: _____
 Transcurrido: 2 hrs y 25 mins
 Final: 10:40 

- 7) Inicio: _____
 Transcurrido: 2 hrs y 55 mins
 Final: 7:05 

- 8) Inicio: _____
 Transcurrido: 2 hrs y 20 mins
 Final: 6:20 

1. _____
2. _____
3. _____
4. _____
5. _____
6. _____
7. _____
8. _____



Resuelve cada problema.

- 1) Inicio: 12:10
 Transcurrido: 1 hr y 25 mins
 Final: 1:35

- 2) Inicio: 6:40
 Transcurrido: 2 hrs y 10 mins
 Final: 8:50

- 3) Inicio: 9:05
 Transcurrido: 2 hrs y 50 mins
 Final: 11:55

- 4) Inicio: 10:45
 Transcurrido: 2 hrs y 40 mins
 Final: 1:25

- 5) Inicio: 5:35
 Transcurrido: 1 hr y 30 mins
 Final: 7:05

- 6) Inicio: 8:15
 Transcurrido: 2 hrs y 25 mins
 Final: 10:40

- 7) Inicio: 4:10
 Transcurrido: 2 hrs y 55 mins
 Final: 7:05

- 8) Inicio: 4:00
 Transcurrido: 2 hrs y 20 mins
 Final: 6:20

Respuestas

1. 12:10
2. 6:40
3. 9:05
4. 10:45
5. 5:35
6. 8:15
7. 4:10
8. 4:00