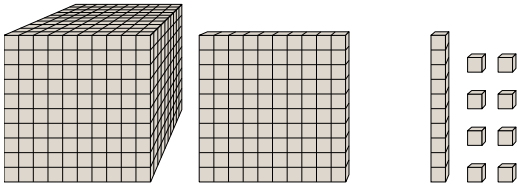




Resuelve cada problema.

Respuestas

1)



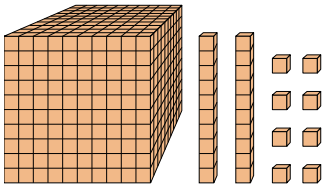
¿Qué dígito está en el lugar de miles en el número anterior?

1. _____

2. _____

3. _____

2)



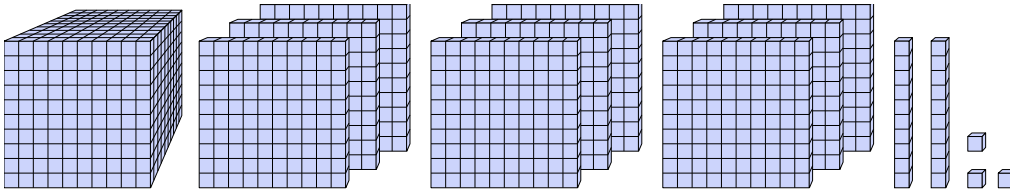
¿Qué dígito está en el lugar de centenas en el número anterior?

4. _____

5. _____

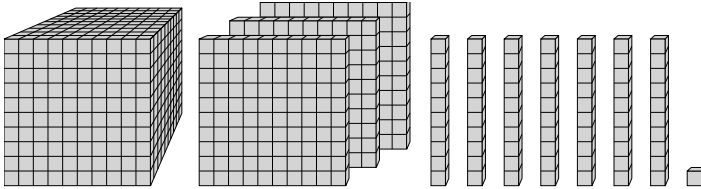
6. _____

3)



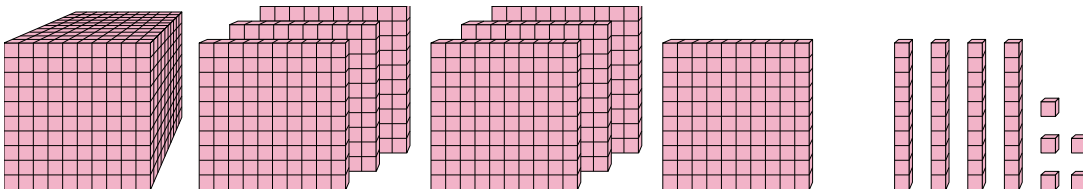
¿Qué dígito está en el lugar de decenas en el número anterior?

4)



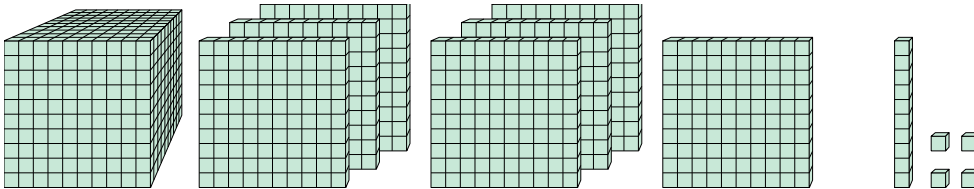
¿Qué dígito está en el lugar de unos en el número anterior?

5)



¿Qué dígito está en el lugar de miles en el número anterior?

6)



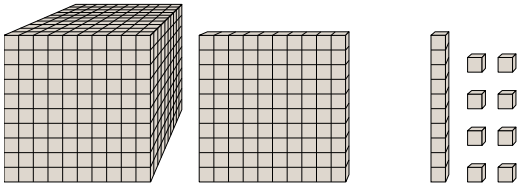
¿Qué dígito está en el lugar de centenas en el número anterior?



Resuelve cada problema.

Respuestas

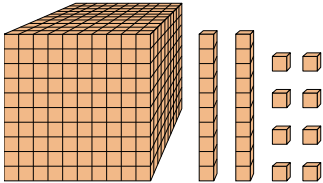
1)



¿Qué dígito está en el lugar de miles en el número anterior?

1. 1

2)



¿Qué dígito está en el lugar de centenas en el número anterior?

2. 0

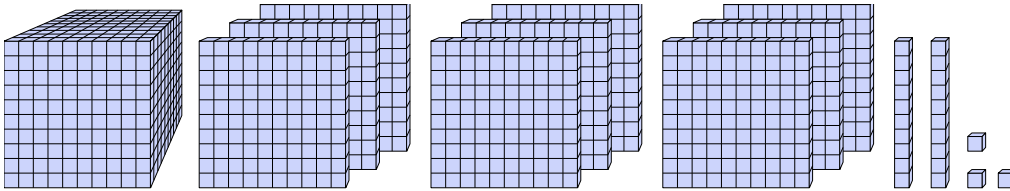
3. 2

4. 1

5. 1

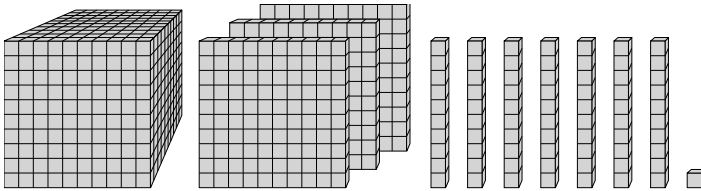
6. 7

3)



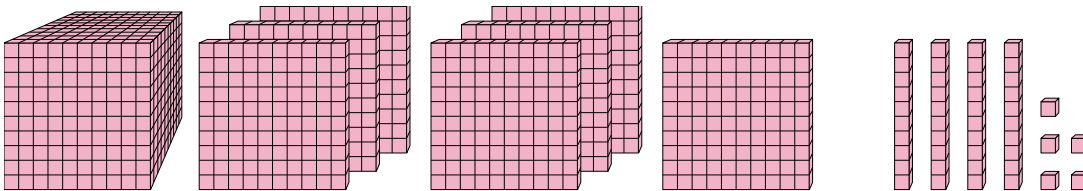
¿Qué dígito está en el lugar de decenas en el número anterior?

4)



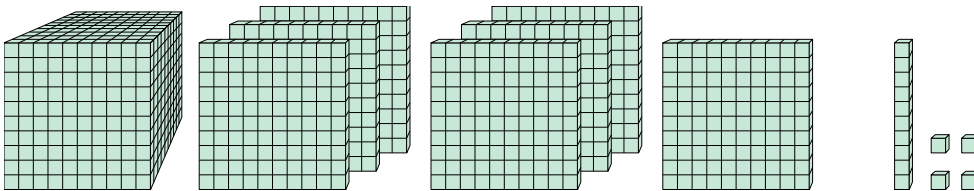
¿Qué dígito está en el lugar de unos en el número anterior?

5)



¿Qué dígito está en el lugar de miles en el número anterior?

6)



¿Qué dígito está en el lugar de centenas en el número anterior?