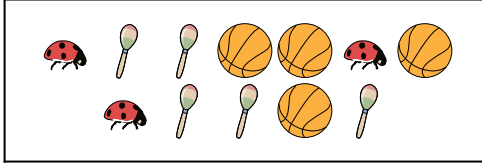




Comparar el número de formas.

Respuestas

1)

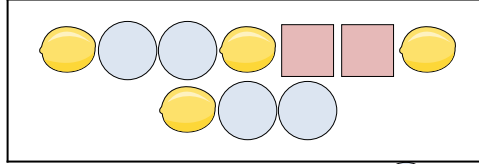



¿Hay menos  o menos ?

A. 


B. 

2)



¿Hay menos  o menos ?

A. 

B. 

1. \_\_\_\_\_

2. \_\_\_\_\_

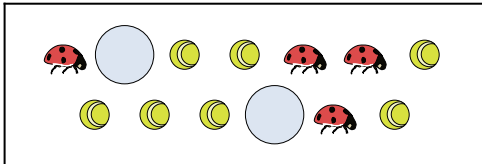
3. \_\_\_\_\_


4. \_\_\_\_\_

5. \_\_\_\_\_

6. \_\_\_\_\_

3)

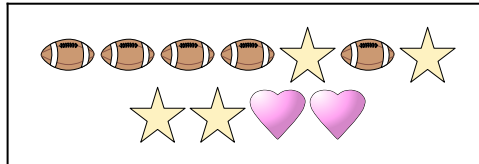


¿Hay menos  o menos ?

A. 

B. 

4)





¿Hay más  o más ?

A. 

B. 

5)

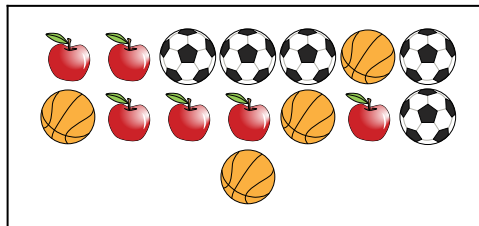


¿Hay menos  o menos ?

A. 

B. 

6)



¿Hay más  o más ?

A. 

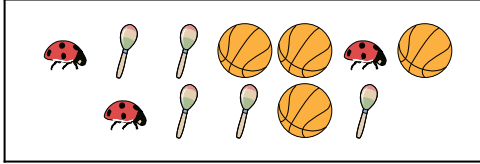
B. 



Comparar el número de formas.

Respuestas

1)

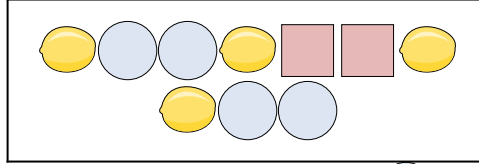


¿Hay menos  o menos ?

A. 

B. 

2)



¿Hay menos  o menos ?

A. 

B. 

1. **B**

2. **A**

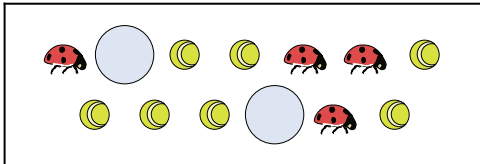
3. **A**



4. **B**

5. **B**

6. **A**

3)

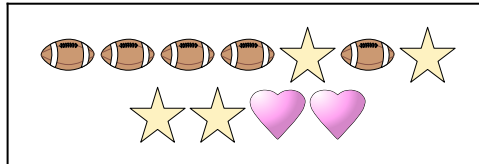


¿Hay menos  o menos ?

A. 

B. 

4)






¿Hay más  o más ?

A. 

B. 

5)

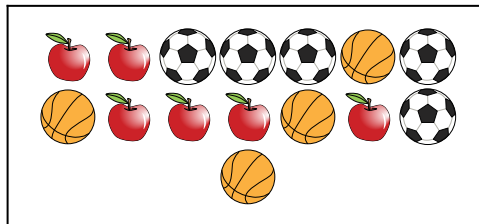


¿Hay menos  o menos ?

A. 

B. 

6)



¿Hay más  o más ?

A. 

B. 