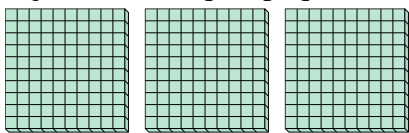




Utilizar los grupos para responder a cada pregunta.

Respuestas

- 1) a. ¿Cuántos grupos de 100 hay?
 b. ¿Cuántos bloques pequeños hay en total?

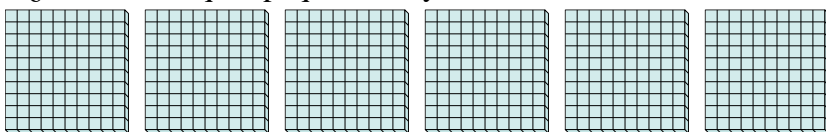


1. ____

2. ____

3. ____

- 2) a. ¿Cuántos grupos de 100 hay?
 b. ¿Cuántos bloques pequeños hay en total?




4. ____

5. ____


6. ____

- 3) a. ¿Cuántos grupos de 100 hay?
 b. ¿Cuántos bloques pequeños hay en total?

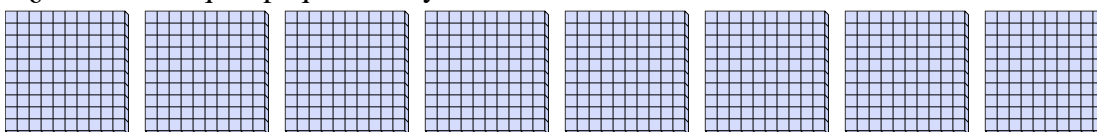


7. ____


- 4) a. ¿Cuántos grupos de 100 hay?
 b. ¿Cuántos bloques pequeños hay en total?



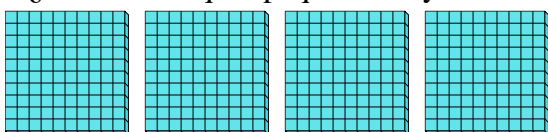
- 5) a. ¿Cuántos grupos de 100 hay?
 b. ¿Cuántos bloques pequeños hay en total?



- 6) a. ¿Cuántos grupos de 100 hay?
 b. ¿Cuántos bloques pequeños hay en total?



- 7) a. ¿Cuántos grupos de 100 hay?
 b. ¿Cuántos bloques pequeños hay en total?

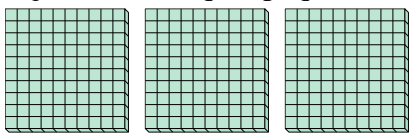




Utilizar los grupos para responder a cada pregunta.

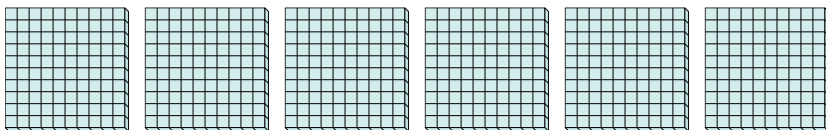
Respuestas

- 1) a. ¿Cuántos grupos de 100 hay?
b. ¿Cuántos bloques pequeños hay en total?




1. **3** **300**

- 2) a. ¿Cuántos grupos de 100 hay?
b. ¿Cuántos bloques pequeños hay en total?



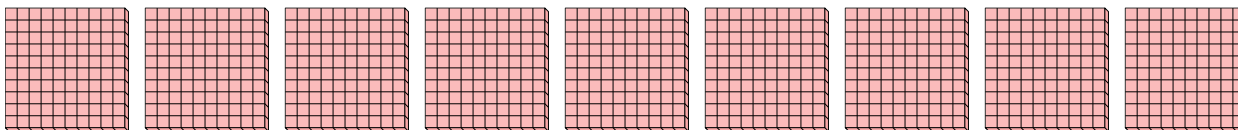
2. **6** **600**

- 3) a. ¿Cuántos grupos de 100 hay?
b. ¿Cuántos bloques pequeños hay en total?



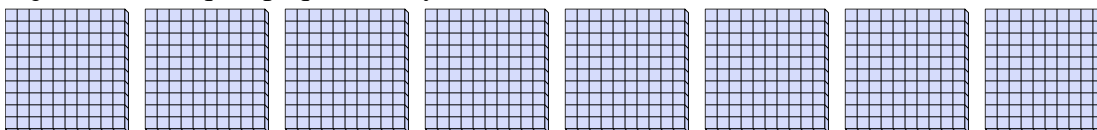
3. **2** **200**

- 4) a. ¿Cuántos grupos de 100 hay?
b. ¿Cuántos bloques pequeños hay en total?




4. **9** **900**

- 5) a. ¿Cuántos grupos de 100 hay?
b. ¿Cuántos bloques pequeños hay en total?




5. **8** **800**

- 6) a. ¿Cuántos grupos de 100 hay?
b. ¿Cuántos bloques pequeños hay en total?



6. **1** **100**

- 7) a. ¿Cuántos grupos de 100 hay?
b. ¿Cuántos bloques pequeños hay en total?



7. **4** **400**