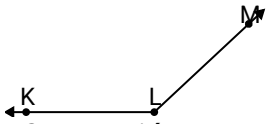




Resuelve cada problema.

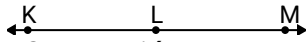
**Respuestas**

1)

¿Que opción representa mejor  $\angle KLM$ ?

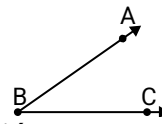
- A.  $50^\circ$
- B.  $26^\circ$
- C.  $172^\circ$
- D.  $137^\circ$

2)

¿Que opción representa mejor  $\angle KLM$ ?

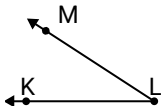
- A.  $6^\circ$
- B.  $81^\circ$
- C.  $114^\circ$
- D.  $180^\circ$

3)

¿Que opción representa mejor  $\angle ABC$ ?

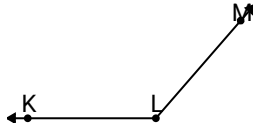
- A.  $35^\circ$
- B.  $118^\circ$
- C.  $63^\circ$
- D.  $151^\circ$

4)

¿Que opción representa mejor  $\angle KLM$ ?

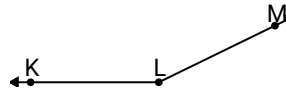
- A.  $116^\circ$
- B.  $88^\circ$
- C.  $146^\circ$
- D.  $33^\circ$

5)

¿Que opción representa mejor  $\angle KLM$ ?

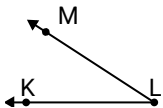
- A.  $83^\circ$
- B.  $178^\circ$
- C.  $0^\circ$
- D.  $131^\circ$

6)

¿Que opción representa mejor  $\angle KLM$ ?

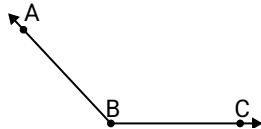
- A.  $46^\circ$
- B.  $113^\circ$
- C.  $82^\circ$
- D.  $154^\circ$

7)

¿Que opción representa mejor  $\angle KLM$ ?

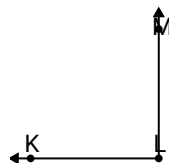
- A.  $115^\circ$
- B.  $88^\circ$
- C.  $33^\circ$
- D.  $173^\circ$

8)

¿Que opción representa mejor  $\angle ABC$ ?

- A.  $71^\circ$
- B.  $93^\circ$
- C.  $24^\circ$
- D.  $133^\circ$

9)

¿Que opción representa mejor  $\angle KLM$ ?

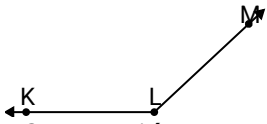
- A.  $111^\circ$
- B.  $90^\circ$
- C.  $21^\circ$
- D.  $63^\circ$

- 1. \_\_\_\_\_
- 2. \_\_\_\_\_
- 3. \_\_\_\_\_
- 4. \_\_\_\_\_
- 5. \_\_\_\_\_
- 6. \_\_\_\_\_
- 7. \_\_\_\_\_
- 8. \_\_\_\_\_
- 9. \_\_\_\_\_



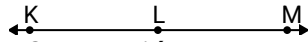
Resuelve cada problema.

1)

¿Que opción representa mejor  $\angle KLM$ ?

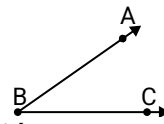
- A.  $50^\circ$
- B.  $26^\circ$
- C.  $172^\circ$
- D.  $137^\circ$

2)

¿Que opción representa mejor  $\angle KLM$ ?

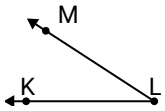
- A.  $6^\circ$
- B.  $81^\circ$
- C.  $114^\circ$
- D.  $180^\circ$

3)

¿Que opción representa mejor  $\angle ABC$ ?

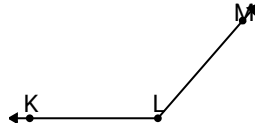
- A.  $35^\circ$
- B.  $118^\circ$
- C.  $63^\circ$
- D.  $151^\circ$

4)

¿Que opción representa mejor  $\angle KLM$ ?

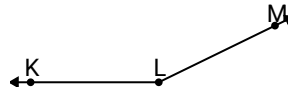
- A.  $116^\circ$
- B.  $88^\circ$
- C.  $146^\circ$
- D.  $33^\circ$

5)

¿Que opción representa mejor  $\angle KLM$ ?

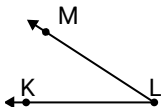
- A.  $83^\circ$
- B.  $178^\circ$
- C.  $0^\circ$
- D.  $131^\circ$

6)

¿Que opción representa mejor  $\angle KLM$ ?

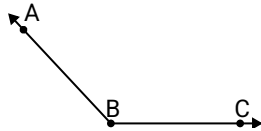
- A.  $46^\circ$
- B.  $113^\circ$
- C.  $82^\circ$
- D.  $154^\circ$

7)

¿Que opción representa mejor  $\angle KLM$ ?

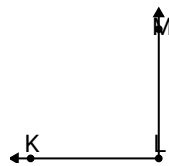
- A.  $115^\circ$
- B.  $88^\circ$
- C.  $33^\circ$
- D.  $173^\circ$

8)

¿Que opción representa mejor  $\angle ABC$ ?

- A.  $71^\circ$
- B.  $93^\circ$
- C.  $24^\circ$
- D.  $133^\circ$

9)

¿Que opción representa mejor  $\angle KLM$ ?

- A.  $111^\circ$
- B.  $90^\circ$
- C.  $21^\circ$
- D.  $63^\circ$

**Respuestas**

- 1. **D**
- 2. **D**
- 3. **A**
- 4. **D**
- 5. **D**
- 6. **D**
- 7. **C**
- 8. **D**
- 9. **B**