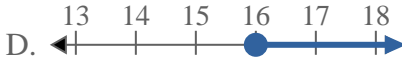
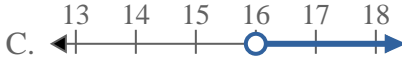
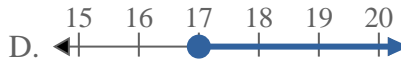
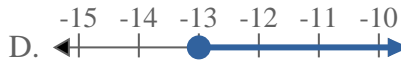
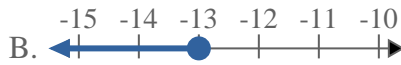
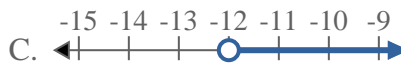
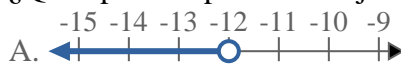




## Resuelve cada problema

Respuestas1) ¿Qué opción representa mejor  $X < 16$ ?2) ¿Qué opción representa mejor  $X \leq -1$ ?3) ¿Qué opción representa mejor  $X > -18$ ?4) ¿Qué opción representa mejor  $X \leq 17$ ?5) ¿Qué opción representa mejor  $X \leq -4$ ?6) ¿Qué opción representa mejor  $X \leq -13$ ?7) ¿Qué opción representa mejor  $X \geq 18$ ?8) ¿Qué opción representa mejor  $X < -12$ ?

1. \_\_\_\_\_

2. \_\_\_\_\_

3. \_\_\_\_\_

4. \_\_\_\_\_

5. \_\_\_\_\_

6. \_\_\_\_\_

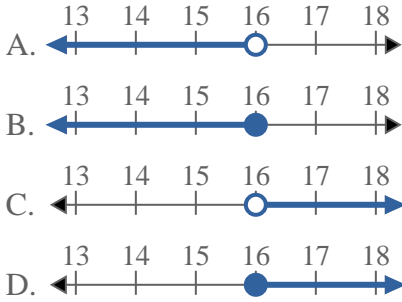
7. \_\_\_\_\_

8. \_\_\_\_\_

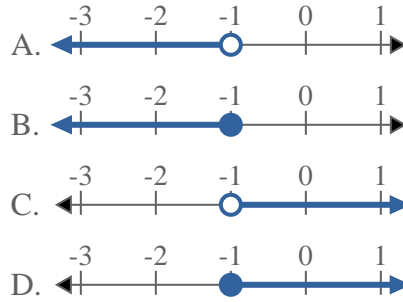


**Resuelve cada problema**

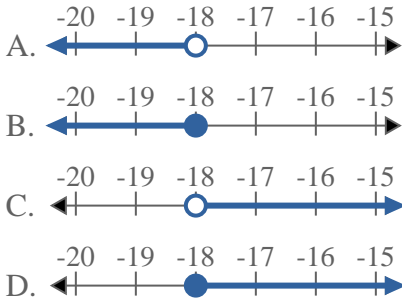
1) ¿Qué opción representa mejor  $X < 16$



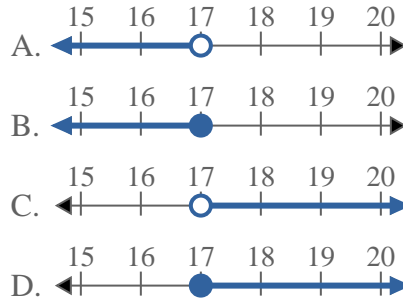
2) ¿Qué opción representa mejor  $X \leq -1$



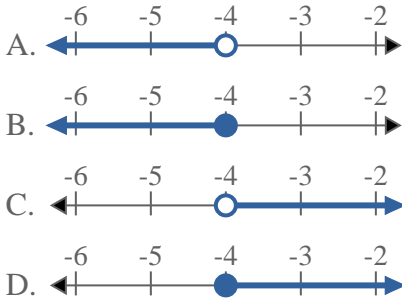
3) ¿Qué opción representa mejor  $X > -18$



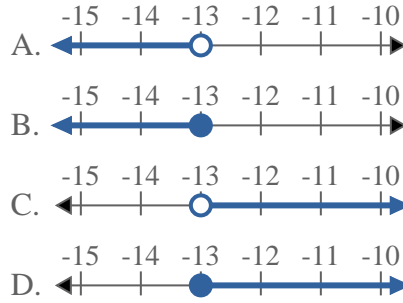
4) ¿Qué opción representa mejor  $X \leq 17$



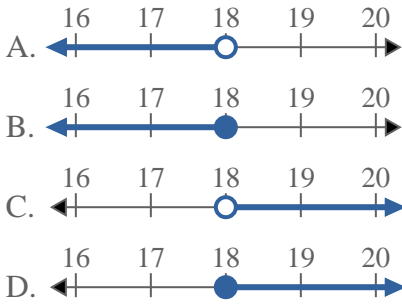
5) ¿Qué opción representa mejor  $X \leq -4$



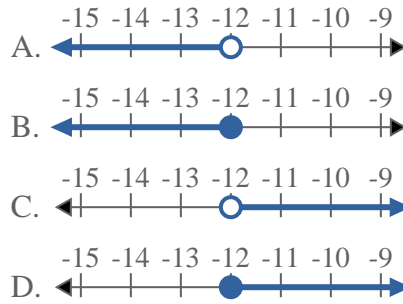
6) ¿Qué opción representa mejor  $X \leq -13$



7) ¿Qué opción representa mejor  $X \geq 18$



8) ¿Qué opción representa mejor  $X < -12$



**Respuestas**

1.     **A**
2.     **B**
3.     **C**
4.     **B**
5.     **B**
6.     **B**
7.     **D**
8.     **A**