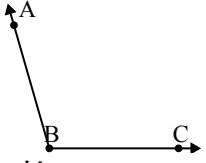


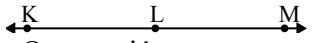


Resuelve cada problema.

1) 

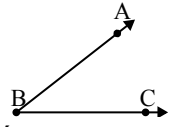
¿Que opción representa mejor $\sphericalangle ABC$?

A. 47°
 B. 106°
 C. 7°
 D. 153°

2) 

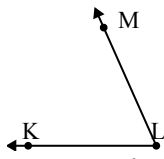
¿Que opción representa mejor $\sphericalangle KLM$?

A. 85°
 B. 117°
 C. 180°
 D. 12°

3) 

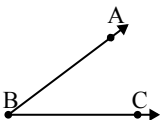
¿Que opción representa mejor $\sphericalangle ABC$?

A. 1°
 B. 38°
 C. 172°
 D. 96°

4) 


¿Que opción representa mejor $\sphericalangle KLM$?

A. 122°
 B. 152°
 C. 173°
 D. 66°

5) 

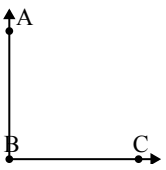
¿Que opción representa mejor $\sphericalangle ABC$?

A. 124°
 B. 37°
 C. 78°
 D. 7°

6) 

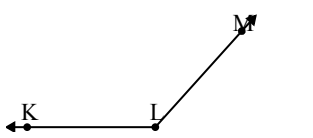
¿Que opción representa mejor $\sphericalangle ABC$?

A. 60°
 B. 88°
 C. 11°
 D. 120°

7) 

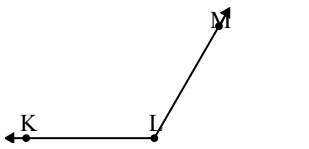
¿Que opción representa mejor $\sphericalangle ABC$?

A. 172°
 B. 90°
 C. 146°
 D. 16°

8) 

¿Que opción representa mejor $\sphericalangle KLM$?

A. 69°
 B. 132°
 C. 164°
 D. 28°

9) 

¿Que opción representa mejor $\sphericalangle KLM$?

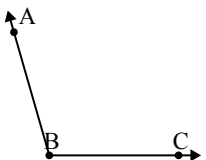
A. 18°
 B. 79°
 C. 120°
 D. 177°

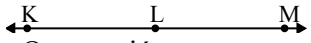
Respuestas

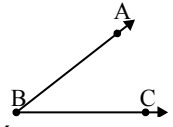
1. _____
2. _____
3. _____
4. _____
5. _____
6. _____
7. _____
8. _____
9. _____

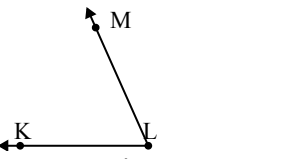


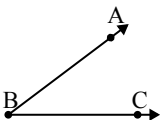
Resuelve cada problema.


1) 
 ¿Que opción representa mejor $\sphericalangle ABC$?
 A. 47°
 B. 106°
 C. 7°
 D. 153°

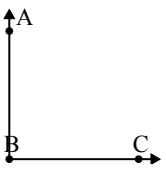
2) 
 ¿Que opción representa mejor $\sphericalangle KLM$?
 A. 85°
 B. 117°
 C. 180°
 D. 12°

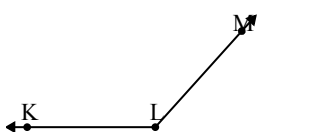
3) 
 ¿Que opción representa mejor $\sphericalangle ABC$?
 A. 1°
 B. 38°
 C. 172°
 D. 96°

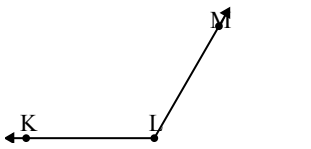
4) 
 ¿Que opción representa mejor $\sphericalangle KLM$?
 A. 122°
 B. 152°
 C. 173°
 D. 66°

5) 
 ¿Que opción representa mejor $\sphericalangle ABC$?
 A. 124°
 B. 37°
 C. 78°
 D. 7°

6) 
 ¿Que opción representa mejor $\sphericalangle ABC$?
 A. 60°
 B. 88°
 C. 11°
 D. 120°

7) 
 ¿Que opción representa mejor $\sphericalangle ABC$?
 A. 172°
 B. 90°
 C. 146°
 D. 16°

8) 
 ¿Que opción representa mejor $\sphericalangle KLM$?
 A. 69°
 B. 132°
 C. 164°
 D. 28°

9) 
 ¿Que opción representa mejor $\sphericalangle KLM$?
 A. 18°
 B. 79°
 C. 120°
 D. 177°

Respuestas

1. **B**
2. **C**
3. **B**
4. **D**
5. **B**
6. **C**
7. **B**
8. **B**
9. **C**