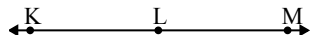




Resuelve cada problema.

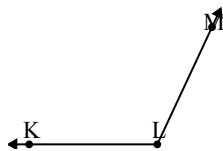
1)



¿Que opción representa mejor $\angle KLM$?

- A. 180°
- B. 115°
- C. 21°
- D. 75°

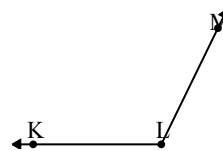
2)



¿Que opción representa mejor $\angle KLM$?

- A. 152°
- B. 115°
- C. 26°
- D. 85°

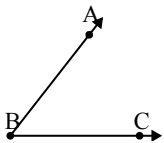
3)



¿Que opción representa mejor $\angle KLM$?

- A. 116°
- B. 74°
- C. 49°
- D. 157°

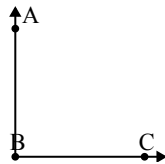
4)



¿Que opción representa mejor $\angle ABC$?

- A. 25°
- B. 156°
- C. 52°
- D. 96°

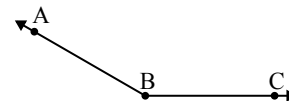
5)



¿Que opción representa mejor $\angle ABC$?

- A. 34°
- B. 2°
- C. 90°
- D. 120°

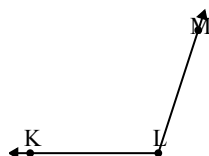
6)



¿Que opción representa mejor $\angle ABC$?

- A. 115°
- B. 11°
- C. 61°
- D. 150°

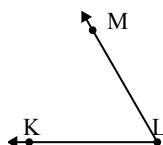
7)



¿Que opción representa mejor $\angle KLM$?

- A. 13°
- B. 108°
- C. 165°
- D. 81°

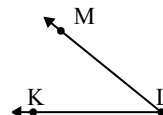
8)



¿Que opción representa mejor $\angle KLM$?

- A. 172°
- B. 84°
- C. 60°
- D. 19°

9)



¿Que opción representa mejor $\angle KLM$?

- A. 154°
- B. 39°
- C. 133°
- D. 109°

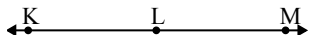
Respuestas

- 1. _____
- 2. _____
- 3. _____
- 4. _____
- 5. _____
- 6. _____
- 7. _____
- 8. _____
- 9. _____



Resuelve cada problema.

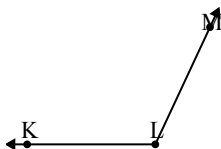
1)



¿Que opción representa mejor \sphericalangle KLM?

- A. 180°
- B. 115°
- C. 21°
- D. 75°

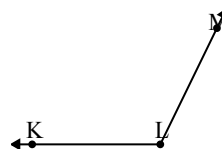
2)



¿Que opción representa mejor \sphericalangle KLM?

- A. 152°
- B. 115°
- C. 26°
- D. 85°

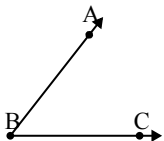
3)



¿Que opción representa mejor \sphericalangle KLM?

- A. 116°
- B. 74°
- C. 49°
- D. 157°

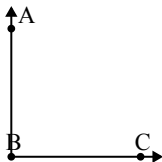
4)



¿Que opción representa mejor \sphericalangle ABC?

- A. 25°
- B. 156°
- C. 52°
- D. 96°

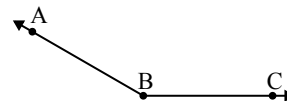
5)



¿Que opción representa mejor \sphericalangle ABC?

- A. 34°
- B. 2°
- C. 90°
- D. 120°

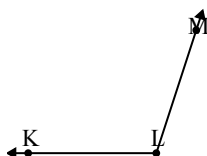
6)



¿Que opción representa mejor \sphericalangle ABC?

- A. 115°
- B. 11°
- C. 61°
- D. 150°

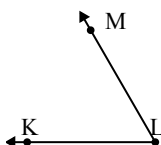
7)



¿Que opción representa mejor \sphericalangle KLM?

- A. 13°
- B. 108°
- C. 165°
- D. 81°

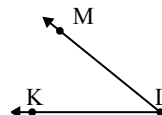
8)



¿Que opción representa mejor \sphericalangle KLM?

- A. 172°
- B. 84°
- C. 60°
- D. 19°

9)



¿Que opción representa mejor \sphericalangle KLM?

- A. 154°
- B. 39°
- C. 133°
- D. 109°

Respuestas

- 1. **A**
- 2. **B**
- 3. **A**
- 4. **C**
- 5. **C**
- 6. **D**
- 7. **B**
- 8. **C**
- 9. **B**