

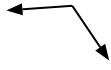


Determina si el ángulo mostrado es 'mayor', 'menor' o 'igual' a 90°.

Ej)



1)



2)




Respuestas

Ej. igual

- 1. _____
- 2. _____
- 3. _____
- 4. _____
- 5. _____
- 6. _____
- 7. _____
- 8. _____
- 9. _____
- 10. _____
- 11. _____
- 12. _____
- 13. _____
- 14. _____
- 15. _____
- 16. _____
- 17. _____
- 18. _____
- 19. _____
- 20. _____

3)



4)



5)



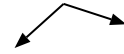
6)



7)



8)



9)



10)



11)



12)



13)



14)



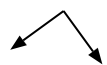
15)



16)



17)



18)



19)



20)



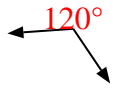


Determina si el ángulo mostrado es 'mayor', 'menor' o 'igual' a 90° .

Ej)



1)



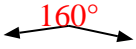
2)



Respuestas

Ej. igual

3)



4)



5)



1. mayor

2. menor

3. mayor

4. mayor

5. igual

6)



7)



8)



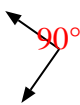
6. menor

7. mayor

9)



10)



11)



8. mayor

9. igual

10. igual

11. menor

12)



13)



14)



12. menor

13. menor

14. menor

15)



16)



17)



15. mayor

16. igual

17. igual

18)



19)



20)



18. igual

19. menor

20. mayor