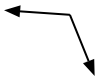




Determina si el ángulo mostrado es 'mayor', 'menor' o 'igual' a 90°.

Ej)



1)



2)



3)



4)



5)



6)



7)



8)



9)



10)



11)



12)



13)



14)



15)



16)



17)



18)



19)



20)



Respuestas

Ej. mayor

1. _____

2. _____

3. _____

4. _____

5. _____

6. _____

7. _____

8. _____

9. _____

10. _____

11. _____

12. _____

13. _____

14. _____

15. _____

16. _____

17. _____

18. _____

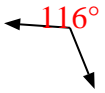
19. _____

20. _____



Determina si el ángulo mostrado es 'mayor', 'menor' o 'igual' a 90° .

Ej)



1)



2)



Respuestas

Ej. mayor

3)



4)



5)



1. mayor

2. mayor

3. menor

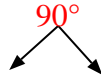
4. menor

5. menor

6)



7)



8)

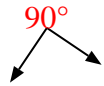


6. igual

7. igual

8. menor

9)



10)



11)



9. igual

10. igual

11. menor

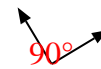
12)



13)



14)



12. igual

13. menor

14. igual

15)



16)



17)



15. mayor

16. igual

17. mayor

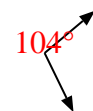
18)



19)



20)



18. igual

19. menor

20. mayor