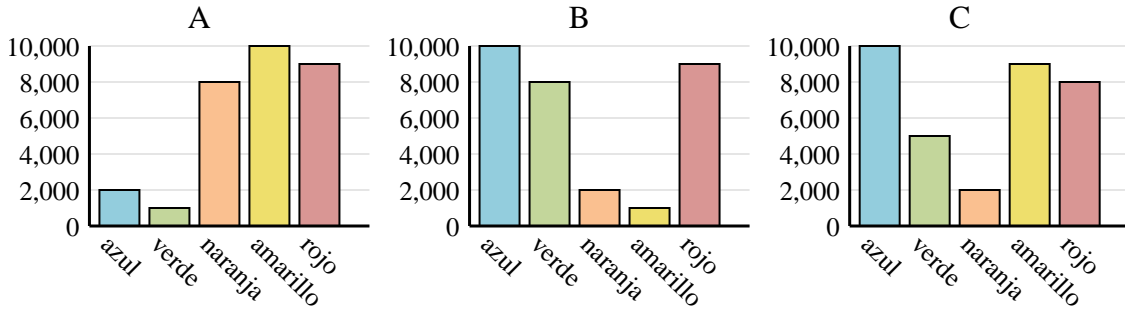




Determina cuál gráfica (A,B o C) representa mejor la información en la tabla.

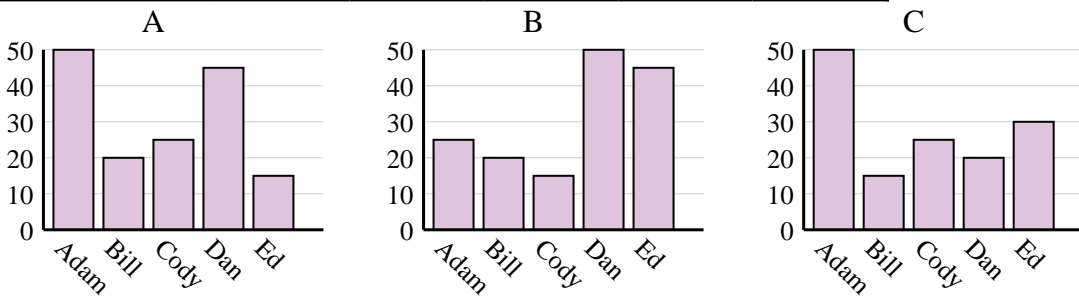
**Respuestas**

1)	Color favorito	azul	verde	naranja	amarillo	rojo
	Personas	2,000	1,000	8,000	10,000	9,000

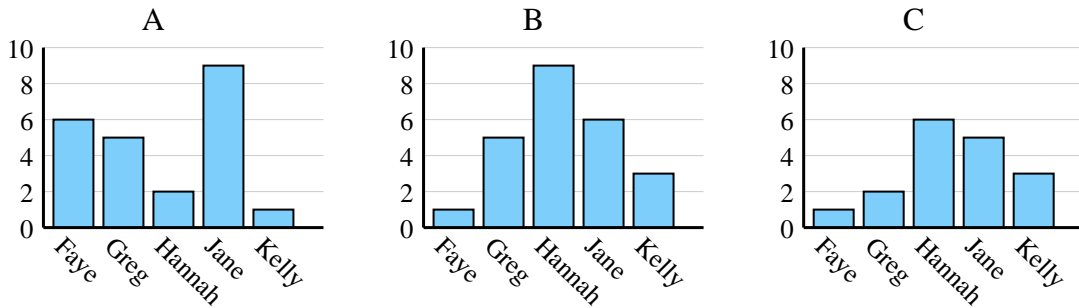


1. \_\_\_\_\_
2. \_\_\_\_\_
3. \_\_\_\_\_
4. \_\_\_\_\_

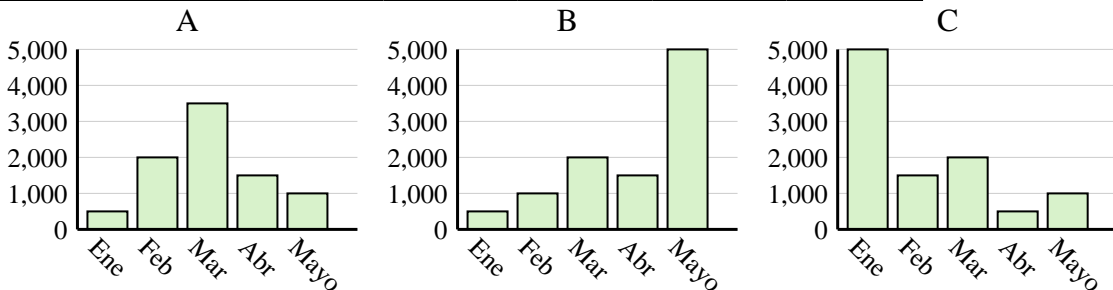
2)	Nombre	Adam	Bill	Cody	Dan	Ed
	Puntos	25	20	15	50	45



3)	Nombre	Faye	Greg	Hannah	Jane	Kelly
	Estados en que ha vivido	6	5	2	9	1



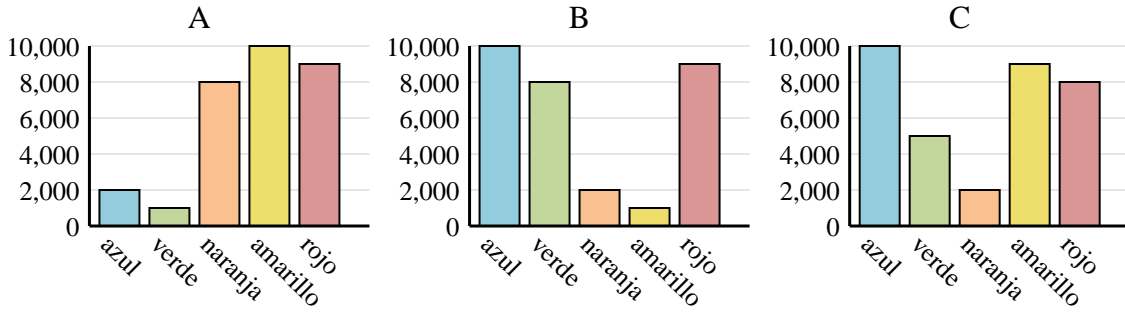
4)	Ventas	Ene	Feb	Mar	Abr	Mayo
	Mes	5,000	1,500	2,000	500	1,000



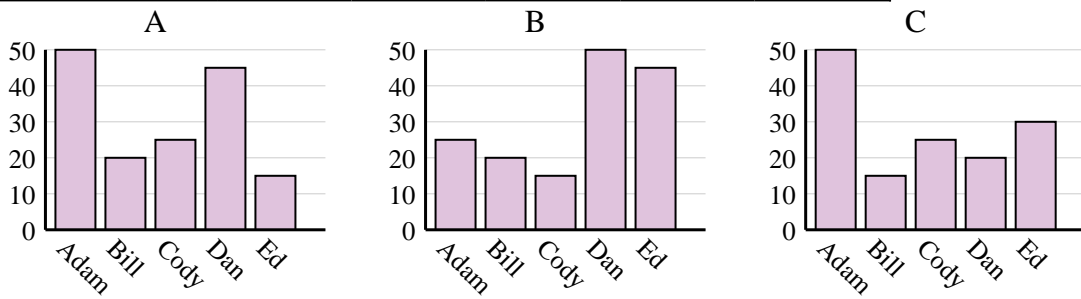


Determina cuál gráfica (A,B o C) representa mejor la información en la tabla.

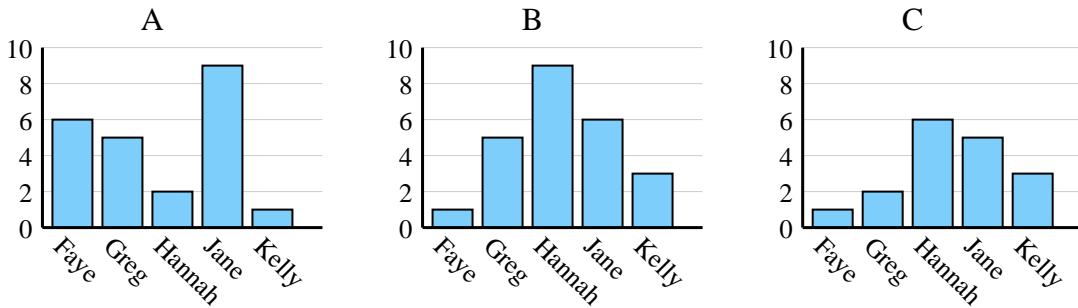
1)	Color favorito	azul	verde	naranja	amarillo	rojo
	Personas	2,000	1,000	8,000	10,000	9,000



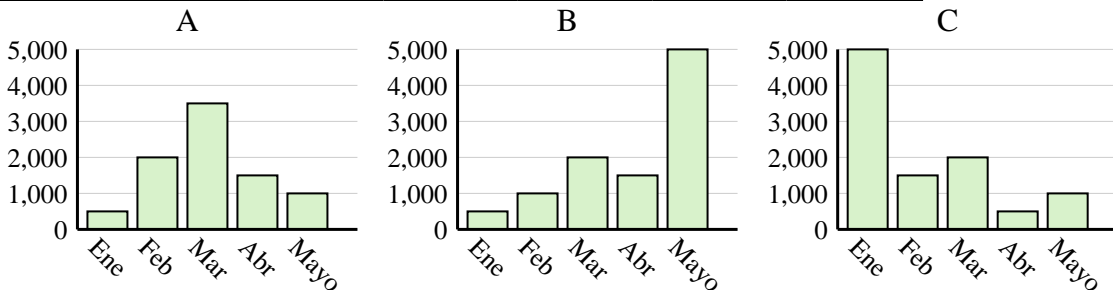
2)	Nombre	Adam	Bill	Cody	Dan	Ed
	Puntos	25	20	15	50	45



3)	Nombre	Faye	Greg	Hannah	Jane	Kelly
	Estados en que ha vivido	6	5	2	9	1



4)	Ventas	Ene	Feb	Mar	Abr	Mayo
	Mes	5,000	1,500	2,000	500	1,000



**Respuestas**

1.           **A**
2.           **B**
3.           **A**
4.           **C**