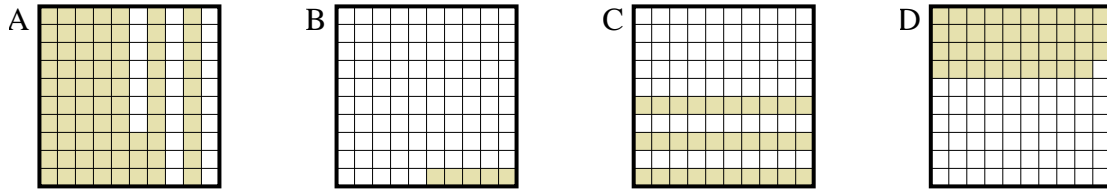




Determina cuál letra mejor resuelve la pregunta.

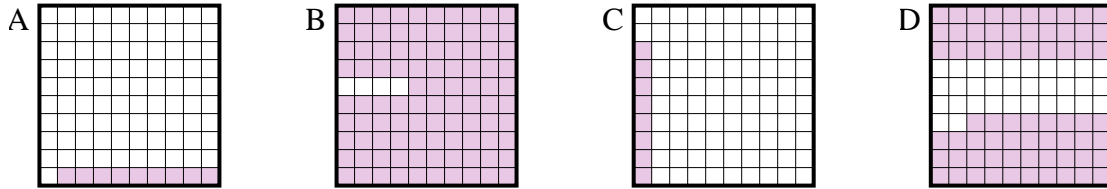
Respuestas

1) ¿Qué cuadrícula de 10×10 está sombreado para representar el número decimal que, cuando se añade a 0.95 da como resultado un total de 1.00?



1. _____

2) ¿Qué cuadrícula de 10×10 está sombreado para representar el número decimal que, cuando se añade a 0.92 da como resultado un total de 1.00?



2. _____

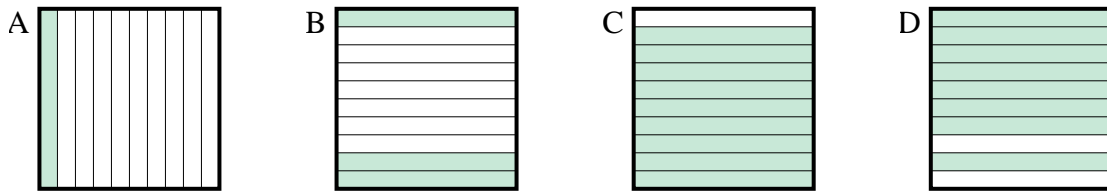
3. _____

4. _____

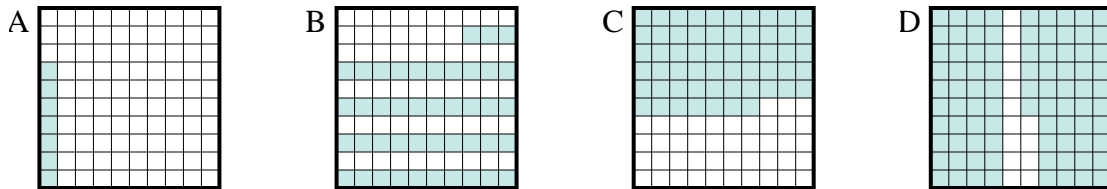
5. _____

6. _____

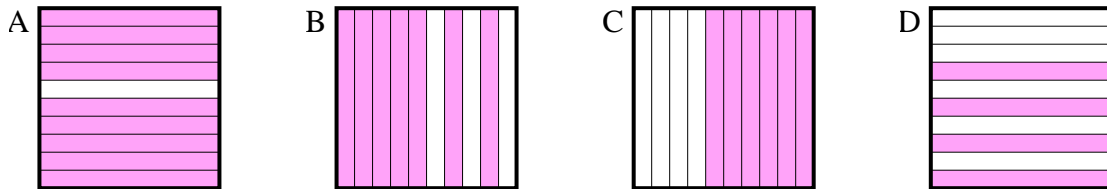
3) ¿Qué cuadrícula de 10×1 está sombreado para representar el número decimal que, cuando se añade a 0.7 da como resultado un total de 1.00?



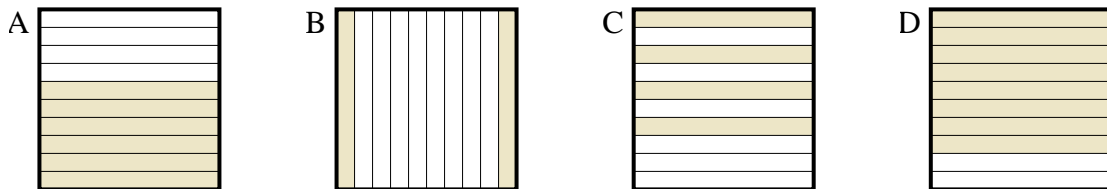
4) ¿Qué cuadrícula de 10×10 está sombreado para representar el número decimal que, cuando se añade a 0.93 da como resultado un total de 1.00?



5) ¿Qué cuadrícula de 10×1 está sombreado para representar el número decimal que, cuando se añade a 0.6 da como resultado un total de 1.00?



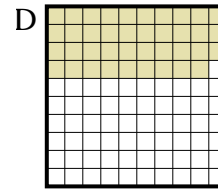
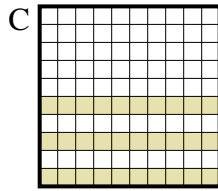
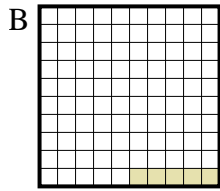
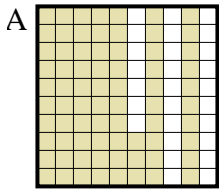
6) ¿Qué cuadrícula de 10×1 está sombreado para representar el número decimal que, cuando se añade a 0.4 da como resultado un total de 1.00?



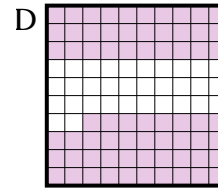
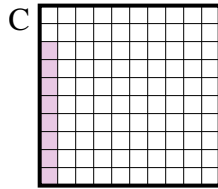
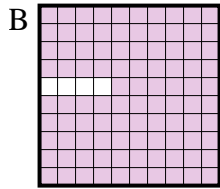
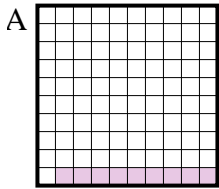


Determina cuál letra mejor resuelve la pregunta.

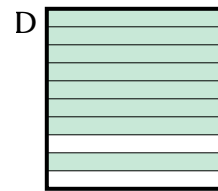
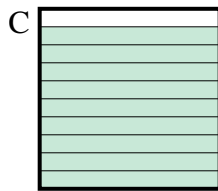
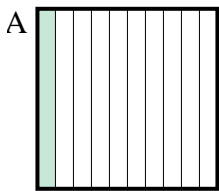
1) ¿Qué cuadrícula de 10×10 está sombreado para representar el número decimal que, cuando se añade a 0.95 da como resultado un total de 1.00?



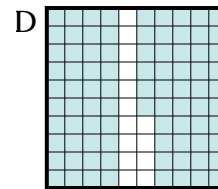
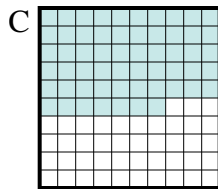
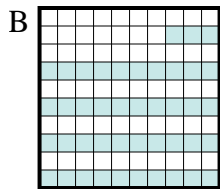
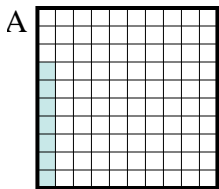
2) ¿Qué cuadrícula de 10×10 está sombreado para representar el número decimal que, cuando se añade a 0.92 da como resultado un total de 1.00?



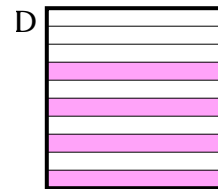
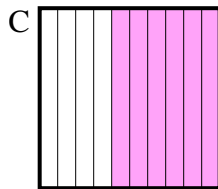
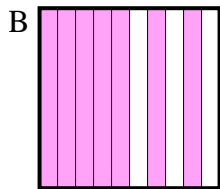
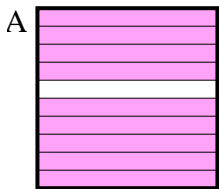
3) ¿Qué cuadrícula de 10×1 está sombreado para representar el número decimal que, cuando se añade a 0.7 da como resultado un total de 1.00?





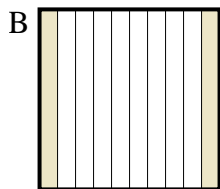

4) ¿Qué cuadrícula de 10×10 está sombreado para representar el número decimal que, cuando se añade a 0.93 da como resultado un total de 1.00?



5) ¿Qué cuadrícula de 10×1 está sombreado para representar el número decimal que, cuando se añade a 0.6 da como resultado un total de 1.00?



6) ¿Qué cuadrícula de 10×1 está sombreado para representar el número decimal que, cuando se añade a 0.4 da como resultado un total de 1.00?



Respuestas

1. **B**

2. **C**

3. **B**

4. **A**

5. **D**

6. **A**