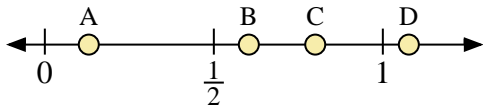
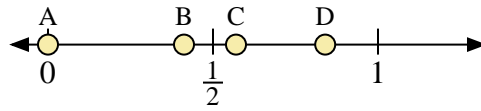




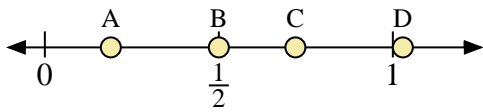
Usa las rectas numéricas para responder a las preguntas



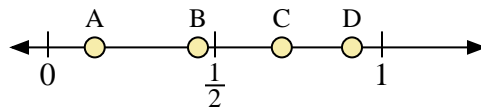
- 1) ¿Qué letra representa mejor la ubicación de 0.80?
- 2) ¿Qué letra representa mejor la ubicación de 0.13?



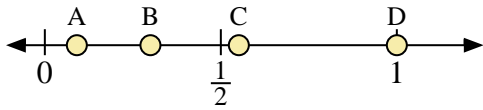
- 3) ¿Qué letra representa mejor la ubicación de 0.0?
- 4) ¿Qué letra representa mejor la ubicación de 0.84?



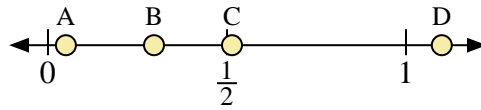
- 5) ¿Qué letra representa mejor la ubicación de 0.50?
- 6) ¿Qué letra representa mejor la ubicación de 0.72?



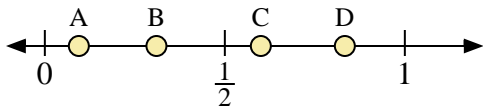
- 7) ¿Qué letra representa mejor la ubicación de 0.70?
- 8) ¿Qué letra representa mejor la ubicación de 0.14?



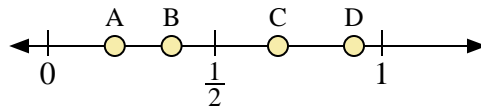
- 9) ¿Qué letra representa mejor la ubicación de 1.0?
- 10) ¿Qué letra representa mejor la ubicación de 0.30?



- 11) ¿Qué letra representa mejor la ubicación de 1.10?
- 12) ¿Qué letra representa mejor la ubicación de 0.05?



- 13) ¿Qué letra representa mejor la ubicación de 0.60?
- 14) ¿Qué letra representa mejor la ubicación de 0.31?



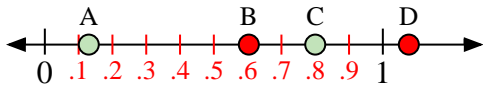
- 15) ¿Qué letra representa mejor la ubicación de 0.20?
- 16) ¿Qué letra representa mejor la ubicación de 0.37?

**Respuestas**

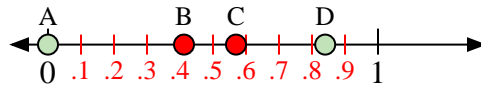
1. \_\_\_\_\_
2. \_\_\_\_\_
3. \_\_\_\_\_
4. \_\_\_\_\_
5. \_\_\_\_\_
6. \_\_\_\_\_
7. \_\_\_\_\_
8. \_\_\_\_\_
9. \_\_\_\_\_
10. \_\_\_\_\_
11. \_\_\_\_\_
12. \_\_\_\_\_
13. \_\_\_\_\_
14. \_\_\_\_\_
15. \_\_\_\_\_
16. \_\_\_\_\_



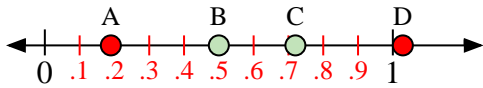
Usa las rectas numéricas para responder a las preguntas



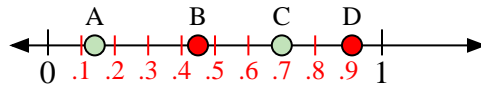
- 1) ¿Qué letra representa mejor la ubicación de 0.80?
- 2) ¿Qué letra representa mejor la ubicación de 0.13?



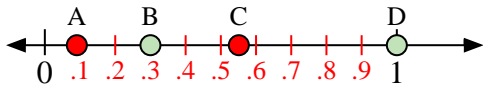
- 3) ¿Qué letra representa mejor la ubicación de 0.0?
- 4) ¿Qué letra representa mejor la ubicación de 0.84?



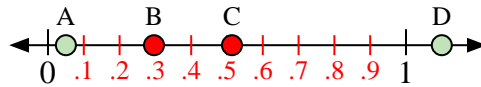
- 5) ¿Qué letra representa mejor la ubicación de 0.50?
- 6) ¿Qué letra representa mejor la ubicación de 0.72?



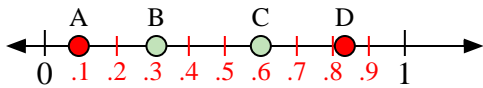
- 7) ¿Qué letra representa mejor la ubicación de 0.70?
- 8) ¿Qué letra representa mejor la ubicación de 0.14?



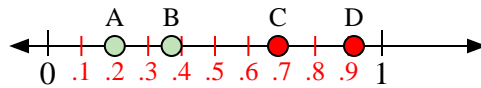
- 9) ¿Qué letra representa mejor la ubicación de 1.0?
- 10) ¿Qué letra representa mejor la ubicación de 0.30?



- 11) ¿Qué letra representa mejor la ubicación de 1.10?
- 12) ¿Qué letra representa mejor la ubicación de 0.05?



- 13) ¿Qué letra representa mejor la ubicación de 0.60?
- 14) ¿Qué letra representa mejor la ubicación de 0.31?



- 15) ¿Qué letra representa mejor la ubicación de 0.20?
- 16) ¿Qué letra representa mejor la ubicación de 0.37?

**Respuestas**

1. **C**
2. **A**
3. **A**
4. **D**
5. **B**
6. **C**
7. **C**
8. **A**
9. **D**
10. **B**
11. **D**
12. **A**
13. **C**
14. **B**
15. **A**
16. **B**