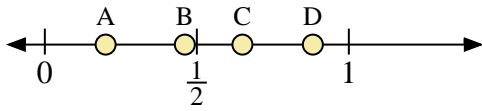
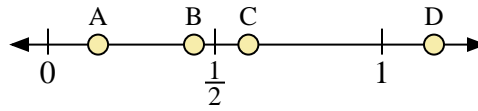




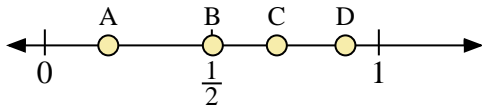
Usa las rectas numéricas para responder a las preguntas



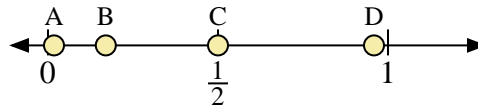
- 1) ¿Qué letra representa mejor la ubicación de 0.20?
- 2) ¿Qué letra representa mejor la ubicación de 0.65?



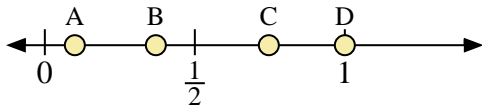
- 3) ¿Qué letra representa mejor la ubicación de 0.6?
- 4) ¿Qué letra representa mejor la ubicación de 0.15?



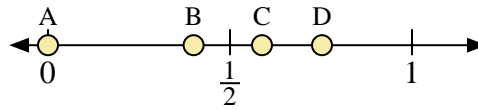
- 5) ¿Qué letra representa mejor la ubicación de 0.9?
- 6) ¿Qué letra representa mejor la ubicación de 0.19?



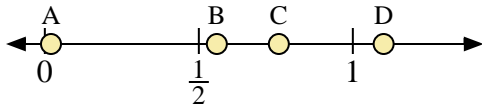
- 7) ¿Qué letra representa mejor la ubicación de 0.5?
- 8) ¿Qué letra representa mejor la ubicación de 0.17?



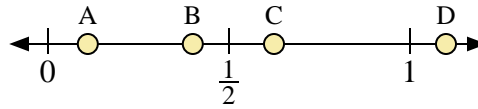
- 9) ¿Qué letra representa mejor la ubicación de 1.00?
- 10) ¿Qué letra representa mejor la ubicación de 0.37?



- 11) ¿Qué letra representa mejor la ubicación de 0.0?
- 12) ¿Qué letra representa mejor la ubicación de 0.40?



- 13) ¿Qué letra representa mejor la ubicación de 1.10?
- 14) ¿Qué letra representa mejor la ubicación de 0.02?



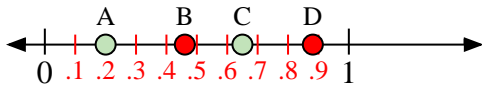
- 15) ¿Qué letra representa mejor la ubicación de 0.40?
- 16) ¿Qué letra representa mejor la ubicación de 0.11?

**Respuestas**

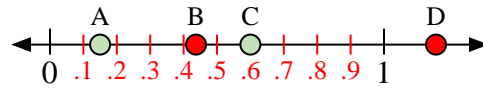
1. \_\_\_\_\_
2. \_\_\_\_\_
3. \_\_\_\_\_
4. \_\_\_\_\_
5. \_\_\_\_\_
6. \_\_\_\_\_
7. \_\_\_\_\_
8. \_\_\_\_\_
9. \_\_\_\_\_
10. \_\_\_\_\_
11. \_\_\_\_\_
12. \_\_\_\_\_
13. \_\_\_\_\_
14. \_\_\_\_\_
15. \_\_\_\_\_
16. \_\_\_\_\_



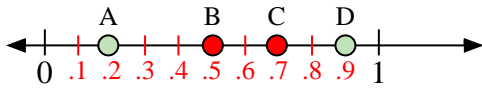
Usa las rectas numéricas para responder a las preguntas



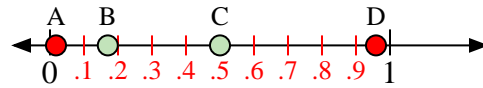
- 1) ¿Qué letra representa mejor la ubicación de 0.20?
- 2) ¿Qué letra representa mejor la ubicación de 0.65?



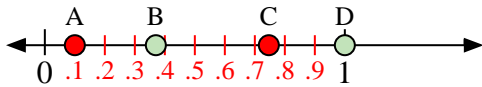
- 3) ¿Qué letra representa mejor la ubicación de 0.6?
- 4) ¿Qué letra representa mejor la ubicación de 0.15?



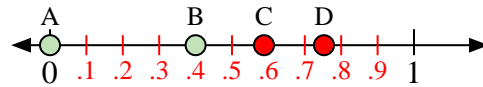
- 5) ¿Qué letra representa mejor la ubicación de 0.9?
- 6) ¿Qué letra representa mejor la ubicación de 0.19?



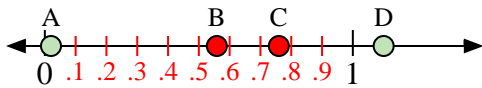
- 7) ¿Qué letra representa mejor la ubicación de 0.5?
- 8) ¿Qué letra representa mejor la ubicación de 0.17?



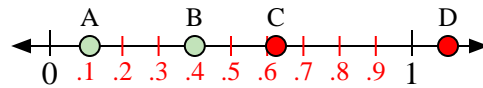
- 9) ¿Qué letra representa mejor la ubicación de 1.00?
- 10) ¿Qué letra representa mejor la ubicación de 0.37?



- 11) ¿Qué letra representa mejor la ubicación de 0.0?
- 12) ¿Qué letra representa mejor la ubicación de 0.40?



- 13) ¿Qué letra representa mejor la ubicación de 1.10?
- 14) ¿Qué letra representa mejor la ubicación de 0.02?



- 15) ¿Qué letra representa mejor la ubicación de 0.40?
- 16) ¿Qué letra representa mejor la ubicación de 0.11?

**Respuestas**

1. **A**
2. **C**
3. **C**
4. **A**
5. **D**
6. **A**
7. **C**
8. **B**
9. **D**
10. **B**
11. **A**
12. **B**
13. **D**
14. **A**
15. **B**
16. **A**