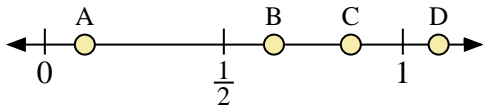
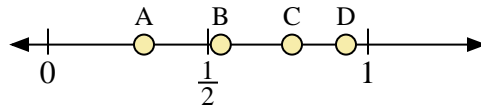




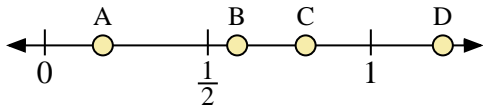
Usa las rectas numéricas para responder a las preguntas



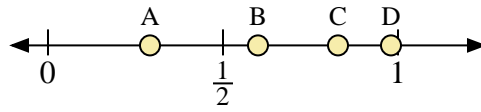
- 1) ¿Qué letra representa mejor la ubicación de 1.1?
- 2) ¿Qué letra representa mejor la ubicación de 0.64?



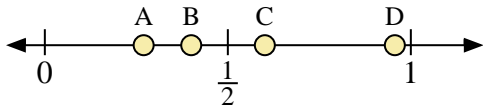
- 3) ¿Qué letra representa mejor la ubicación de 0.3?
- 4) ¿Qué letra representa mejor la ubicación de 0.54?



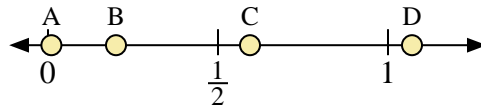
- 5) ¿Qué letra representa mejor la ubicación de 0.80?
- 6) ¿Qué letra representa mejor la ubicación de 0.59?



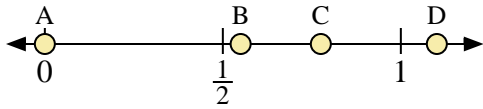
- 7) ¿Qué letra representa mejor la ubicación de 0.60?
- 8) ¿Qué letra representa mejor la ubicación de 0.98?



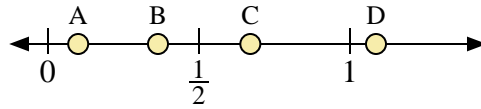
- 9) ¿Qué letra representa mejor la ubicación de 0.40?
- 10) ¿Qué letra representa mejor la ubicación de 0.27?



- 11) ¿Qué letra representa mejor la ubicación de 0.2?
- 12) ¿Qué letra representa mejor la ubicación de 0.01?



- 13) ¿Qué letra representa mejor la ubicación de 0.00?
- 14) ¿Qué letra representa mejor la ubicación de 0.55?



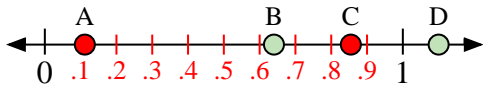
- 15) ¿Qué letra representa mejor la ubicación de 0.10?
- 16) ¿Qué letra representa mejor la ubicación de 0.67?

Respuestas

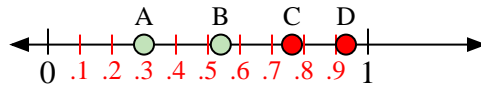
1. _____
2. _____
3. _____
4. _____
5. _____
6. _____
7. _____
8. _____
9. _____
10. _____
11. _____
12. _____
13. _____
14. _____
15. _____
16. _____



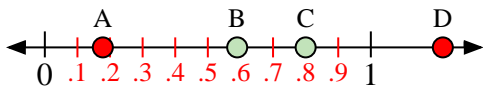
Usa las rectas numéricas para responder a las preguntas



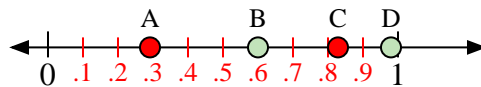
- 1) ¿Qué letra representa mejor la ubicación de 1.1?
- 2) ¿Qué letra representa mejor la ubicación de 0.64?



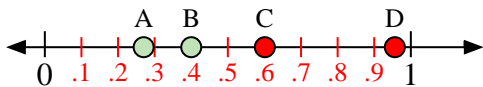
- 3) ¿Qué letra representa mejor la ubicación de 0.3?
- 4) ¿Qué letra representa mejor la ubicación de 0.54?



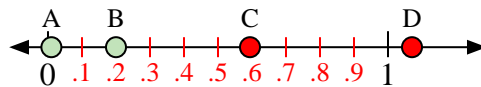
- 5) ¿Qué letra representa mejor la ubicación de 0.80?
- 6) ¿Qué letra representa mejor la ubicación de 0.59?



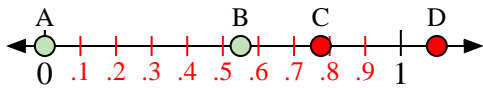
- 7) ¿Qué letra representa mejor la ubicación de 0.60?
- 8) ¿Qué letra representa mejor la ubicación de 0.98?



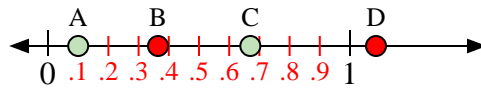
- 9) ¿Qué letra representa mejor la ubicación de 0.40?
- 10) ¿Qué letra representa mejor la ubicación de 0.27?



- 11) ¿Qué letra representa mejor la ubicación de 0.2?
- 12) ¿Qué letra representa mejor la ubicación de 0.01?



- 13) ¿Qué letra representa mejor la ubicación de 0.00?
- 14) ¿Qué letra representa mejor la ubicación de 0.55?



- 15) ¿Qué letra representa mejor la ubicación de 0.10?
- 16) ¿Qué letra representa mejor la ubicación de 0.67?

Respuestas

1. **D**
2. **B**
3. **A**
4. **B**
5. **C**
6. **B**
7. **B**
8. **D**
9. **B**
10. **A**
11. **B**
12. **A**
13. **A**
14. **B**
15. **A**
16. **C**