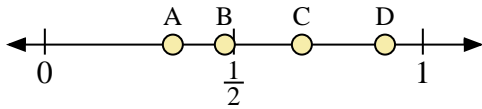
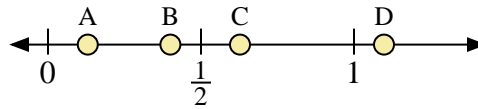




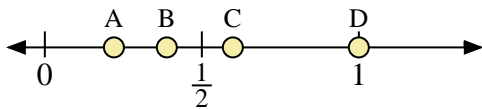
Usa las rectas numéricas para responder a las preguntas



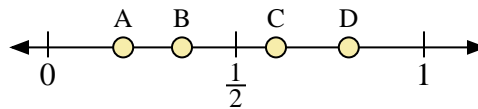
- 1) ¿Qué letra representa mejor la ubicación de 0.9?
- 2) ¿Qué letra representa mejor la ubicación de 0.68?



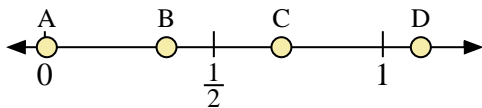
- 3) ¿Qué letra representa mejor la ubicación de 0.40?
- 4) ¿Qué letra representa mejor la ubicación de 0.13?



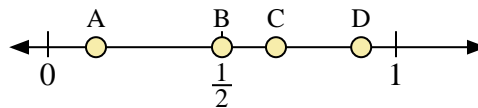
- 5) ¿Qué letra representa mejor la ubicación de 1.0?
- 6) ¿Qué letra representa mejor la ubicación de 0.22?



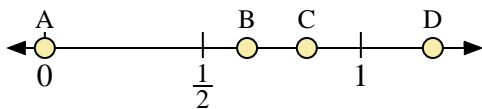
- 7) ¿Qué letra representa mejor la ubicación de 0.80?
- 8) ¿Qué letra representa mejor la ubicación de 0.20?



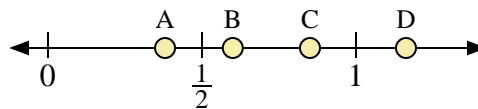
- 9) ¿Qué letra representa mejor la ubicación de 0.7?
- 10) ¿Qué letra representa mejor la ubicación de 0.36?



- 11) ¿Qué letra representa mejor la ubicación de 0.5?
- 12) ¿Qué letra representa mejor la ubicación de 0.90?



- 13) ¿Qué letra representa mejor la ubicación de 0.0?
- 14) ¿Qué letra representa mejor la ubicación de 0.64?



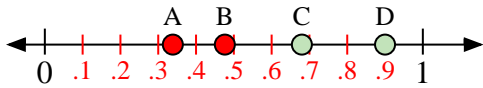
- 15) ¿Qué letra representa mejor la ubicación de 0.6?
- 16) ¿Qué letra representa mejor la ubicación de 0.38?

Respuestas

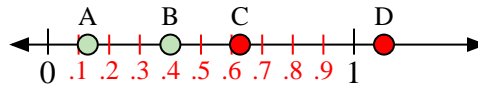
1. _____
2. _____
3. _____
4. _____
5. _____
6. _____
7. _____
8. _____
9. _____
10. _____
11. _____
12. _____
13. _____
14. _____
15. _____
16. _____



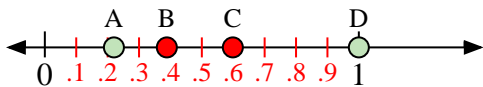
Usa las rectas numéricas para responder a las preguntas



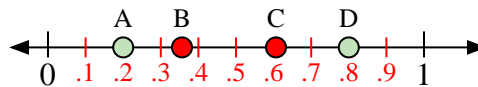
- 1) ¿Qué letra representa mejor la ubicación de 0.9?
- 2) ¿Qué letra representa mejor la ubicación de 0.68?



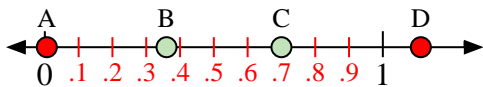
- 3) ¿Qué letra representa mejor la ubicación de 0.40?
- 4) ¿Qué letra representa mejor la ubicación de 0.13?



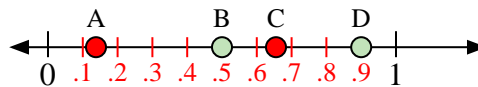
- 5) ¿Qué letra representa mejor la ubicación de 1.0?
- 6) ¿Qué letra representa mejor la ubicación de 0.22?



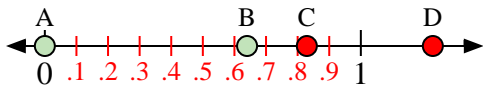
- 7) ¿Qué letra representa mejor la ubicación de 0.80?
- 8) ¿Qué letra representa mejor la ubicación de 0.20?



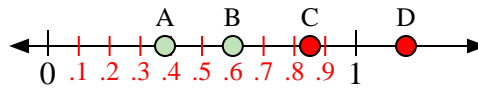
- 9) ¿Qué letra representa mejor la ubicación de 0.7?
- 10) ¿Qué letra representa mejor la ubicación de 0.36?



- 11) ¿Qué letra representa mejor la ubicación de 0.5?
- 12) ¿Qué letra representa mejor la ubicación de 0.90?



- 13) ¿Qué letra representa mejor la ubicación de 0.0?
- 14) ¿Qué letra representa mejor la ubicación de 0.64?



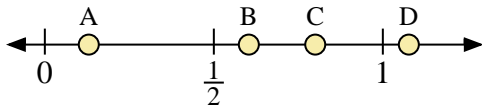
- 15) ¿Qué letra representa mejor la ubicación de 0.6?
- 16) ¿Qué letra representa mejor la ubicación de 0.38?

Respuestas

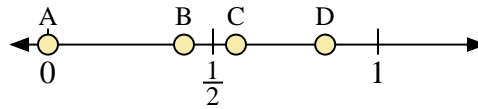
1. **D**
2. **C**
3. **B**
4. **A**
5. **D**
6. **A**
7. **D**
8. **A**
9. **C**
10. **B**
11. **B**
12. **D**
13. **A**
14. **B**
15. **B**
16. **A**



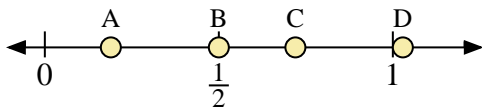
Usa las rectas numéricas para responder a las preguntas



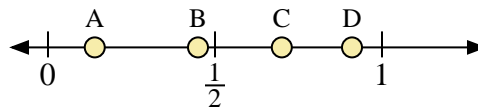
- 1) ¿Qué letra representa mejor la ubicación de 0.80?
- 2) ¿Qué letra representa mejor la ubicación de 0.13?



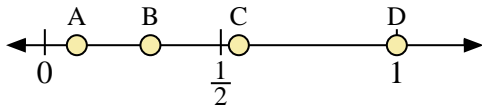
- 3) ¿Qué letra representa mejor la ubicación de 0.0?
- 4) ¿Qué letra representa mejor la ubicación de 0.84?



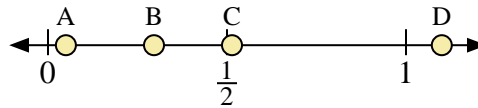
- 5) ¿Qué letra representa mejor la ubicación de 0.50?
- 6) ¿Qué letra representa mejor la ubicación de 0.72?



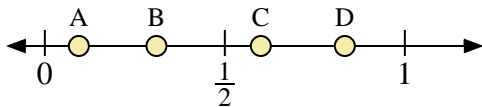
- 7) ¿Qué letra representa mejor la ubicación de 0.70?
- 8) ¿Qué letra representa mejor la ubicación de 0.14?



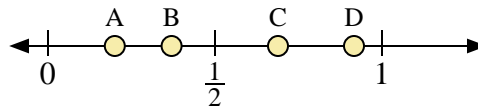
- 9) ¿Qué letra representa mejor la ubicación de 1.0?
- 10) ¿Qué letra representa mejor la ubicación de 0.30?



- 11) ¿Qué letra representa mejor la ubicación de 1.10?
- 12) ¿Qué letra representa mejor la ubicación de 0.05?



- 13) ¿Qué letra representa mejor la ubicación de 0.60?
- 14) ¿Qué letra representa mejor la ubicación de 0.31?



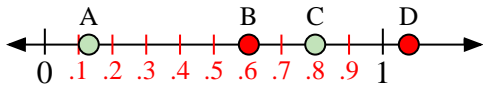
- 15) ¿Qué letra representa mejor la ubicación de 0.20?
- 16) ¿Qué letra representa mejor la ubicación de 0.37?

Respuestas

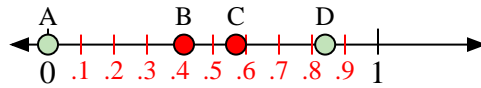
1. _____
2. _____
3. _____
4. _____
5. _____
6. _____
7. _____
8. _____
9. _____
10. _____
11. _____
12. _____
13. _____
14. _____
15. _____
16. _____



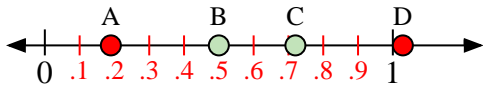
Usa las rectas numéricas para responder a las preguntas



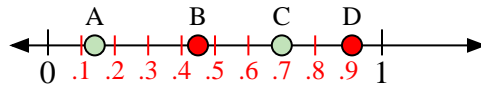
- 1) ¿Qué letra representa mejor la ubicación de 0.80?
- 2) ¿Qué letra representa mejor la ubicación de 0.13?



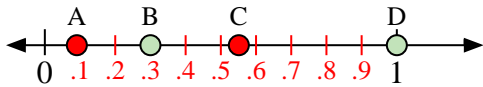
- 3) ¿Qué letra representa mejor la ubicación de 0.0?
- 4) ¿Qué letra representa mejor la ubicación de 0.84?



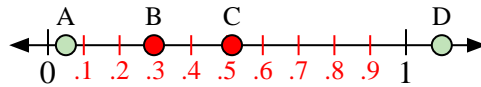
- 5) ¿Qué letra representa mejor la ubicación de 0.50?
- 6) ¿Qué letra representa mejor la ubicación de 0.72?



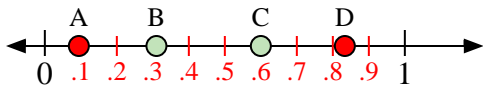
- 7) ¿Qué letra representa mejor la ubicación de 0.70?
- 8) ¿Qué letra representa mejor la ubicación de 0.14?



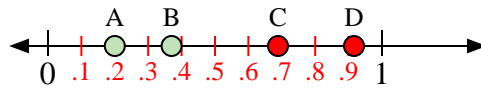
- 9) ¿Qué letra representa mejor la ubicación de 1.0?
- 10) ¿Qué letra representa mejor la ubicación de 0.30?



- 11) ¿Qué letra representa mejor la ubicación de 1.10?
- 12) ¿Qué letra representa mejor la ubicación de 0.05?



- 13) ¿Qué letra representa mejor la ubicación de 0.60?
- 14) ¿Qué letra representa mejor la ubicación de 0.31?



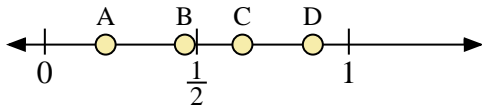
- 15) ¿Qué letra representa mejor la ubicación de 0.20?
- 16) ¿Qué letra representa mejor la ubicación de 0.37?

Respuestas

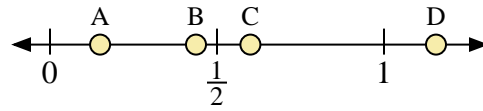
1. **C**
2. **A**
3. **A**
4. **D**
5. **B**
6. **C**
7. **C**
8. **A**
9. **D**
10. **B**
11. **D**
12. **A**
13. **C**
14. **B**
15. **A**
16. **B**



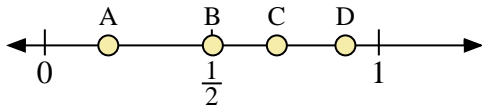
Usa las rectas numéricas para responder a las preguntas



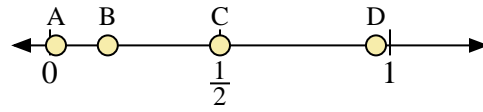
- 1) ¿Qué letra representa mejor la ubicación de 0.20?
- 2) ¿Qué letra representa mejor la ubicación de 0.65?



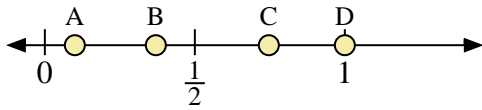
- 3) ¿Qué letra representa mejor la ubicación de 0.6?
- 4) ¿Qué letra representa mejor la ubicación de 0.15?



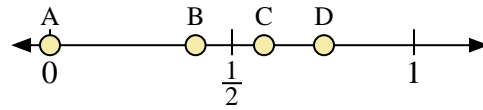
- 5) ¿Qué letra representa mejor la ubicación de 0.9?
- 6) ¿Qué letra representa mejor la ubicación de 0.19?



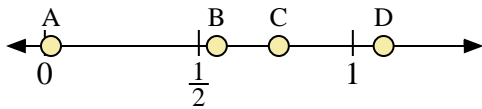
- 7) ¿Qué letra representa mejor la ubicación de 0.5?
- 8) ¿Qué letra representa mejor la ubicación de 0.17?



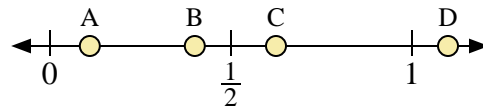
- 9) ¿Qué letra representa mejor la ubicación de 1.00?
- 10) ¿Qué letra representa mejor la ubicación de 0.37?



- 11) ¿Qué letra representa mejor la ubicación de 0.0?
- 12) ¿Qué letra representa mejor la ubicación de 0.40?



- 13) ¿Qué letra representa mejor la ubicación de 1.10?
- 14) ¿Qué letra representa mejor la ubicación de 0.02?



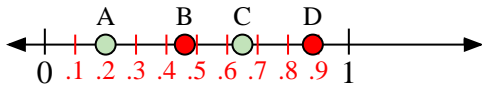
- 15) ¿Qué letra representa mejor la ubicación de 0.40?
- 16) ¿Qué letra representa mejor la ubicación de 0.11?

Respuestas

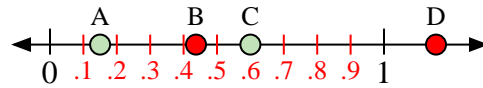
1. _____
2. _____
3. _____
4. _____
5. _____
6. _____
7. _____
8. _____
9. _____
10. _____
11. _____
12. _____
13. _____
14. _____
15. _____
16. _____



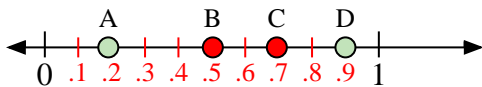
Usa las rectas numéricas para responder a las preguntas



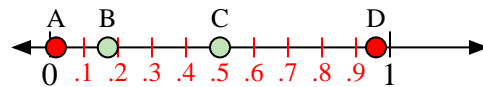
- 1) ¿Qué letra representa mejor la ubicación de 0.20?
- 2) ¿Qué letra representa mejor la ubicación de 0.65?



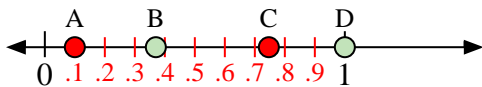
- 3) ¿Qué letra representa mejor la ubicación de 0.6?
- 4) ¿Qué letra representa mejor la ubicación de 0.15?



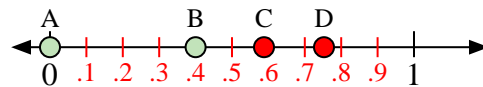
- 5) ¿Qué letra representa mejor la ubicación de 0.9?
- 6) ¿Qué letra representa mejor la ubicación de 0.19?



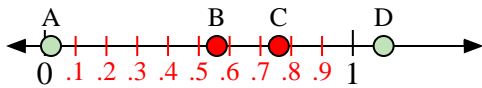
- 7) ¿Qué letra representa mejor la ubicación de 0.5?
- 8) ¿Qué letra representa mejor la ubicación de 0.17?



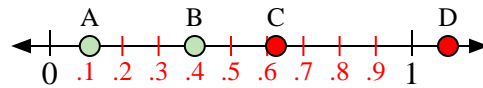
- 9) ¿Qué letra representa mejor la ubicación de 1.00?
- 10) ¿Qué letra representa mejor la ubicación de 0.37?



- 11) ¿Qué letra representa mejor la ubicación de 0.0?
- 12) ¿Qué letra representa mejor la ubicación de 0.40?



- 13) ¿Qué letra representa mejor la ubicación de 1.10?
- 14) ¿Qué letra representa mejor la ubicación de 0.02?



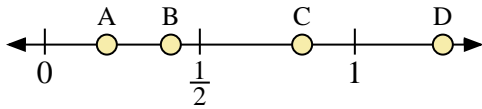
- 15) ¿Qué letra representa mejor la ubicación de 0.40?
- 16) ¿Qué letra representa mejor la ubicación de 0.11?

Respuestas

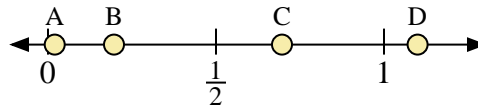
1. **A**
2. **C**
3. **C**
4. **A**
5. **D**
6. **A**
7. **C**
8. **B**
9. **D**
10. **B**
11. **A**
12. **B**
13. **D**
14. **A**
15. **B**
16. **A**



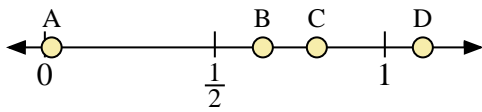
Usa las rectas numéricas para responder a las preguntas



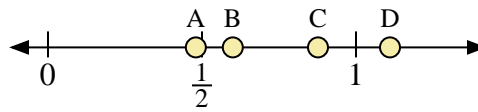
- 1) ¿Qué letra representa mejor la ubicación de 0.2?
- 2) ¿Qué letra representa mejor la ubicación de 0.83?



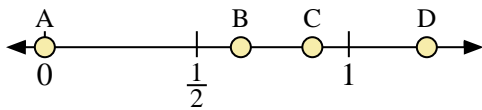
- 3) ¿Qué letra representa mejor la ubicación de 1.10?
- 4) ¿Qué letra representa mejor la ubicación de 0.02?



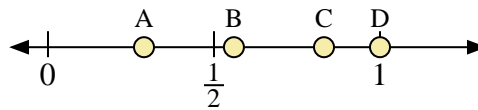
- 5) ¿Qué letra representa mejor la ubicación de 0.8?
- 6) ¿Qué letra representa mejor la ubicación de 0.02?



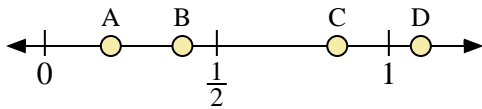
- 7) ¿Qué letra representa mejor la ubicación de 0.60?
- 8) ¿Qué letra representa mejor la ubicación de 0.48?



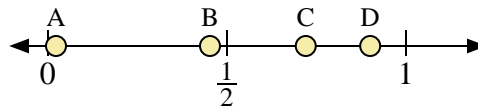
- 9) ¿Qué letra representa mejor la ubicación de 0.0?
- 10) ¿Qué letra representa mejor la ubicación de 0.88?



- 11) ¿Qué letra representa mejor la ubicación de 1.0?
- 12) ¿Qué letra representa mejor la ubicación de 0.56?



- 13) ¿Qué letra representa mejor la ubicación de 0.4?
- 14) ¿Qué letra representa mejor la ubicación de 0.85?




- 15) ¿Qué letra representa mejor la ubicación de 0.90?
- 16) ¿Qué letra representa mejor la ubicación de 0.72?

Respuestas

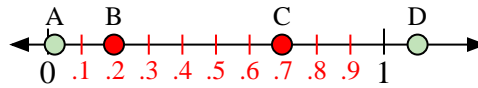
1. _____
2. _____
3. _____
4. _____
5. _____
6. _____
7. _____
8. _____
9. _____
10. _____
11. _____
12. _____
13. _____
14. _____
15. _____
16. _____



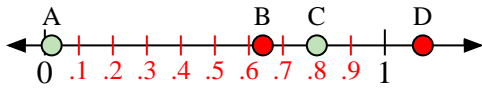
Usa las rectas numéricas para responder a las preguntas



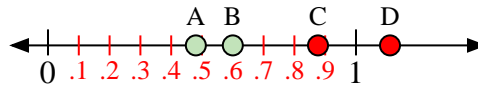
- 1) ¿Qué letra representa mejor la ubicación de 0.2?
- 2) ¿Qué letra representa mejor la ubicación de 0.83?



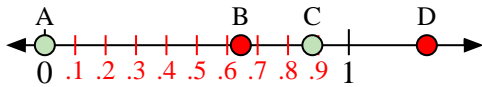
- 3) ¿Qué letra representa mejor la ubicación de 1.10?
- 4) ¿Qué letra representa mejor la ubicación de 0.02?



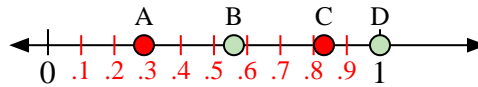
- 5) ¿Qué letra representa mejor la ubicación de 0.8?
- 6) ¿Qué letra representa mejor la ubicación de 0.02?



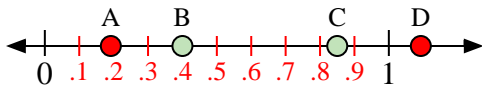
- 7) ¿Qué letra representa mejor la ubicación de 0.60?
- 8) ¿Qué letra representa mejor la ubicación de 0.48?



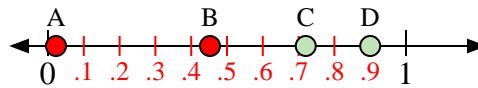
- 9) ¿Qué letra representa mejor la ubicación de 0.0?
- 10) ¿Qué letra representa mejor la ubicación de 0.88?



- 11) ¿Qué letra representa mejor la ubicación de 1.0?
- 12) ¿Qué letra representa mejor la ubicación de 0.56?



- 13) ¿Qué letra representa mejor la ubicación de 0.4?
- 14) ¿Qué letra representa mejor la ubicación de 0.85?



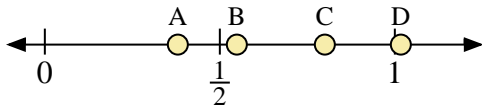
- 15) ¿Qué letra representa mejor la ubicación de 0.90?
- 16) ¿Qué letra representa mejor la ubicación de 0.72?

Respuestas

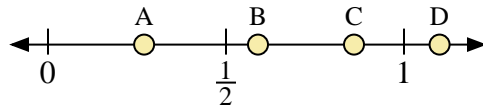
1. **A**
2. **C**
3. **D**
4. **A**
5. **C**
6. **A**
7. **B**
8. **A**
9. **A**
10. **C**
11. **D**
12. **B**
13. **B**
14. **C**
15. **D**
16. **C**



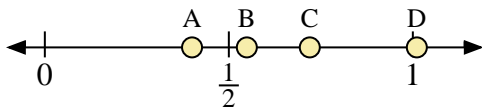
Usa las rectas numéricas para responder a las preguntas



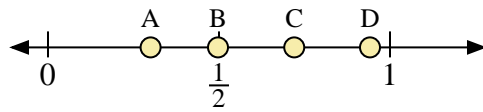
- 1) ¿Qué letra representa mejor la ubicación de 0.80?
- 2) ¿Qué letra representa mejor la ubicación de 0.38?



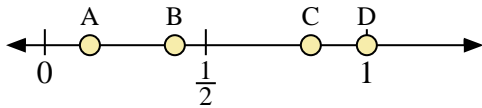
- 3) ¿Qué letra representa mejor la ubicación de 1.1?
- 4) ¿Qué letra representa mejor la ubicación de 0.27?



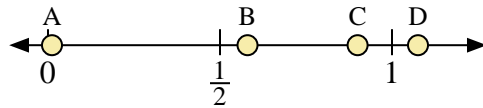
- 5) ¿Qué letra representa mejor la ubicación de 0.40?
- 6) ¿Qué letra representa mejor la ubicación de 0.72?



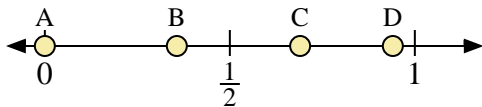
- 7) ¿Qué letra representa mejor la ubicación de 0.3?
- 8) ¿Qué letra representa mejor la ubicación de 0.72?



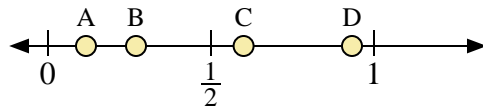
- 9) ¿Qué letra representa mejor la ubicación de 1.0?
- 10) ¿Qué letra representa mejor la ubicación de 0.14?



- 11) ¿Qué letra representa mejor la ubicación de 0.90?
- 12) ¿Qué letra representa mejor la ubicación de 0.58?



- 13) ¿Qué letra representa mejor la ubicación de 0.0?
- 14) ¿Qué letra representa mejor la ubicación de 0.69?



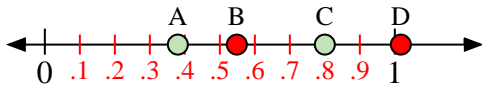
- 15) ¿Qué letra representa mejor la ubicación de 0.6?
- 16) ¿Qué letra representa mejor la ubicación de 0.27?

Respuestas

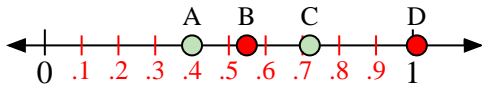
1. _____
2. _____
3. _____
4. _____
5. _____
6. _____
7. _____
8. _____
9. _____
10. _____
11. _____
12. _____
13. _____
14. _____
15. _____
16. _____




Usa las rectas numéricas para responder a las preguntas



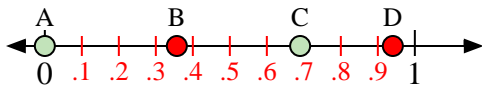
- 1) ¿Qué letra representa mejor la ubicación de 0.80?
- 2) ¿Qué letra representa mejor la ubicación de 0.38?



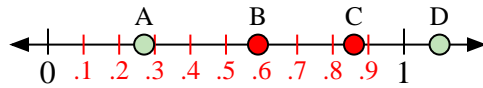
- 5) ¿Qué letra representa mejor la ubicación de 0.40?
- 6) ¿Qué letra representa mejor la ubicación de 0.72?



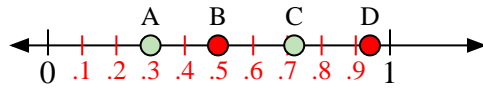
- 9) ¿Qué letra representa mejor la ubicación de 1.0?
- 10) ¿Qué letra representa mejor la ubicación de 0.14?



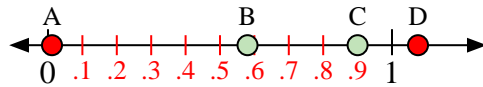
- 13) ¿Qué letra representa mejor la ubicación de 0.0?
- 14) ¿Qué letra representa mejor la ubicación de 0.69?



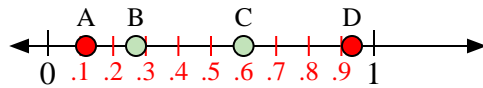
- 3) ¿Qué letra representa mejor la ubicación de 1.1?
- 4) ¿Qué letra representa mejor la ubicación de 0.27?



- 7) ¿Qué letra representa mejor la ubicación de 0.3?
- 8) ¿Qué letra representa mejor la ubicación de 0.72?



- 11) ¿Qué letra representa mejor la ubicación de 0.90?
- 12) ¿Qué letra representa mejor la ubicación de 0.58?



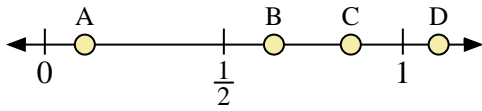
- 15) ¿Qué letra representa mejor la ubicación de 0.6?
- 16) ¿Qué letra representa mejor la ubicación de 0.27?

Respuestas

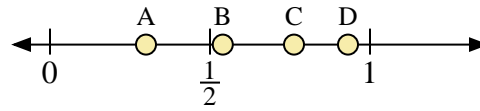
1. **C**
2. **A**
3. **D**
4. **A**
5. **A**
6. **C**
7. **A**
8. **C**
9. **D**
10. **A**
11. **C**
12. **B**
13. **A**
14. **C**
15. **C**
16. **B**



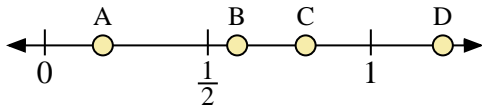
Usa las rectas numéricas para responder a las preguntas



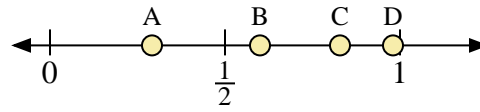
- 1) ¿Qué letra representa mejor la ubicación de 1.1?
- 2) ¿Qué letra representa mejor la ubicación de 0.64?



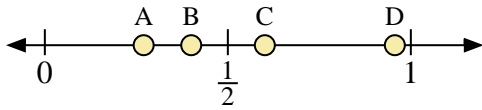
- 3) ¿Qué letra representa mejor la ubicación de 0.3?
- 4) ¿Qué letra representa mejor la ubicación de 0.54?



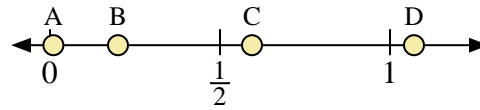
- 5) ¿Qué letra representa mejor la ubicación de 0.80?
- 6) ¿Qué letra representa mejor la ubicación de 0.59?



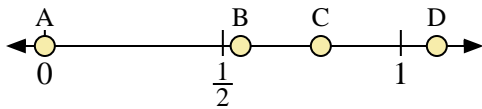
- 7) ¿Qué letra representa mejor la ubicación de 0.60?
- 8) ¿Qué letra representa mejor la ubicación de 0.98?



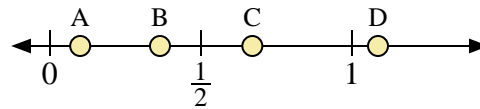
- 9) ¿Qué letra representa mejor la ubicación de 0.40?
- 10) ¿Qué letra representa mejor la ubicación de 0.27?



- 11) ¿Qué letra representa mejor la ubicación de 0.2?
- 12) ¿Qué letra representa mejor la ubicación de 0.01?



- 13) ¿Qué letra representa mejor la ubicación de 0.00?
- 14) ¿Qué letra representa mejor la ubicación de 0.55?



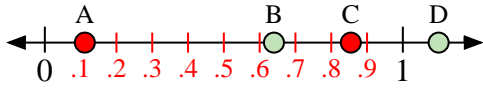
- 15) ¿Qué letra representa mejor la ubicación de 0.10?
- 16) ¿Qué letra representa mejor la ubicación de 0.67?

Respuestas

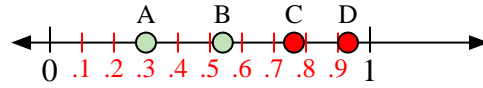
1. _____
2. _____
3. _____
4. _____
5. _____
6. _____
7. _____
8. _____
9. _____
10. _____
11. _____
12. _____
13. _____
14. _____
15. _____
16. _____



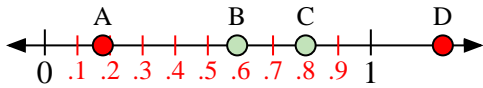
Usa las rectas numéricas para responder a las preguntas



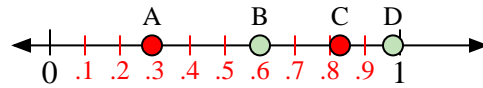
- 1) ¿Qué letra representa mejor la ubicación de 1.1?
- 2) ¿Qué letra representa mejor la ubicación de 0.64?



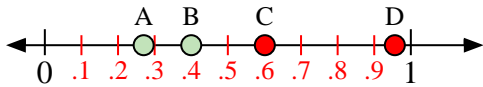
- 3) ¿Qué letra representa mejor la ubicación de 0.3?
- 4) ¿Qué letra representa mejor la ubicación de 0.54?



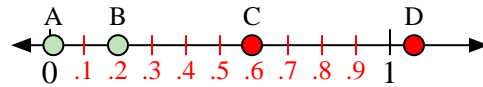
- 5) ¿Qué letra representa mejor la ubicación de 0.80?
- 6) ¿Qué letra representa mejor la ubicación de 0.59?



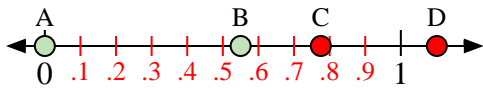
- 7) ¿Qué letra representa mejor la ubicación de 0.60?
- 8) ¿Qué letra representa mejor la ubicación de 0.98?



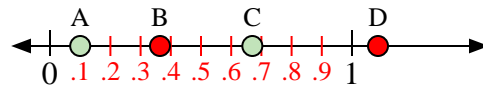
- 9) ¿Qué letra representa mejor la ubicación de 0.40?
- 10) ¿Qué letra representa mejor la ubicación de 0.27?



- 11) ¿Qué letra representa mejor la ubicación de 0.2?
- 12) ¿Qué letra representa mejor la ubicación de 0.01?



- 13) ¿Qué letra representa mejor la ubicación de 0.00?
- 14) ¿Qué letra representa mejor la ubicación de 0.55?



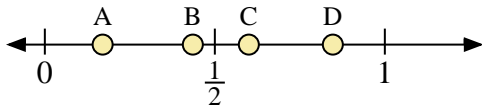
- 15) ¿Qué letra representa mejor la ubicación de 0.10?
- 16) ¿Qué letra representa mejor la ubicación de 0.67?

Respuestas

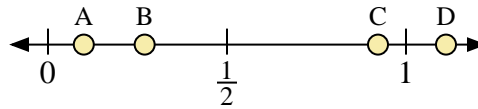
1. **D**
2. **B**
3. **A**
4. **B**
5. **C**
6. **B**
7. **B**
8. **D**
9. **B**
10. **A**
11. **B**
12. **A**
13. **A**
14. **B**
15. **A**
16. **C**



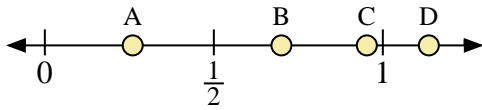
Usa las rectas numéricas para responder a las preguntas



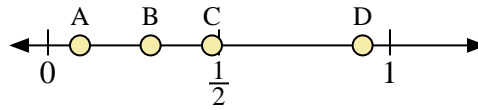
- 1) ¿Qué letra representa mejor la ubicación de 0.60?
- 2) ¿Qué letra representa mejor la ubicación de 0.17?



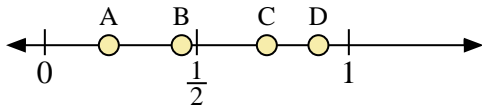
- 3) ¿Qué letra representa mejor la ubicación de 0.1?
- 4) ¿Qué letra representa mejor la ubicación de 0.27?



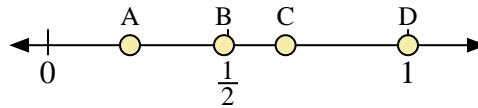
- 5) ¿Qué letra representa mejor la ubicación de 0.7?
- 6) ¿Qué letra representa mejor la ubicación de 0.26?



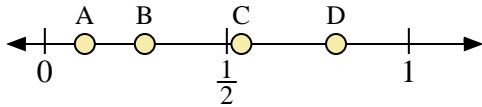
- 7) ¿Qué letra representa mejor la ubicación de 0.3?
- 8) ¿Qué letra representa mejor la ubicación de 0.92?



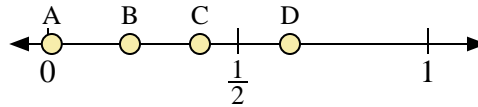
- 9) ¿Qué letra representa mejor la ubicación de 0.90?
- 10) ¿Qué letra representa mejor la ubicación de 0.45?



- 11) ¿Qué letra representa mejor la ubicación de 1.0?
- 12) ¿Qué letra representa mejor la ubicación de 0.66?



- 13) ¿Qué letra representa mejor la ubicación de 0.8?
- 14) ¿Qué letra representa mejor la ubicación de 0.54?



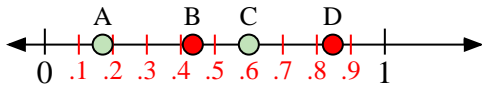
- 15) ¿Qué letra representa mejor la ubicación de 0.40?
- 16) ¿Qué letra representa mejor la ubicación de 0.01?

Respuestas

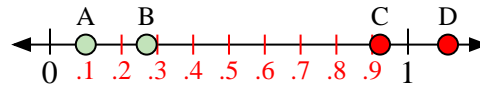
1. _____
2. _____
3. _____
4. _____
5. _____
6. _____
7. _____
8. _____
9. _____
10. _____
11. _____
12. _____
13. _____
14. _____
15. _____
16. _____



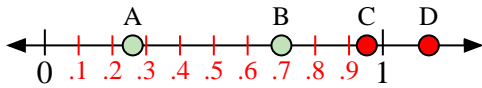
Usa las rectas numéricas para responder a las preguntas



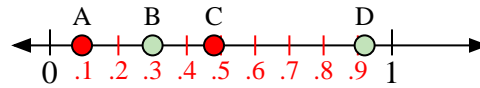
- 1) ¿Qué letra representa mejor la ubicación de 0.60?
- 2) ¿Qué letra representa mejor la ubicación de 0.17?



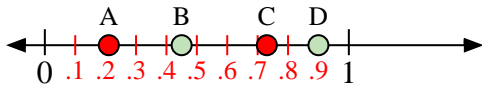
- 3) ¿Qué letra representa mejor la ubicación de 0.1?
- 4) ¿Qué letra representa mejor la ubicación de 0.27?



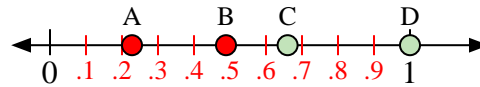
- 5) ¿Qué letra representa mejor la ubicación de 0.7?
- 6) ¿Qué letra representa mejor la ubicación de 0.26?



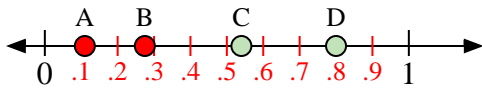
- 7) ¿Qué letra representa mejor la ubicación de 0.3?
- 8) ¿Qué letra representa mejor la ubicación de 0.92?



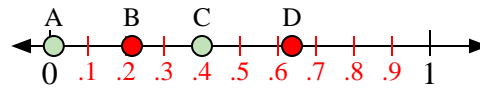
- 9) ¿Qué letra representa mejor la ubicación de 0.90?
- 10) ¿Qué letra representa mejor la ubicación de 0.45?



- 11) ¿Qué letra representa mejor la ubicación de 1.0?
- 12) ¿Qué letra representa mejor la ubicación de 0.66?



- 13) ¿Qué letra representa mejor la ubicación de 0.8?
- 14) ¿Qué letra representa mejor la ubicación de 0.54?



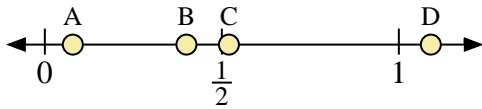
- 15) ¿Qué letra representa mejor la ubicación de 0.40?
- 16) ¿Qué letra representa mejor la ubicación de 0.01?

Respuestas

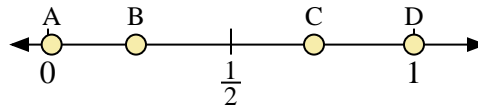
1. **C**
2. **A**
3. **A**
4. **B**
5. **B**
6. **A**
7. **B**
8. **D**
9. **D**
10. **B**
11. **D**
12. **C**
13. **D**
14. **C**
15. **C**
16. **A**



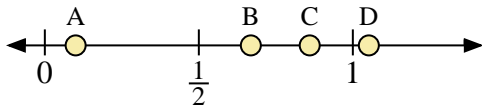
Usa las rectas numéricas para responder a las preguntas



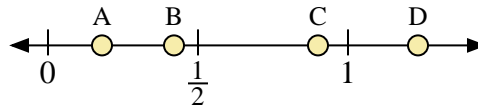
- 1) ¿Qué letra representa mejor la ubicación de 0.4?
- 2) ¿Qué letra representa mejor la ubicación de 0.52?



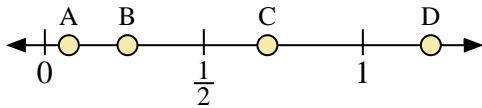
- 3) ¿Qué letra representa mejor la ubicación de 1.0?
- 4) ¿Qué letra representa mejor la ubicación de 0.01?



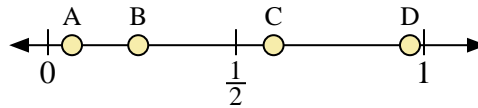
- 5) ¿Qué letra representa mejor la ubicación de 0.10?
- 6) ¿Qué letra representa mejor la ubicación de 0.86?



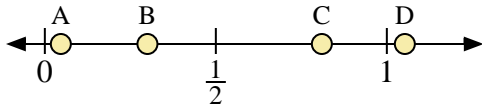
- 7) ¿Qué letra representa mejor la ubicación de 0.9?
- 8) ¿Qué letra representa mejor la ubicación de 0.18?



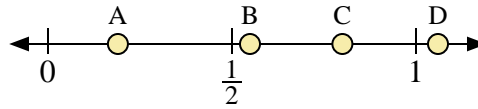
- 9) ¿Qué letra representa mejor la ubicación de 0.70?
- 10) ¿Qué letra representa mejor la ubicación de 0.26?



- 11) ¿Qué letra representa mejor la ubicación de 0.60?
- 12) ¿Qué letra representa mejor la ubicación de 0.24?



- 13) ¿Qué letra representa mejor la ubicación de 0.30?
- 14) ¿Qué letra representa mejor la ubicación de 0.81?



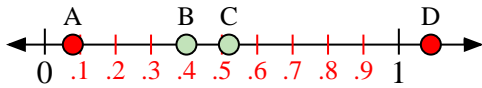
- 15) ¿Qué letra representa mejor la ubicación de 0.80?
- 16) ¿Qué letra representa mejor la ubicación de 0.19?

Respuestas

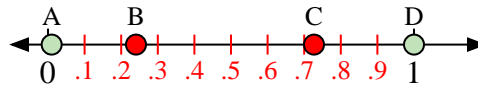
1. _____
2. _____
3. _____
4. _____
5. _____
6. _____
7. _____
8. _____
9. _____
10. _____
11. _____
12. _____
13. _____
14. _____
15. _____
16. _____



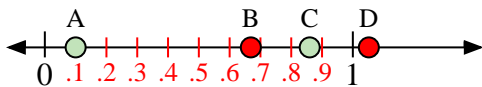
Usa las rectas numéricas para responder a las preguntas



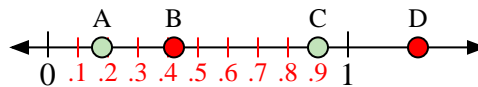
- 1) ¿Qué letra representa mejor la ubicación de 0.4?
- 2) ¿Qué letra representa mejor la ubicación de 0.52?



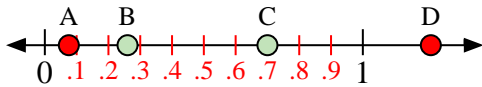
- 3) ¿Qué letra representa mejor la ubicación de 1.0?
- 4) ¿Qué letra representa mejor la ubicación de 0.01?



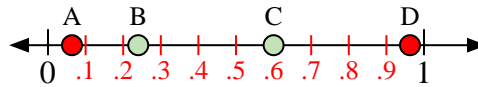
- 5) ¿Qué letra representa mejor la ubicación de 0.10?
- 6) ¿Qué letra representa mejor la ubicación de 0.86?



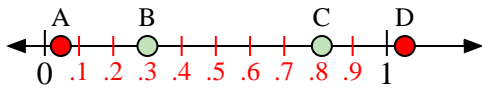
- 7) ¿Qué letra representa mejor la ubicación de 0.9?
- 8) ¿Qué letra representa mejor la ubicación de 0.18?



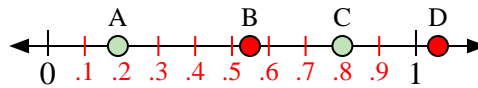
- 9) ¿Qué letra representa mejor la ubicación de 0.70?
- 10) ¿Qué letra representa mejor la ubicación de 0.26?



- 11) ¿Qué letra representa mejor la ubicación de 0.60?
- 12) ¿Qué letra representa mejor la ubicación de 0.24?



- 13) ¿Qué letra representa mejor la ubicación de 0.30?
- 14) ¿Qué letra representa mejor la ubicación de 0.81?



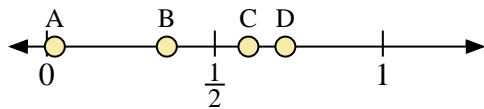
- 15) ¿Qué letra representa mejor la ubicación de 0.80?
- 16) ¿Qué letra representa mejor la ubicación de 0.19?

Respuestas

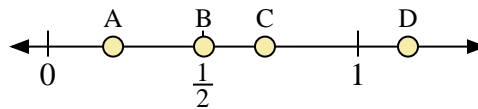
1. **B**
2. **C**
3. **D**
4. **A**
5. **A**
6. **C**
7. **C**
8. **A**
9. **C**
10. **B**
11. **C**
12. **B**
13. **B**
14. **C**
15. **C**
16. **A**



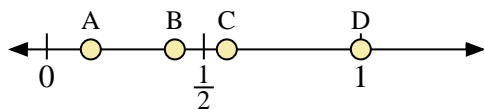
Usa las rectas numéricas para responder a las preguntas



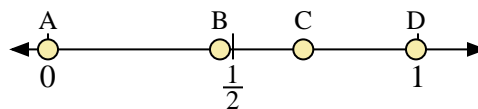
- 1) ¿Qué letra representa mejor la ubicación de 0.6?
- 2) ¿Qué letra representa mejor la ubicación de 0.71?



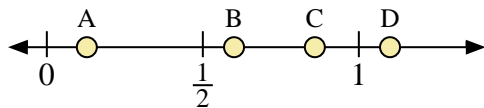
- 3) ¿Qué letra representa mejor la ubicación de 0.70?
- 4) ¿Qué letra representa mejor la ubicación de 0.21?



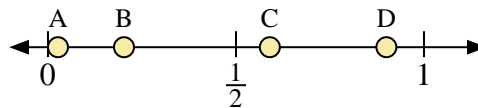
- 5) ¿Qué letra representa mejor la ubicación de 1.00?
- 6) ¿Qué letra representa mejor la ubicación de 0.14?



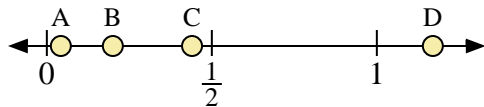
- 7) ¿Qué letra representa mejor la ubicación de 0.0?
- 8) ¿Qué letra representa mejor la ubicación de 0.69?



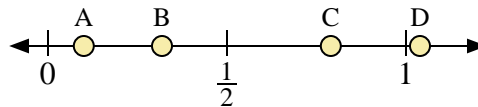
- 9) ¿Qué letra representa mejor la ubicación de 1.10?
- 10) ¿Qué letra representa mejor la ubicación de 0.60?



- 11) ¿Qué letra representa mejor la ubicación de 0.90?
- 12) ¿Qué letra representa mejor la ubicación de 0.59?



- 13) ¿Qué letra representa mejor la ubicación de 0.2?
- 14) ¿Qué letra representa mejor la ubicación de 0.44?



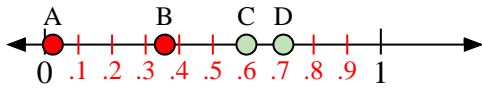
- 15) ¿Qué letra representa mejor la ubicación de 0.1?
- 16) ¿Qué letra representa mejor la ubicación de 0.79?

Respuestas

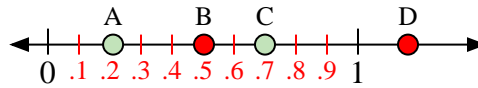
1. _____
2. _____
3. _____
4. _____
5. _____
6. _____
7. _____
8. _____
9. _____
10. _____
11. _____
12. _____
13. _____
14. _____
15. _____
16. _____



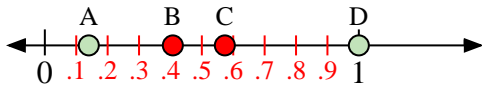
Usa las rectas numéricas para responder a las preguntas



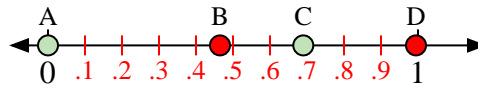
- 1) ¿Qué letra representa mejor la ubicación de 0.6?
- 2) ¿Qué letra representa mejor la ubicación de 0.71?



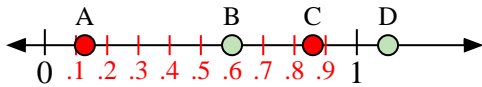
- 3) ¿Qué letra representa mejor la ubicación de 0.70?
- 4) ¿Qué letra representa mejor la ubicación de 0.21?



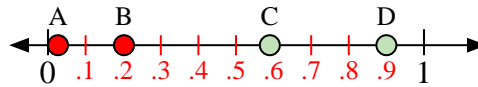
- 5) ¿Qué letra representa mejor la ubicación de 1.00?
- 6) ¿Qué letra representa mejor la ubicación de 0.14?



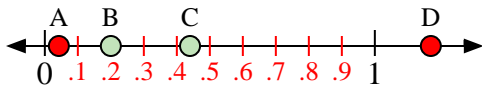
- 7) ¿Qué letra representa mejor la ubicación de 0.0?
- 8) ¿Qué letra representa mejor la ubicación de 0.69?



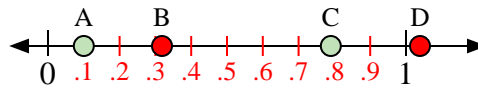
- 9) ¿Qué letra representa mejor la ubicación de 1.10?
- 10) ¿Qué letra representa mejor la ubicación de 0.60?



- 11) ¿Qué letra representa mejor la ubicación de 0.90?
- 12) ¿Qué letra representa mejor la ubicación de 0.59?



- 13) ¿Qué letra representa mejor la ubicación de 0.2?
- 14) ¿Qué letra representa mejor la ubicación de 0.44?



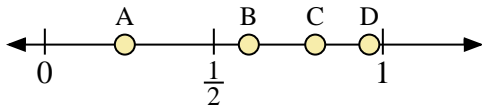
- 15) ¿Qué letra representa mejor la ubicación de 0.1?
- 16) ¿Qué letra representa mejor la ubicación de 0.79?

Respuestas

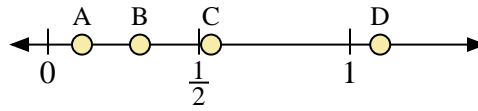
1. **C**
2. **D**
3. **C**
4. **A**
5. **D**
6. **A**
7. **A**
8. **C**
9. **D**
10. **B**
11. **D**
12. **C**
13. **B**
14. **C**
15. **A**
16. **C**



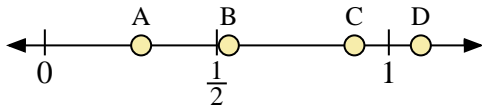
Usa las rectas numéricas para responder a las preguntas



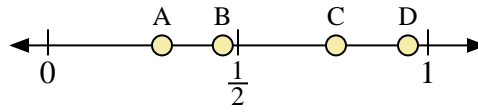
- 1) ¿Qué letra representa mejor la ubicación de 0.8?
- 2) ¿Qué letra representa mejor la ubicación de 0.96?



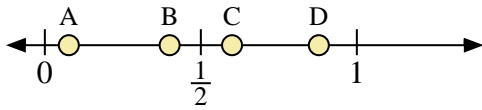
- 3) ¿Qué letra representa mejor la ubicación de 1.10?
- 4) ¿Qué letra representa mejor la ubicación de 0.54?



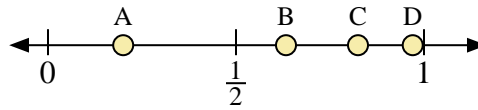
- 5) ¿Qué letra representa mejor la ubicación de 0.90?
- 6) ¿Qué letra representa mejor la ubicación de 0.28?



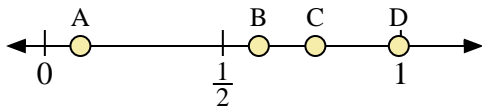
- 7) ¿Qué letra representa mejor la ubicación de 0.30?
- 8) ¿Qué letra representa mejor la ubicación de 0.46?



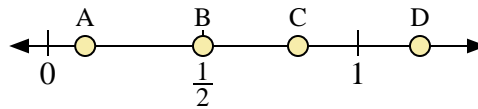
- 9) ¿Qué letra representa mejor la ubicación de 0.40?
- 10) ¿Qué letra representa mejor la ubicación de 0.60?



- 11) ¿Qué letra representa mejor la ubicación de 0.20?
- 12) ¿Qué letra representa mejor la ubicación de 0.97?



- 13) ¿Qué letra representa mejor la ubicación de 0.1?
- 14) ¿Qué letra representa mejor la ubicación de 0.76?



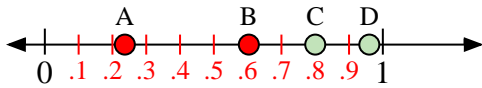
- 15) ¿Qué letra representa mejor la ubicación de 0.5?
- 16) ¿Qué letra representa mejor la ubicación de 0.12?

Respuestas

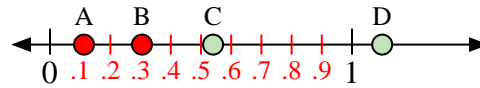
1. _____
2. _____
3. _____
4. _____
5. _____
6. _____
7. _____
8. _____
9. _____
10. _____
11. _____
12. _____
13. _____
14. _____
15. _____
16. _____



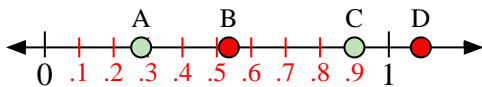
Usa las rectas numéricas para responder a las preguntas



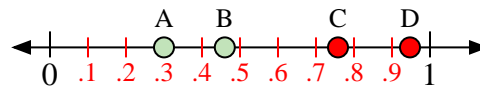
- 1) ¿Qué letra representa mejor la ubicación de 0.8?
- 2) ¿Qué letra representa mejor la ubicación de 0.96?



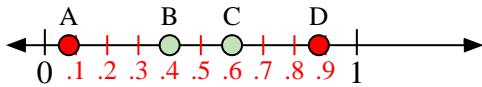
- 3) ¿Qué letra representa mejor la ubicación de 1.10?
- 4) ¿Qué letra representa mejor la ubicación de 0.54?



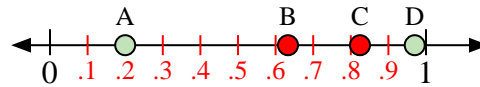
- 5) ¿Qué letra representa mejor la ubicación de 0.90?
- 6) ¿Qué letra representa mejor la ubicación de 0.28?



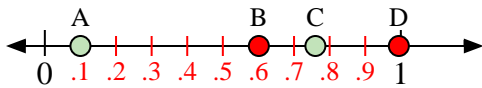
- 7) ¿Qué letra representa mejor la ubicación de 0.30?
- 8) ¿Qué letra representa mejor la ubicación de 0.46?



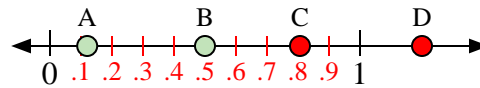
- 9) ¿Qué letra representa mejor la ubicación de 0.40?
- 10) ¿Qué letra representa mejor la ubicación de 0.60?



- 11) ¿Qué letra representa mejor la ubicación de 0.20?
- 12) ¿Qué letra representa mejor la ubicación de 0.97?



- 13) ¿Qué letra representa mejor la ubicación de 0.1?
- 14) ¿Qué letra representa mejor la ubicación de 0.76?



- 15) ¿Qué letra representa mejor la ubicación de 0.5?
- 16) ¿Qué letra representa mejor la ubicación de 0.12?

Respuestas

1. **C**
2. **D**
3. **D**
4. **C**
5. **C**
6. **A**
7. **A**
8. **B**
9. **B**
10. **C**
11. **A**
12. **D**
13. **A**
14. **C**
15. **B**
16. **A**