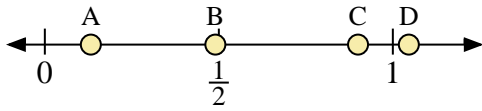
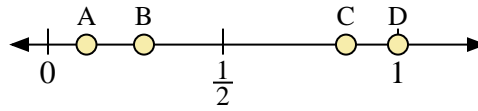




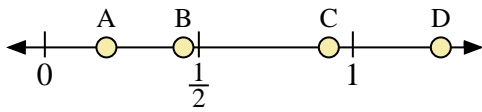
Usa las rectas numéricas para responder a las preguntas



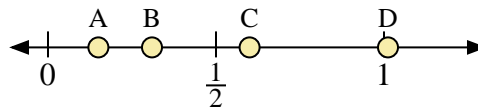
- 1) ¿Qué letra representa mejor la ubicación de 0.90?
- 2) ¿Qué letra representa mejor la ubicación de 0.49?



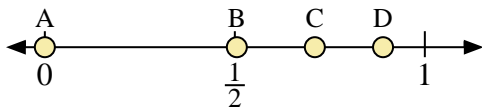
- 3) ¿Qué letra representa mejor la ubicación de 1.00?
- 4) ¿Qué letra representa mejor la ubicación de 0.11?



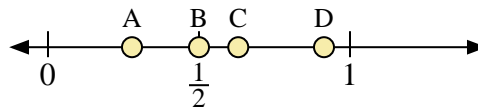
- 5) ¿Qué letra representa mejor la ubicación de 0.2?
- 6) ¿Qué letra representa mejor la ubicación de 0.45?



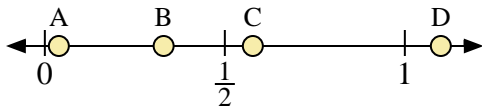
- 7) ¿Qué letra representa mejor la ubicación de 0.60?
- 8) ¿Qué letra representa mejor la ubicación de 0.15?



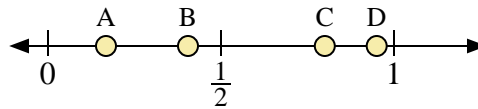
- 9) ¿Qué letra representa mejor la ubicación de 0.00?
- 10) ¿Qué letra representa mejor la ubicación de 0.89?



- 11) ¿Qué letra representa mejor la ubicación de 0.5?
- 12) ¿Qué letra representa mejor la ubicación de 0.63?



- 13) ¿Qué letra representa mejor la ubicación de 1.10?
- 14) ¿Qué letra representa mejor la ubicación de 0.33?



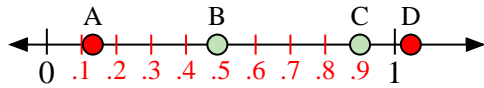
- 15) ¿Qué letra representa mejor la ubicación de 0.80?
- 16) ¿Qué letra representa mejor la ubicación de 0.95?

**Respuestas**


1. \_\_\_\_\_
2. \_\_\_\_\_
3. \_\_\_\_\_
4. \_\_\_\_\_
5. \_\_\_\_\_
6. \_\_\_\_\_
7. \_\_\_\_\_
8. \_\_\_\_\_
9. \_\_\_\_\_
10. \_\_\_\_\_
11. \_\_\_\_\_
12. \_\_\_\_\_
13. \_\_\_\_\_
14. \_\_\_\_\_
15. \_\_\_\_\_
16. \_\_\_\_\_



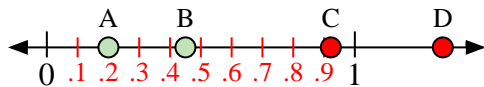
Usa las rectas numéricas para responder a las preguntas



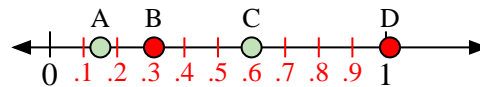
- 1) ¿Qué letra representa mejor la ubicación de 0.90?
- 2) ¿Qué letra representa mejor la ubicación de 0.49?



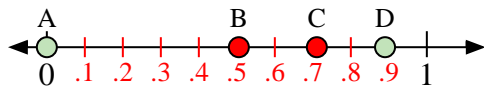
- 3) ¿Qué letra representa mejor la ubicación de 1.00?
- 4) ¿Qué letra representa mejor la ubicación de 0.11?



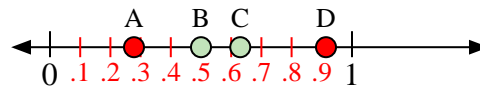
- 5) ¿Qué letra representa mejor la ubicación de 0.2?
- 6) ¿Qué letra representa mejor la ubicación de 0.45?



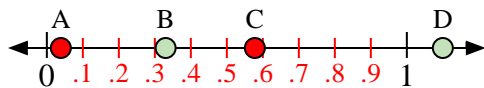
- 7) ¿Qué letra representa mejor la ubicación de 0.60?
- 8) ¿Qué letra representa mejor la ubicación de 0.15?



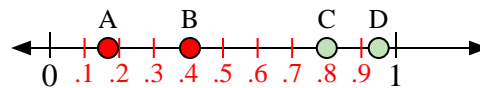
- 9) ¿Qué letra representa mejor la ubicación de 0.00?
- 10) ¿Qué letra representa mejor la ubicación de 0.89?



- 11) ¿Qué letra representa mejor la ubicación de 0.5?
- 12) ¿Qué letra representa mejor la ubicación de 0.63?



- 13) ¿Qué letra representa mejor la ubicación de 1.10?
- 14) ¿Qué letra representa mejor la ubicación de 0.33?



- 15) ¿Qué letra representa mejor la ubicación de 0.80?
- 16) ¿Qué letra representa mejor la ubicación de 0.95?

**Respuestas**

1.     **C**
2.     **B**
3.     **D**
4.     **A**
5.     **A**
6.     **B**
7.     **C**
8.     **A**
9.     **A**
10.     **D**
11.     **B**
12.     **C**
13.     **D**
14.     **B**
15.     **C**
16.     **D**