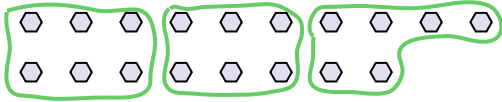


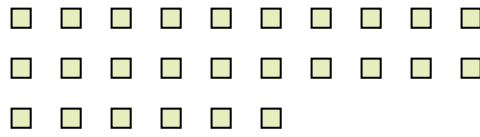


Usa las formas proporcionadas para resolver las preguntas.

Ej) ¿Cuántos grupos de 6 se pueden hacer con las 18 formas de abajo?



1) ¿Cuántos grupos de 2 se pueden hacer con las 26 formas de abajo?



Respuestas

Ej. 3

1. 13

2. 8

3. 2

4. 9

5. 3

6. 4

7. 4

8. 5

9. 4

10. 5

11. 9

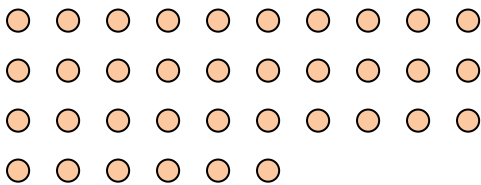
2) ¿Cuántos grupos de 4 se pueden hacer con las 32 formas de abajo?



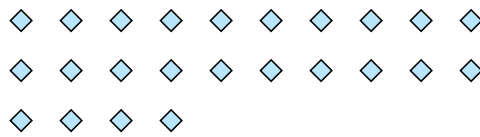
3) ¿Cuántos grupos de 6 se pueden hacer con las 12 formas de abajo?



4) ¿Cuántos grupos de 4 se pueden hacer con las 36 formas de abajo?




5) ¿Cuántos grupos de 8 se pueden hacer con las 24 formas de abajo?




6) ¿Cuántos grupos de 7 se pueden hacer con las 28 formas de abajo?



7) ¿Cuántos grupos de 9 se pueden hacer con las 36 formas de abajo?




8) ¿Cuántos grupos de 8 se pueden hacer con las 40 formas de abajo?



9) ¿Cuántos grupos de 4 se pueden hacer con las 16 formas de abajo?



10) ¿Cuántos grupos de 8 se pueden hacer con las 40 formas de abajo?



11) ¿Cuántos grupos de 3 se pueden hacer con las 27 formas de abajo?

