



Determina cuál letra representa mejor la suma.

1) $\frac{1}{2} + \frac{1}{2}$

2) $\frac{2}{5} + \frac{4}{5}$

3) $\frac{3}{4} + \frac{2}{4}$

4) $\frac{4}{5} + \frac{3}{5}$

5) $\frac{5}{12} + \frac{10}{12}$

6) $\frac{3}{4} + \frac{3}{4}$

7) $\frac{2}{4} + \frac{2}{4}$

8) $\frac{2}{6} + \frac{3}{6}$

9) $\frac{2}{5} + \frac{3}{5}$

10) $\frac{2}{3} + \frac{2}{3}$

11) $\frac{2}{6} + \frac{1}{6}$

12) $\frac{2}{10} + \frac{1}{10}$

13) $\frac{1}{6} + \frac{1}{6}$

14) $\frac{8}{12} + \frac{3}{12}$

15) $\frac{2}{4} + \frac{1}{4}$

Respuestas

- 1. _____
- 2. _____
- 3. _____
- 4. _____
- 5. _____
- 6. _____
- 7. _____
- 8. _____
- 9. _____
- 10. _____
- 11. _____
- 12. _____
- 13. _____
- 14. _____
- 15. _____

A.	B.	C.
D.	E.	F.
G.	H.	I.
J.	K.	L.
M.	N.	O.



Determina cuál letra representa mejor la suma.

1) $\frac{1}{2} + \frac{1}{2}$

2) $\frac{2}{5} + \frac{4}{5}$

3) $\frac{3}{4} + \frac{2}{4}$

4) $\frac{4}{5} + \frac{3}{5}$

5) $\frac{5}{12} + \frac{10}{12}$

6) $\frac{3}{4} + \frac{3}{4}$

7) $\frac{2}{4} + \frac{2}{4}$

8) $\frac{2}{6} + \frac{3}{6}$

9) $\frac{2}{5} + \frac{3}{5}$

10) $\frac{2}{3} + \frac{2}{3}$

11) $\frac{2}{6} + \frac{1}{6}$

12) $\frac{2}{10} + \frac{1}{10}$

13) $\frac{1}{6} + \frac{1}{6}$

14) $\frac{8}{12} + \frac{3}{12}$

15) $\frac{2}{4} + \frac{1}{4}$

Respuestas

1. **I** $\frac{2}{2}$

2. **M** $1\frac{1}{5}$

3. **O** $1\frac{1}{4}$

4. **D** $1\frac{2}{5}$

5. **K** $1\frac{3}{12}$

6. **E** $1\frac{2}{4}$

7. **A** $\frac{4}{4}$

8. **C** $\frac{5}{6}$

9. **H** $\frac{5}{5}$

10. **J** $1\frac{1}{3}$

11. **G** $\frac{3}{6}$

12. **L** $\frac{3}{10}$

13. **B** $\frac{2}{6}$

14. **F** $\frac{11}{12}$

15. **N** $\frac{3}{4}$

A.	B.	C.
D.	E.	F.
G.	H.	I.
J.	K.	L.
M.	N.	O.



Determina cuál letra representa mejor la suma.

1) $\frac{4}{12} + \frac{11}{12}$

2) $\frac{3}{4} + \frac{3}{4}$

3) $\frac{1}{2} + \frac{1}{2}$

4) $\frac{2}{3} + \frac{2}{3}$

5) $\frac{2}{5} + \frac{3}{5}$

6) $\frac{9}{12} + \frac{8}{12}$

7) $\frac{3}{8} + \frac{1}{8}$

8) $\frac{2}{6} + \frac{1}{6}$

9) $\frac{2}{4} + \frac{1}{4}$

10) $\frac{1}{4} + \frac{3}{4}$

11) $\frac{9}{12} + \frac{5}{12}$

12) $\frac{2}{12} + \frac{10}{12}$

13) $\frac{3}{10} + \frac{5}{10}$

14) $\frac{5}{6} + \frac{5}{6}$

15) $\frac{9}{10} + \frac{9}{10}$

Respuestas

1. _____
2. _____
3. _____
4. _____
5. _____
6. _____
7. _____
8. _____
9. _____
10. _____
11. _____
12. _____
13. _____
14. _____
15. _____

A.	B.	C.
D.	E.	F.
G.	H.	I.
J.	K.	L.
M.	N.	O.



Determina cuál letra representa mejor la suma.

1) $\frac{4}{12} + \frac{11}{12}$

2) $\frac{3}{4} + \frac{3}{4}$

3) $\frac{1}{2} + \frac{1}{2}$

4) $\frac{2}{3} + \frac{2}{3}$

5) $\frac{2}{5} + \frac{3}{5}$

6) $\frac{9}{12} + \frac{8}{12}$

7) $\frac{3}{8} + \frac{1}{8}$

8) $\frac{2}{6} + \frac{1}{6}$

9) $\frac{2}{4} + \frac{1}{4}$

10) $\frac{1}{4} + \frac{3}{4}$

11) $\frac{9}{12} + \frac{5}{12}$

12) $\frac{2}{12} + \frac{10}{12}$

13) $\frac{3}{10} + \frac{5}{10}$

14) $\frac{5}{6} + \frac{5}{6}$

15) $\frac{9}{10} + \frac{9}{10}$

Respuestas

1. **L** $1 \frac{3}{12}$

2. **M** $1 \frac{2}{4}$

3. **B** $\frac{2}{2}$

4. **F** $1 \frac{1}{3}$

5. **A** $\frac{5}{5}$

6. **O** $1 \frac{5}{12}$

7. **J** $\frac{4}{8}$

8. **E** $\frac{3}{6}$

9. **N** $\frac{3}{4}$

10. **I** $\frac{4}{4}$

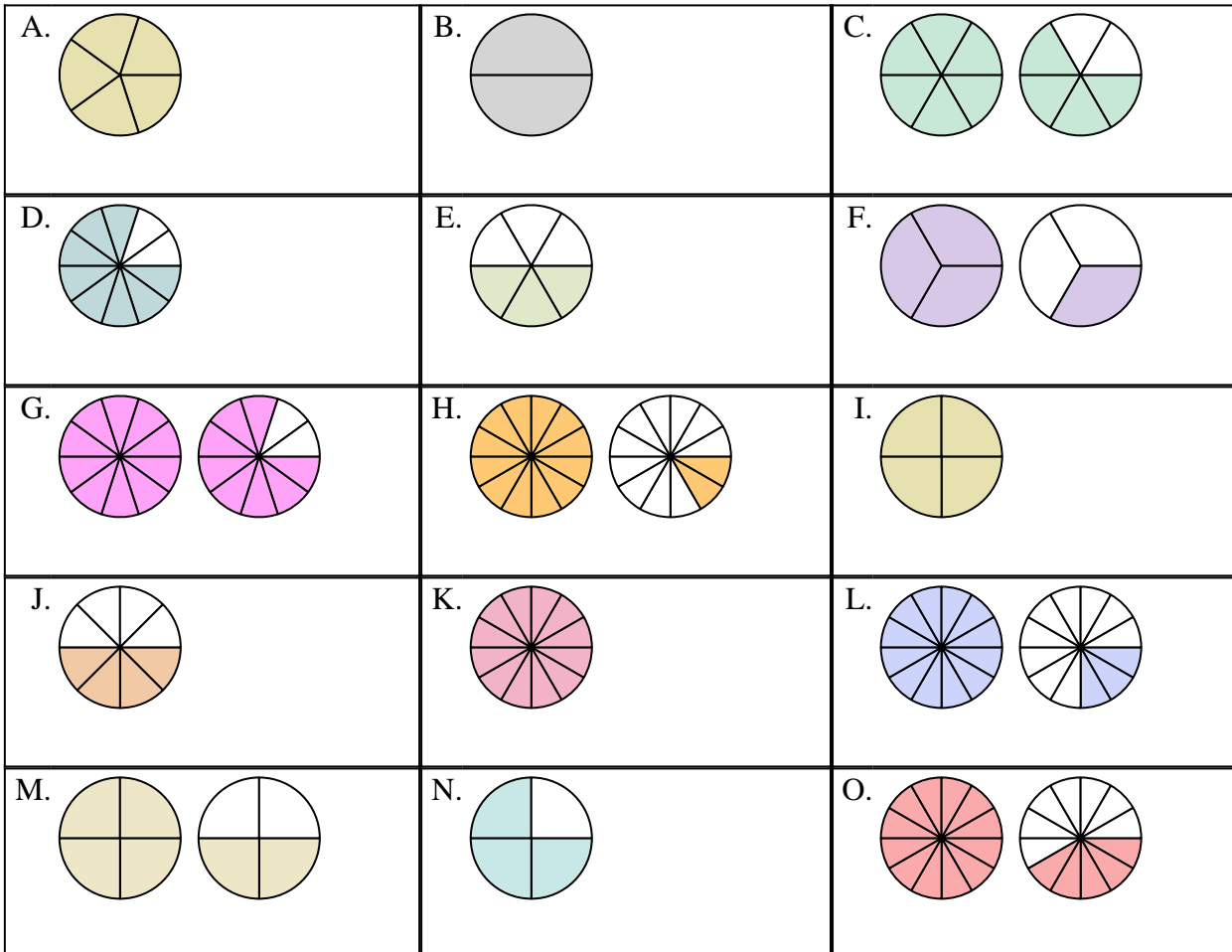
11. **H** $1 \frac{2}{12}$

12. **K** $\frac{12}{12}$

13. **D** $\frac{8}{10}$

14. **C** $1 \frac{4}{6}$

15. **G** $1 \frac{8}{10}$





Determina cuál letra representa mejor la suma.

1) $\frac{3}{10} + \frac{1}{10}$

2) $\frac{1}{4} + \frac{1}{4}$

3) $\frac{7}{10} + \frac{2}{10}$

4) $\frac{2}{4} + \frac{2}{4}$

5) $\frac{8}{12} + \frac{7}{12}$

6) $\frac{11}{12} + \frac{5}{12}$

7) $\frac{1}{6} + \frac{1}{6}$

8) $\frac{1}{2} + \frac{1}{2}$

9) $\frac{1}{10} + \frac{9}{10}$

10) $\frac{9}{12} + \frac{1}{12}$

11) $\frac{1}{3} + \frac{1}{3}$

12) $\frac{4}{8} + \frac{3}{8}$

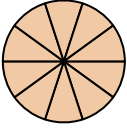
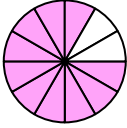
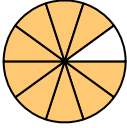
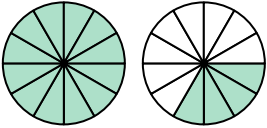
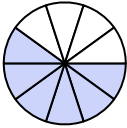
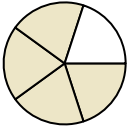
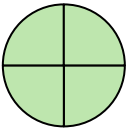
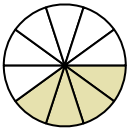
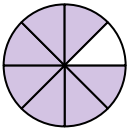
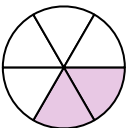
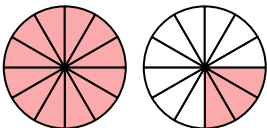
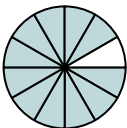
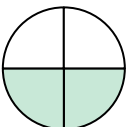
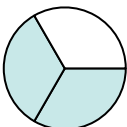
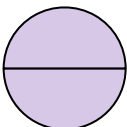
13) $\frac{3}{5} + \frac{1}{5}$

14) $\frac{5}{12} + \frac{6}{12}$

15) $\frac{5}{10} + \frac{1}{10}$

Respuestas

1. _____
2. _____
3. _____
4. _____
5. _____
6. _____
7. _____
8. _____
9. _____
10. _____
11. _____
12. _____
13. _____
14. _____
15. _____

A. 	B. 	C. 
D. 	E. 	F. 
G. 	H. 	I. 
J. 	K. 	L. 
M. 	N. 	O. 



Determina cuál letra representa mejor la suma.

1) $\frac{3}{10} + \frac{1}{10}$

2) $\frac{1}{4} + \frac{1}{4}$

3) $\frac{7}{10} + \frac{2}{10}$

4) $\frac{2}{4} + \frac{2}{4}$

5) $\frac{8}{12} + \frac{7}{12}$

6) $\frac{11}{12} + \frac{5}{12}$

7) $\frac{1}{6} + \frac{1}{6}$

8) $\frac{1}{2} + \frac{1}{2}$

9) $\frac{1}{10} + \frac{9}{10}$

10) $\frac{9}{12} + \frac{1}{12}$

11) $\frac{1}{3} + \frac{1}{3}$

12) $\frac{4}{8} + \frac{3}{8}$

13) $\frac{3}{5} + \frac{1}{5}$

14) $\frac{5}{12} + \frac{6}{12}$

15) $\frac{5}{10} + \frac{1}{10}$

Respuestas

1. **H** $\frac{4}{10}$

2. **M** $\frac{2}{4}$

3. **C** $\frac{9}{10}$

4. **G** $\frac{4}{4}$

5. **K** $1\frac{3}{12}$

6. **D** $1\frac{4}{12}$

7. **J** $\frac{2}{6}$

8. **O** $\frac{2}{2}$

9. **A** $\frac{10}{10}$

10. **B** $\frac{10}{12}$

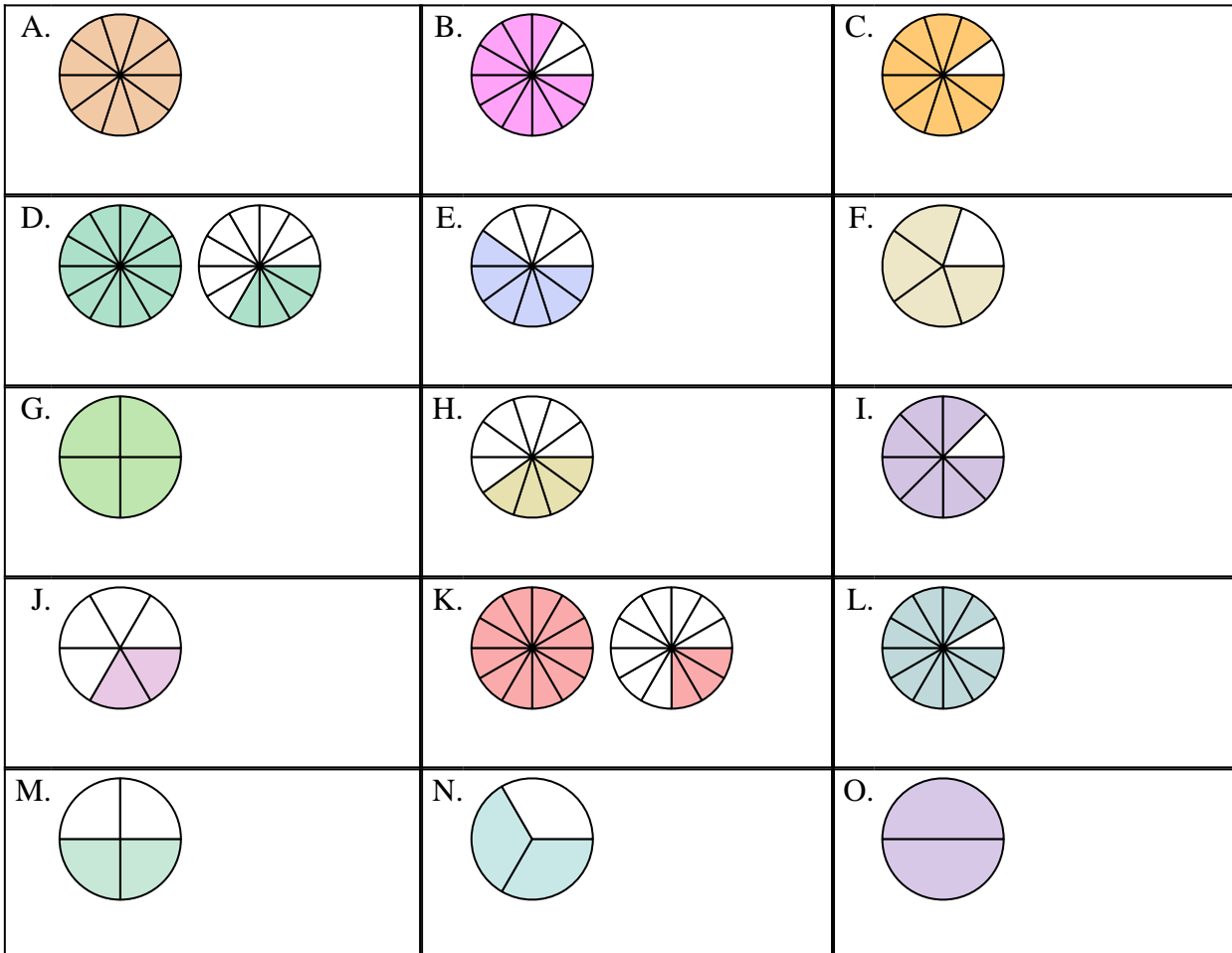
11. **N** $\frac{2}{3}$

12. **I** $\frac{7}{8}$

13. **F** $\frac{4}{5}$

14. **L** $\frac{11}{12}$

15. **E** $\frac{6}{10}$





Determina cuál letra representa mejor la suma.

1) $\frac{5}{8} + \frac{6}{8}$

2) $\frac{4}{12} + \frac{1}{12}$

3) $\frac{4}{6} + \frac{2}{6}$

4) $\frac{1}{5} + \frac{4}{5}$

5) $\frac{1}{10} + \frac{6}{10}$

6) $\frac{2}{3} + \frac{2}{3}$

7) $\frac{11}{12} + \frac{3}{12}$

8) $\frac{1}{3} + \frac{1}{3}$

9) $\frac{1}{2} + \frac{1}{2}$

10) $\frac{2}{3} + \frac{1}{3}$

11) $\frac{3}{4} + \frac{3}{4}$

12) $\frac{8}{10} + \frac{6}{10}$

13) $\frac{7}{8} + \frac{1}{8}$

14) $\frac{2}{4} + \frac{1}{4}$

15) $\frac{2}{4} + \frac{3}{4}$

Respuestas

1. _____
2. _____
3. _____
4. _____
5. _____
6. _____
7. _____
8. _____
9. _____
10. _____
11. _____
12. _____
13. _____
14. _____
15. _____

A.	B.	C.
D.	E.	F.
G.	H.	I.
J.	K.	L.
M.	N.	O.



Determina cuál letra representa mejor la suma.

1) $\frac{5}{8} + \frac{6}{8}$

2) $\frac{4}{12} + \frac{1}{12}$

3) $\frac{4}{6} + \frac{2}{6}$

4) $\frac{1}{5} + \frac{4}{5}$

5) $\frac{1}{10} + \frac{6}{10}$

6) $\frac{2}{3} + \frac{2}{3}$

7) $\frac{11}{12} + \frac{3}{12}$

8) $\frac{1}{3} + \frac{1}{3}$

9) $\frac{1}{2} + \frac{1}{2}$

10) $\frac{2}{3} + \frac{1}{3}$

11) $\frac{3}{4} + \frac{3}{4}$

12) $\frac{8}{10} + \frac{6}{10}$

13) $\frac{7}{8} + \frac{1}{8}$

14) $\frac{2}{4} + \frac{1}{4}$

15) $\frac{2}{4} + \frac{3}{4}$

Respuestas

1. **B** $1\frac{3}{8}$

2. **F** $\frac{5}{12}$

3. **O** $\frac{6}{6}$

4. **N** $\frac{5}{5}$

5. **L** $\frac{7}{10}$

6. **G** $1\frac{1}{3}$

7. **I** $1\frac{2}{12}$

8. **C** $\frac{2}{3}$

9. **M** $\frac{2}{2}$

10. **A** $\frac{3}{3}$

11. **H** $1\frac{2}{4}$

12. **J** $1\frac{4}{10}$

13. **E** $\frac{8}{8}$

14. **D** $\frac{3}{4}$

15. **K** $1\frac{1}{4}$

A.	B.	C.
D.	E.	F.
G.	H.	I.
J.	K.	L.
M.	N.	O.



Determina cuál letra representa mejor la suma.

1) $\frac{3}{6} + \frac{5}{6}$

2) $\frac{2}{3} + \frac{2}{3}$

3) $\frac{1}{2} + \frac{1}{2}$

4) $\frac{2}{3} + \frac{1}{3}$

5) $\frac{3}{5} + \frac{4}{5}$

6) $\frac{5}{8} + \frac{7}{8}$

7) $\frac{10}{12} + \frac{6}{12}$

8) $\frac{3}{4} + \frac{1}{4}$

9) $\frac{2}{12} + \frac{8}{12}$

10) $\frac{2}{12} + \frac{11}{12}$

11) $\frac{3}{8} + \frac{1}{8}$

12) $\frac{5}{8} + \frac{5}{8}$

13) $\frac{3}{5} + \frac{3}{5}$

14) $\frac{2}{6} + \frac{5}{6}$

15) $\frac{5}{10} + \frac{7}{10}$

Respuestas

1. _____
2. _____
3. _____
4. _____
5. _____
6. _____
7. _____
8. _____
9. _____
10. _____
11. _____
12. _____
13. _____
14. _____
15. _____

A.	B.	C.
D.	E.	F.
G.	H.	I.
J.	K.	L.
M.	N.	O.



Determina cuál letra representa mejor la suma.

1) $\frac{3}{6} + \frac{5}{6}$

2) $\frac{2}{3} + \frac{2}{3}$

3) $\frac{1}{2} + \frac{1}{2}$

4) $\frac{2}{3} + \frac{1}{3}$

5) $\frac{3}{5} + \frac{4}{5}$

6) $\frac{5}{8} + \frac{7}{8}$

7) $\frac{10}{12} + \frac{6}{12}$

8) $\frac{3}{4} + \frac{1}{4}$

9) $\frac{2}{12} + \frac{8}{12}$

10) $\frac{2}{12} + \frac{11}{12}$

11) $\frac{3}{8} + \frac{1}{8}$

12) $\frac{5}{8} + \frac{5}{8}$

13) $\frac{3}{5} + \frac{3}{5}$

14) $\frac{2}{6} + \frac{5}{6}$

15) $\frac{5}{10} + \frac{7}{10}$

Respuestas

1. **L** $1\frac{2}{6}$

2. **M** $1\frac{1}{3}$

3. **I** $\frac{2}{2}$

4. **C** $\frac{3}{3}$

5. **O** $1\frac{2}{5}$

6. **D** $1\frac{4}{8}$

7. **E** $1\frac{4}{12}$

8. **H** $\frac{4}{4}$

9. **A** $\frac{10}{12}$

10. **J** $1\frac{1}{12}$

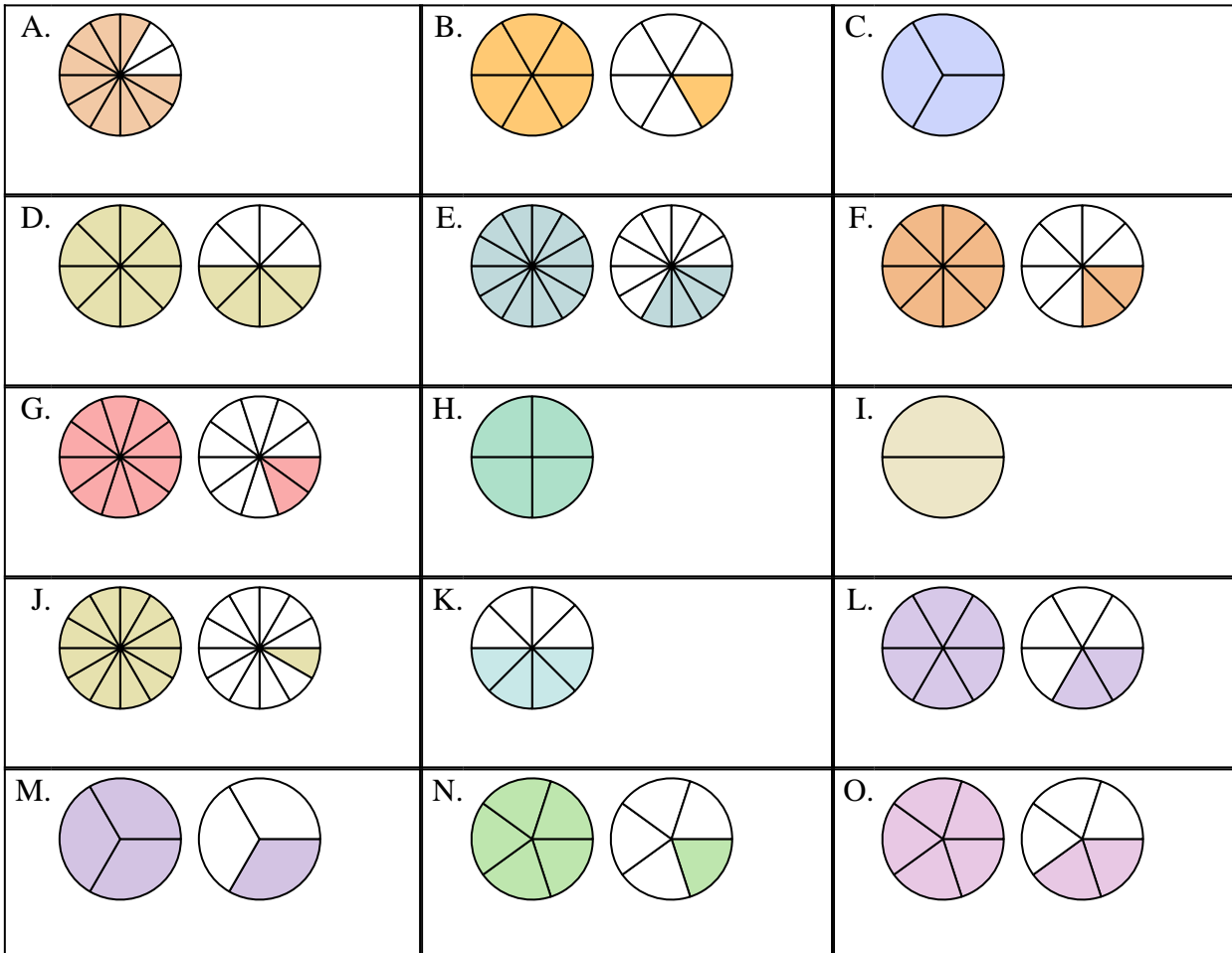
11. **K** $\frac{4}{8}$

12. **F** $1\frac{2}{8}$

13. **N** $1\frac{1}{5}$

14. **B** $1\frac{1}{6}$

15. **G** $1\frac{2}{10}$





Determina cuál letra representa mejor la suma.

1) $\frac{9}{10} + \frac{5}{10}$

2) $\frac{6}{8} + \frac{7}{8}$

3) $\frac{1}{5} + \frac{1}{5}$

4) $\frac{2}{3} + \frac{2}{3}$

5) $\frac{1}{10} + \frac{6}{10}$

6) $\frac{1}{3} + \frac{1}{3}$

7) $\frac{3}{6} + \frac{4}{6}$

8) $\frac{6}{8} + \frac{2}{8}$

9) $\frac{1}{5} + \frac{3}{5}$

10) $\frac{3}{12} + \frac{9}{12}$

11) $\frac{1}{12} + \frac{3}{12}$

12) $\frac{1}{8} + \frac{1}{8}$

13) $\frac{2}{10} + \frac{8}{10}$

14) $\frac{4}{5} + \frac{2}{5}$

15) $\frac{6}{8} + \frac{6}{8}$

Respuestas

1. _____
2. _____
3. _____
4. _____
5. _____
6. _____
7. _____
8. _____
9. _____
10. _____
11. _____
12. _____
13. _____
14. _____
15. _____

<p>A. </p>	<p>B. </p>	<p>C. </p>
<p>D. </p>	<p>E. </p>	<p>F. </p>
<p>G. </p>	<p>H. </p>	<p>I. </p>
<p>J. </p>	<p>K. </p>	<p>L. </p>
<p>M. </p>	<p>N. </p>	<p>O. </p>



Determina cuál letra representa mejor la suma.

1) $\frac{9}{10} + \frac{5}{10}$

2) $\frac{6}{8} + \frac{7}{8}$

3) $\frac{1}{5} + \frac{1}{5}$

4) $\frac{2}{3} + \frac{2}{3}$

5) $\frac{1}{10} + \frac{6}{10}$

6) $\frac{1}{3} + \frac{1}{3}$

7) $\frac{3}{6} + \frac{4}{6}$

8) $\frac{6}{8} + \frac{2}{8}$

9) $\frac{1}{5} + \frac{3}{5}$

10) $\frac{3}{12} + \frac{9}{12}$

11) $\frac{1}{12} + \frac{3}{12}$

12) $\frac{1}{8} + \frac{1}{8}$

13) $\frac{2}{10} + \frac{8}{10}$

14) $\frac{4}{5} + \frac{2}{5}$

15) $\frac{6}{8} + \frac{6}{8}$

Respuestas

1. **K** $1 \frac{4}{10}$

2. **O** $1 \frac{5}{8}$

3. **B** $\frac{2}{5}$

4. **L** $1 \frac{1}{3}$

5. **G** $\frac{7}{10}$

6. **A** $\frac{2}{3}$

7. **I** $1 \frac{1}{6}$

8. **D** $\frac{8}{8}$

9. **E** $\frac{4}{5}$

10. **J** $\frac{12}{12}$

11. **C** $\frac{4}{12}$

12. **F** $\frac{2}{8}$

13. **N** $\frac{10}{10}$

14. **H** $1 \frac{1}{5}$

15. **M** $1 \frac{4}{8}$

A.	B.	C.
D.	E.	F.
G.	H.	I.
J.	K.	L.
M.	N.	O.



Determina cuál letra representa mejor la suma.

1) $\frac{5}{10} + \frac{5}{10}$

2) $\frac{4}{6} + \frac{3}{6}$

3) $\frac{4}{8} + \frac{6}{8}$

4) $\frac{8}{10} + \frac{9}{10}$

5) $\frac{3}{10} + \frac{9}{10}$

6) $\frac{1}{5} + \frac{4}{5}$

7) $\frac{7}{10} + \frac{7}{10}$

8) $\frac{2}{4} + \frac{1}{4}$

9) $\frac{2}{10} + \frac{7}{10}$

10) $\frac{11}{12} + \frac{7}{12}$

11) $\frac{2}{3} + \frac{1}{3}$

12) $\frac{1}{10} + \frac{6}{10}$

13) $\frac{4}{5} + \frac{3}{5}$

14) $\frac{2}{3} + \frac{2}{3}$

15) $\frac{3}{4} + \frac{2}{4}$

Respuestas

- 1. _____
- 2. _____
- 3. _____
- 4. _____
- 5. _____
- 6. _____
- 7. _____
- 8. _____
- 9. _____
- 10. _____
- 11. _____
- 12. _____
- 13. _____
- 14. _____
- 15. _____

A.	B.	C.
D.	E.	F.
G.	H.	I.
J.	K.	L.
M.	N.	O.



Determina cuál letra representa mejor la suma.

1) $\frac{5}{10} + \frac{5}{10}$

2) $\frac{4}{6} + \frac{3}{6}$

3) $\frac{4}{8} + \frac{6}{8}$

4) $\frac{8}{10} + \frac{9}{10}$

5) $\frac{3}{10} + \frac{9}{10}$

6) $\frac{1}{5} + \frac{4}{5}$

7) $\frac{7}{10} + \frac{7}{10}$

8) $\frac{2}{4} + \frac{1}{4}$

9) $\frac{2}{10} + \frac{7}{10}$

10) $\frac{11}{12} + \frac{7}{12}$

11) $\frac{2}{3} + \frac{1}{3}$

12) $\frac{1}{10} + \frac{6}{10}$

13) $\frac{4}{5} + \frac{3}{5}$

14) $\frac{2}{3} + \frac{2}{3}$

15) $\frac{3}{4} + \frac{2}{4}$

Respuestas

1. **G** $\frac{10}{10}$

2. **E** $1\frac{1}{6}$

3. **D** $1\frac{2}{8}$

4. **O** $1\frac{7}{10}$

5. **M** $1\frac{2}{10}$

6. **A** $\frac{5}{5}$

7. **L** $1\frac{4}{10}$

8. **J** $\frac{3}{4}$

9. **K** $\frac{9}{10}$

10. **C** $1\frac{6}{12}$

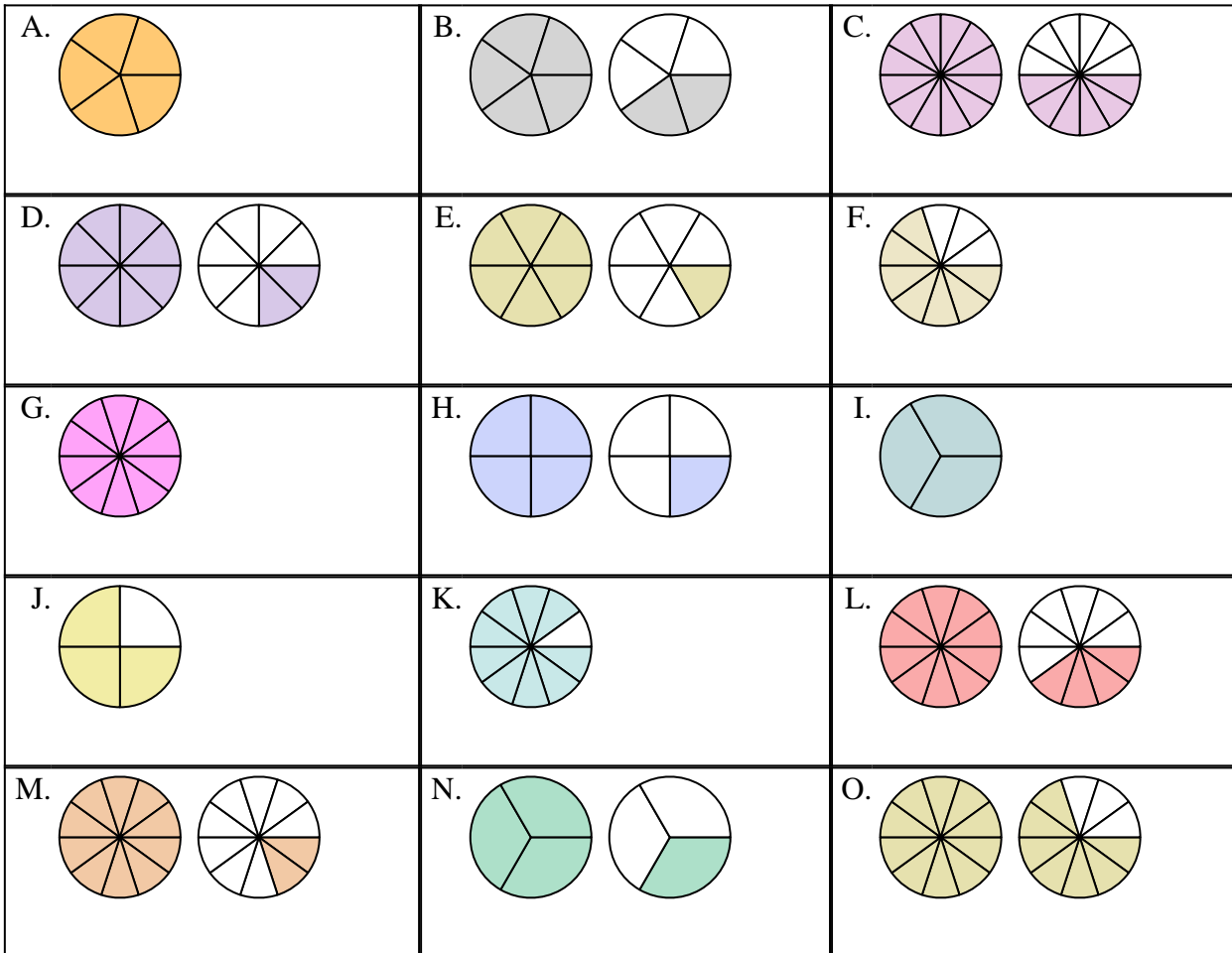
11. **I** $\frac{3}{3}$

12. **F** $\frac{7}{10}$

13. **B** $1\frac{2}{5}$

14. **N** $1\frac{1}{3}$

15. **H** $1\frac{1}{4}$





Determina cuál letra representa mejor la suma.

1) $\frac{6}{8} + \frac{3}{8}$

2) $\frac{4}{12} + \frac{8}{12}$

3) $\frac{1}{3} + \frac{2}{3}$

4) $\frac{1}{6} + \frac{5}{6}$

5) $\frac{4}{5} + \frac{4}{5}$

6) $\frac{10}{12} + \frac{6}{12}$

7) $\frac{3}{6} + \frac{5}{6}$

8) $\frac{2}{6} + \frac{1}{6}$

9) $\frac{3}{4} + \frac{2}{4}$

10) $\frac{1}{4} + \frac{3}{4}$

11) $\frac{1}{10} + \frac{7}{10}$

12) $\frac{8}{10} + \frac{1}{10}$


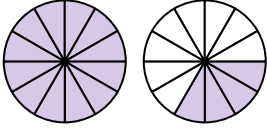
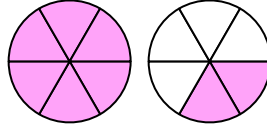
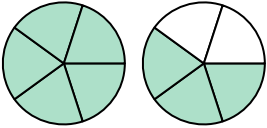
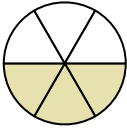
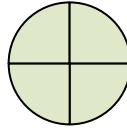
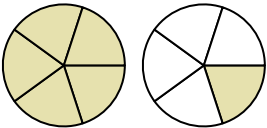
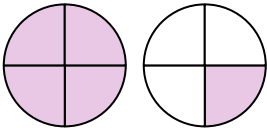
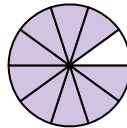
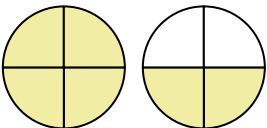
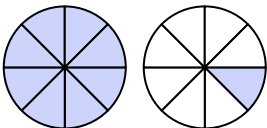
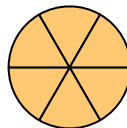
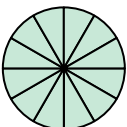
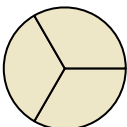
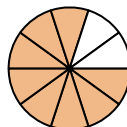
13) $\frac{4}{5} + \frac{2}{5}$

14) $\frac{3}{4} + \frac{3}{4}$

15) $\frac{2}{6} + \frac{2}{6}$

Respuestas

1. _____
2. _____
3. _____
4. _____
5. _____
6. _____
7. _____
8. _____
9. _____
10. _____
11. _____
12. _____
13. _____
14. _____
15. _____

A. 	B. 	C. 
D. 	E. 	F. 
G. 	H. 	I. 
J. 	K. 	L. 
M. 	N. 	O. 



Determina cuál letra representa mejor la suma.

1) $\frac{6}{8} + \frac{3}{8}$

2) $\frac{4}{12} + \frac{8}{12}$

3) $\frac{1}{3} + \frac{2}{3}$

4) $\frac{1}{6} + \frac{5}{6}$

5) $\frac{4}{5} + \frac{4}{5}$

6) $\frac{10}{12} + \frac{6}{12}$

7) $\frac{3}{6} + \frac{5}{6}$

8) $\frac{2}{6} + \frac{1}{6}$

9) $\frac{3}{4} + \frac{2}{4}$

10) $\frac{1}{4} + \frac{3}{4}$

11) $\frac{1}{10} + \frac{7}{10}$

12) $\frac{8}{10} + \frac{1}{10}$

13) $\frac{4}{5} + \frac{2}{5}$

14) $\frac{3}{4} + \frac{3}{4}$

15) $\frac{2}{6} + \frac{2}{6}$

Respuestas

1. **K** $1\frac{1}{8}$

2. **M** $\frac{12}{12}$

3. **N** $\frac{3}{3}$

4. **L** $\frac{6}{6}$

5. **D** $1\frac{3}{5}$

6. **B** $1\frac{4}{12}$

7. **C** $1\frac{2}{6}$

8. **E** $\frac{3}{6}$

9. **H** $1\frac{1}{4}$

10. **F** $\frac{4}{4}$

11. **O** $\frac{8}{10}$

12. **I** $\frac{9}{10}$

13. **G** $1\frac{1}{5}$

14. **J** $1\frac{2}{4}$

15. **A** $\frac{4}{6}$

A.	B.	C.
D.	E.	F.
G.	H.	I.
J.	K.	L.
M.	N.	O.



Determina cuál letra representa mejor la suma.

1) $\frac{1}{5} + \frac{3}{5}$

2) $\frac{2}{3} + \frac{2}{3}$

3) $\frac{1}{2} + \frac{1}{2}$

4) $\frac{8}{10} + \frac{9}{10}$

5) $\frac{1}{4} + \frac{2}{4}$

6) $\frac{2}{5} + \frac{4}{5}$

7) $\frac{3}{4} + \frac{1}{4}$

8) $\frac{4}{10} + \frac{6}{10}$

9) $\frac{2}{6} + \frac{2}{6}$

10) $\frac{3}{5} + \frac{2}{5}$

11) $\frac{3}{5} + \frac{4}{5}$

12) $\frac{2}{8} + \frac{7}{8}$

13) $\frac{4}{6} + \frac{3}{6}$

14) $\frac{7}{10} + \frac{6}{10}$

15) $\frac{6}{12} + \frac{1}{12}$

Respuestas

1. _____

2. _____

3. _____

4. _____

5. _____

6. _____

7. _____

8. _____

9. _____

10. _____

11. _____

12. _____

13. _____

14. _____

15. _____

A.	B.	C.
D.	E.	F.
G.	H.	I.
J.	K.	L.
M.	N.	O.



Determina cuál letra representa mejor la suma.

1) $\frac{1}{5} + \frac{3}{5}$

2) $\frac{2}{3} + \frac{2}{3}$

3) $\frac{1}{2} + \frac{1}{2}$

4) $\frac{8}{10} + \frac{9}{10}$

5) $\frac{1}{4} + \frac{2}{4}$

6) $\frac{2}{5} + \frac{4}{5}$

7) $\frac{3}{4} + \frac{1}{4}$

8) $\frac{4}{10} + \frac{6}{10}$

9) $\frac{2}{6} + \frac{2}{6}$

10) $\frac{3}{5} + \frac{2}{5}$

11) $\frac{3}{5} + \frac{4}{5}$

12) $\frac{2}{8} + \frac{7}{8}$

13) $\frac{4}{6} + \frac{3}{6}$

14) $\frac{7}{10} + \frac{6}{10}$

15) $\frac{6}{12} + \frac{1}{12}$

Respuestas

1. **M** $\frac{4}{5}$

2. **N** $1\frac{1}{3}$

3. **G** $\frac{2}{2}$

4. **J** $1\frac{7}{10}$

5. **K** $\frac{3}{4}$

6. **L** $1\frac{1}{5}$

7. **E** $\frac{4}{4}$

8. **D** $\frac{10}{10}$

9. **H** $\frac{4}{6}$

10. **C** $\frac{5}{5}$

11. **O** $1\frac{2}{5}$

12. **A** $1\frac{1}{8}$

13. **F** $1\frac{1}{6}$

14. **B** $1\frac{3}{10}$

15. **I** $\frac{7}{12}$

A.	B.	C.
D.	E.	F.
G.	H.	I.
J.	K.	L.
M.	N.	O.



Determina cuál letra representa mejor la suma.

1) $\frac{3}{4} + \frac{1}{4}$

2) $\frac{1}{10} + \frac{8}{10}$

3) $\frac{4}{10} + \frac{1}{10}$

4) $\frac{2}{3} + \frac{1}{3}$

5) $\frac{3}{6} + \frac{5}{6}$

6) $\frac{1}{2} + \frac{1}{2}$

7) $\frac{1}{4} + \frac{2}{4}$

8) $\frac{5}{6} + \frac{1}{6}$

9) $\frac{2}{5} + \frac{1}{5}$

10) $\frac{6}{8} + \frac{1}{8}$

11) $\frac{2}{6} + \frac{1}{6}$

12) $\frac{1}{4} + \frac{1}{4}$

13) $\frac{3}{12} + \frac{8}{12}$

14) $\frac{1}{3} + \frac{1}{3}$

15) $\frac{3}{6} + \frac{2}{6}$

Respuestas

1. _____
2. _____
3. _____
4. _____
5. _____
6. _____
7. _____
8. _____
9. _____
10. _____
11. _____
12. _____
13. _____
14. _____
15. _____

<p>A. </p>	<p>B. </p>	<p>C. </p>
<p>D. </p>	<p>E. </p>	<p>F. </p>
<p>G. </p>	<p>H. </p>	<p>I. </p>
<p>J. </p>	<p>K. </p>	<p>L. </p>
<p>M. </p>	<p>N. </p>	<p>O. </p>



Determina cuál letra representa mejor la suma.

1) $\frac{3}{4} + \frac{1}{4}$

2) $\frac{1}{10} + \frac{8}{10}$

3) $\frac{4}{10} + \frac{1}{10}$

4) $\frac{2}{3} + \frac{1}{3}$

5) $\frac{3}{6} + \frac{5}{6}$

6) $\frac{1}{2} + \frac{1}{2}$

7) $\frac{1}{4} + \frac{2}{4}$

8) $\frac{5}{6} + \frac{1}{6}$

9) $\frac{2}{5} + \frac{1}{5}$

10) $\frac{6}{8} + \frac{1}{8}$

11) $\frac{2}{6} + \frac{1}{6}$

12) $\frac{1}{4} + \frac{1}{4}$

13) $\frac{3}{12} + \frac{8}{12}$

14) $\frac{1}{3} + \frac{1}{3}$

15) $\frac{3}{6} + \frac{2}{6}$

Respuestas

1. **B** $\frac{4}{4}$

2. **A** $\frac{9}{10}$

3. **C** $\frac{5}{10}$

4. **J** $\frac{3}{3}$

5. **I** $1\frac{2}{6}$

6. **K** $\frac{2}{2}$

7. **O** $\frac{3}{4}$

8. **N** $\frac{6}{6}$

9. **F** $\frac{3}{5}$

10. **M** $\frac{7}{8}$

11. **H** $\frac{3}{6}$

12. **L** $\frac{2}{4}$

13. **E** $\frac{11}{12}$

14. **G** $\frac{2}{3}$

15. **D** $\frac{5}{6}$

