



Resuelve cada problema al fraccionar. El primer ejercicio ha sido resuelto como ejemplo.

**Respuestas**

1)  $2 \div \frac{1}{3} = ?$  Esto es lo mismo que decir: ¿Cuántas  $\frac{1}{3}$  hay en 2 enteros?

1 Ensembles			1 Ensembles		

2)  $2 \div \frac{1}{6} =$

1 Ensembles			1 Ensembles		

3)  $5 \div \frac{1}{4} =$

1 Ensembles		1 Ensembles		1 Ensembles		1 Ensembles		1 Ensembles	

4)  $4 \div \frac{1}{5} =$

1 Ensembles		1 Ensembles		1 Ensembles		1 Ensembles	

5)  $3 \div \frac{1}{6} =$

1 Ensembles			1 Ensembles			1 Ensembles		

6)  $4 \div \frac{1}{7} =$

1 Ensembles		1 Ensembles		1 Ensembles		1 Ensembles	

7)  $2 \div \frac{1}{7} =$

1 Ensembles				1 Ensembles			

8)  $3 \div \frac{1}{5} =$

1 Ensembles		1 Ensembles		1 Ensembles	

9)  $2 \div \frac{1}{5} =$

1 Ensembles			1 Ensembles		

10)  $5 \div \frac{1}{3} =$

1 Ensembles		1 Ensembles		1 Ensembles		1 Ensembles		1 Ensembles	

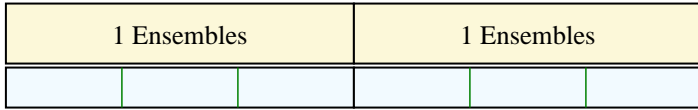
1. \_\_\_\_\_
2. \_\_\_\_\_
3. \_\_\_\_\_
4. \_\_\_\_\_
5. \_\_\_\_\_
6. \_\_\_\_\_
7. \_\_\_\_\_
8. \_\_\_\_\_
9. \_\_\_\_\_
10. \_\_\_\_\_



Resuelve cada problema al fraccionar. El primer ejercicio ha sido resuelto como ejemplo.

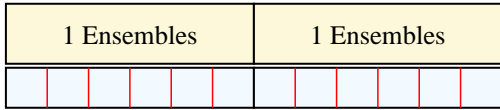
**Respuestas**

1)  $2 \div \frac{1}{3} = ?$  Esto es lo mismo que decir: ¿Cuántas  $\frac{1}{3}$  hay en 2 enteros?



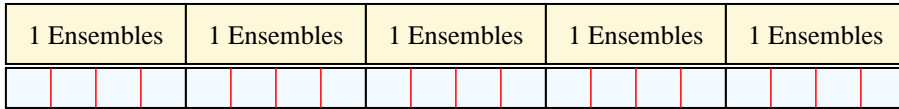
1. 6

2)  $2 \div \frac{1}{6} =$  Esto es lo mismo que decir: ¿Cuántas  $\frac{1}{6}$  hay en 2 enteros?



2. 12


3)  $5 \div \frac{1}{4} =$  Esto es lo mismo que decir: ¿Cuántas  $\frac{1}{4}$  hay en 5 enteros?



3. 20

4. 20

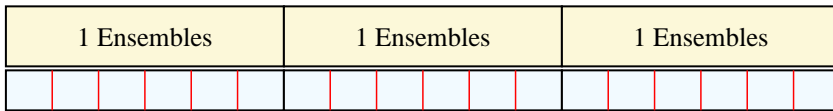
4)  $4 \div \frac{1}{5} =$  Esto es lo mismo que decir: ¿Cuántas  $\frac{1}{5}$  hay en 4 enteros?



5. 18

6. 28

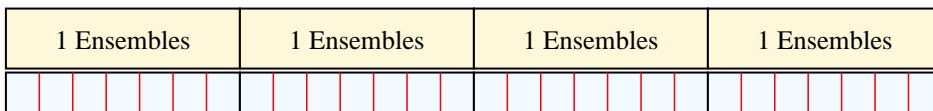
5)  $3 \div \frac{1}{6} =$  Esto es lo mismo que decir: ¿Cuántas  $\frac{1}{6}$  hay en 3 enteros?



7. 14

8. 15


6)  $4 \div \frac{1}{7} =$  Esto es lo mismo que decir: ¿Cuántas  $\frac{1}{7}$  hay en 4 enteros?



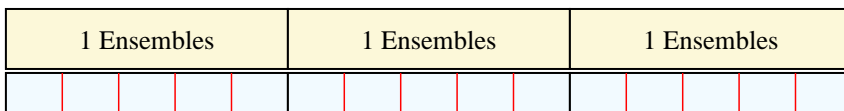
9. 10

10. 15


7)  $2 \div \frac{1}{7} =$  Esto es lo mismo que decir: ¿Cuántas  $\frac{1}{7}$  hay en 2 enteros?



8)  $3 \div \frac{1}{5} =$  Esto es lo mismo que decir: ¿Cuántas  $\frac{1}{5}$  hay en 3 enteros?



9)  $2 \div \frac{1}{5} =$  Esto es lo mismo que decir: ¿Cuántas  $\frac{1}{5}$  hay en 2 enteros?



10)  $5 \div \frac{1}{3} =$  Esto es lo mismo que decir: ¿Cuántas  $\frac{1}{3}$  hay en 5 enteros?

