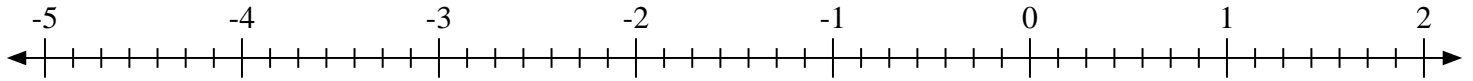


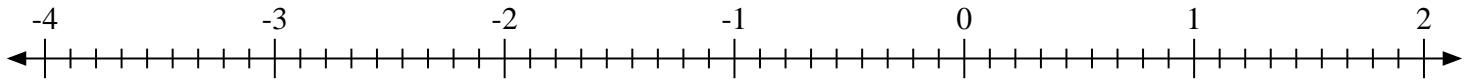


Marca cada ubicación descrita. Negativo

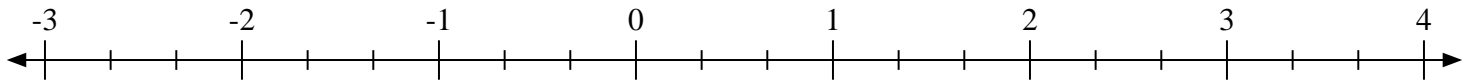
1) Marque la ubicación de $-4\frac{4}{7}$



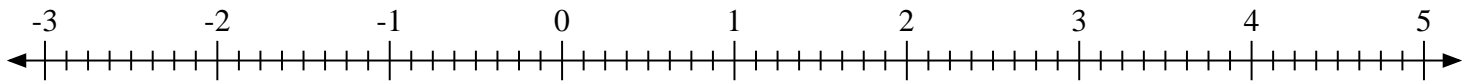
2) Marque la ubicación de $-2\frac{3}{9}$



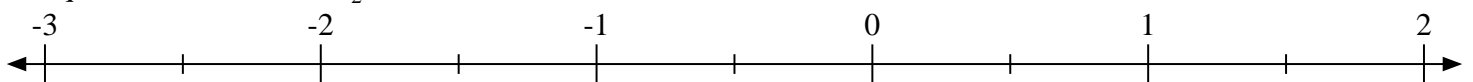
3) Marque la ubicación de $-1\frac{1}{3}$



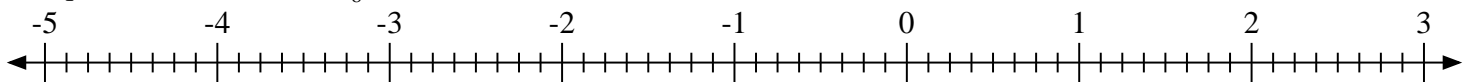
4) Marque la ubicación de $2\frac{5}{8}$



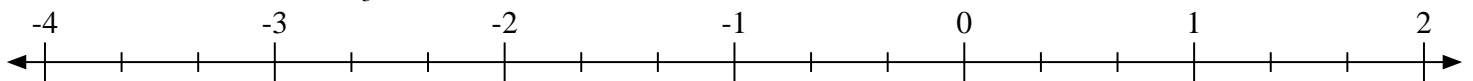
5) Marque la ubicación de $1\frac{1}{2}$



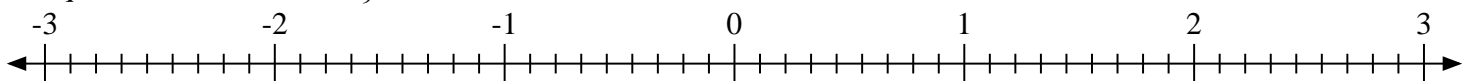
6) Marque la ubicación de $2\frac{5}{8}$



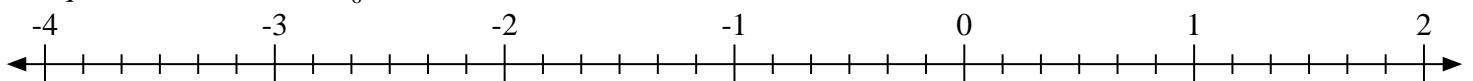
7) Marque la ubicación de $-1\frac{1}{3}$



8) Marque la ubicación de $-1\frac{1}{9}$

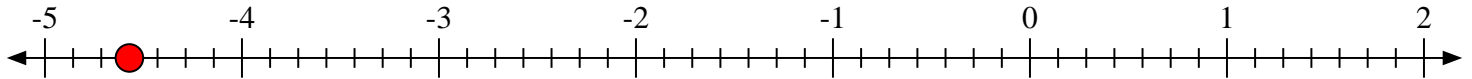
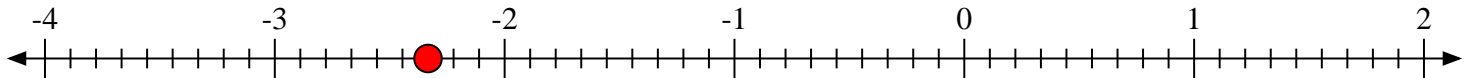
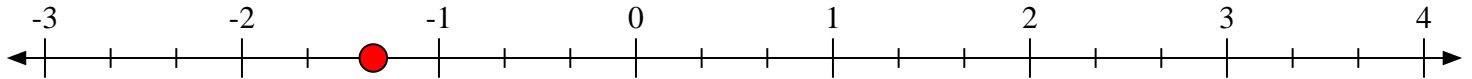
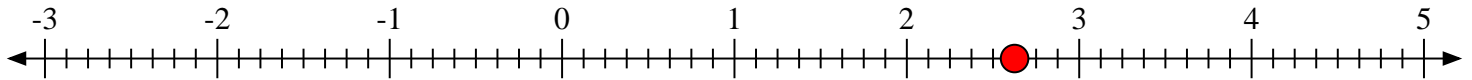
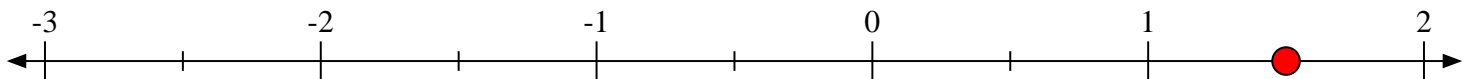
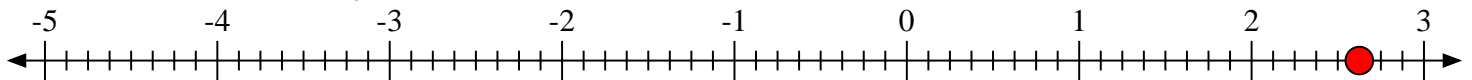
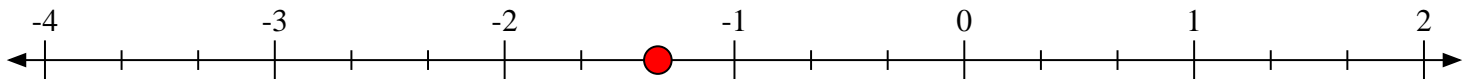
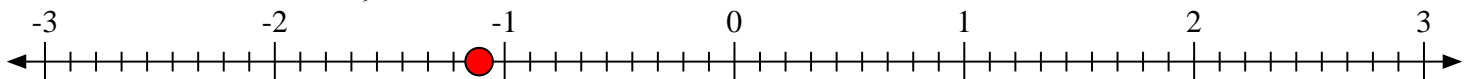


9) Marque la ubicación de $0\frac{5}{6}$





Marca cada ubicación descrita. Negativo

1) Marque la ubicación de $-4\frac{4}{7}$ 2) Marque la ubicación de $-2\frac{3}{9}$ 3) Marque la ubicación de $-1\frac{1}{3}$ 4) Marque la ubicación de $2\frac{5}{8}$ 5) Marque la ubicación de $1\frac{1}{2}$ 6) Marque la ubicación de $2\frac{5}{8}$ 7) Marque la ubicación de $-1\frac{1}{3}$ 8) Marque la ubicación de $-1\frac{1}{9}$ 9) Marque la ubicación de $0\frac{5}{6}$ 