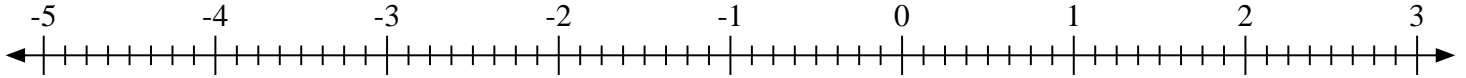
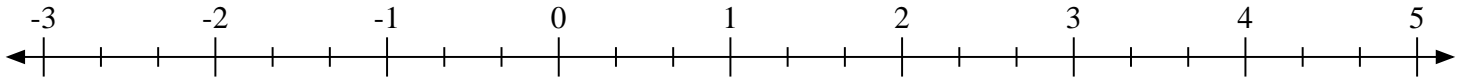
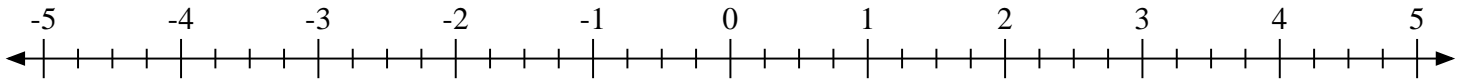
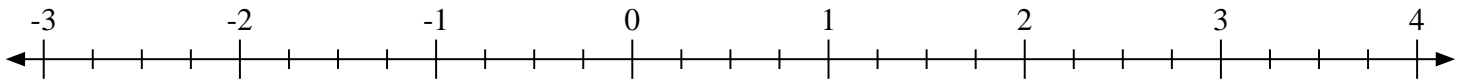
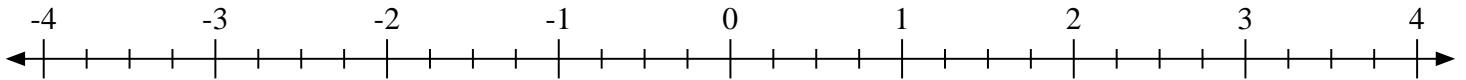
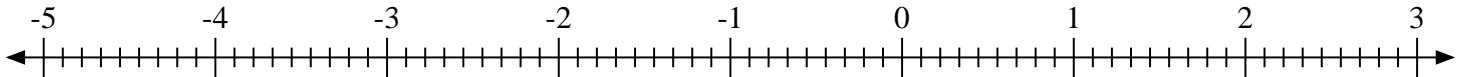
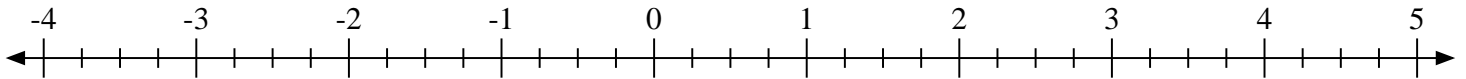
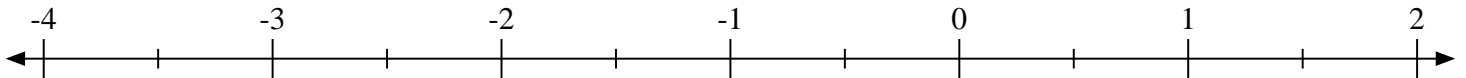
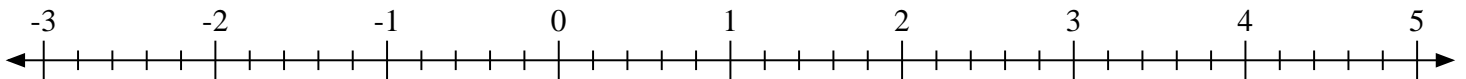
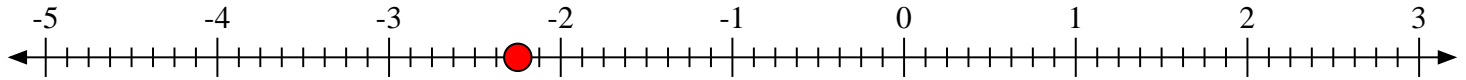
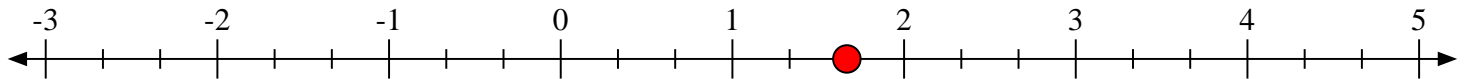
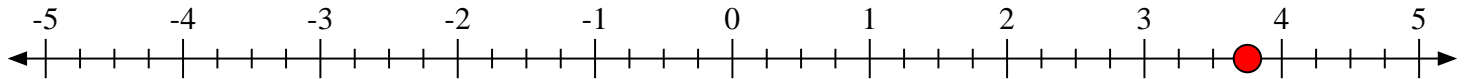
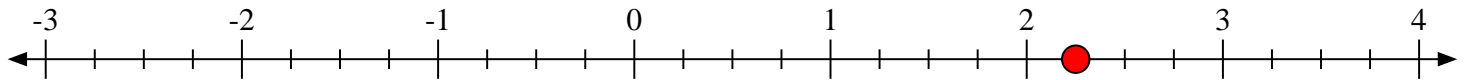
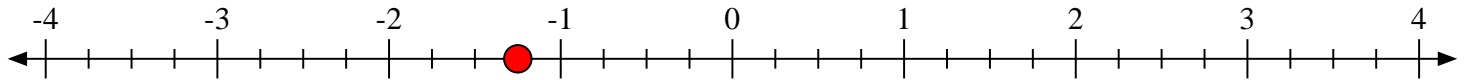
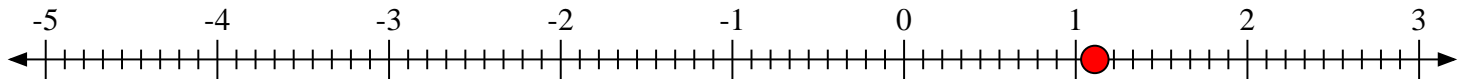
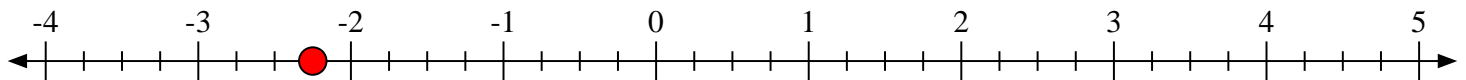
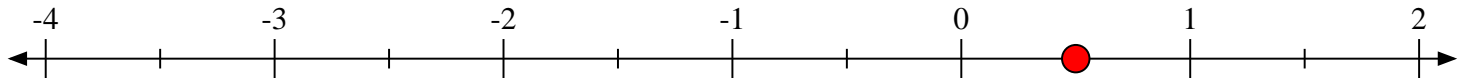


**Marca cada ubicación descrita.**1) Marque la ubicación de  $-2\frac{2}{8}$ 2) Marque la ubicación de  $1\frac{2}{3}$ 3) Marque la ubicación de  $3\frac{3}{4}$ 4) Marque la ubicación de  $2\frac{1}{4}$ 5) Marque la ubicación de  $-1\frac{1}{4}$ 6) Marque la ubicación de  $1\frac{1}{9}$ 7) Marque la ubicación de  $-2\frac{1}{4}$ 8) Marque la ubicación de  $0\frac{1}{2}$ 9) Marque la ubicación de  $0\frac{3}{5}$ 



Marca cada ubicación descrita.

1) Marque la ubicación de  $-2\frac{2}{8}$ 2) Marque la ubicación de  $1\frac{2}{3}$ 3) Marque la ubicación de  $3\frac{3}{4}$ 4) Marque la ubicación de  $2\frac{1}{4}$ 5) Marque la ubicación de  $-1\frac{1}{4}$ 6) Marque la ubicación de  $1\frac{1}{9}$ 7) Marque la ubicación de  $-2\frac{1}{4}$ 8) Marque la ubicación de  $0\frac{1}{2}$ 9) Marque la ubicación de  $0\frac{3}{5}$ 