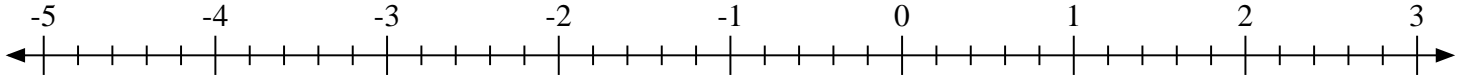


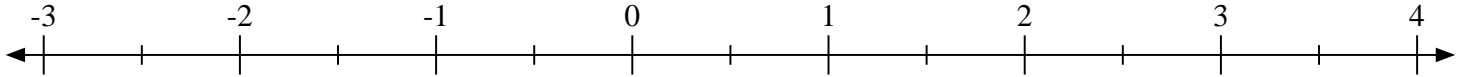


Marca cada ubicación descrita.

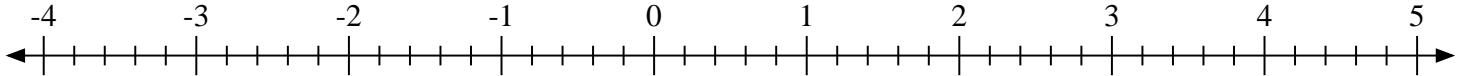
1) Marque la ubicación de  $-2\frac{3}{5}$



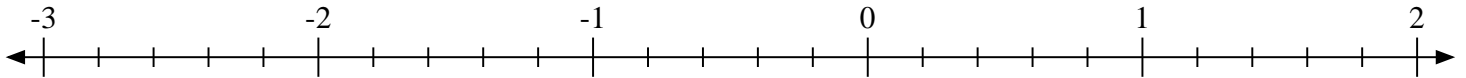
2) Marque la ubicación de  $3\frac{1}{2}$



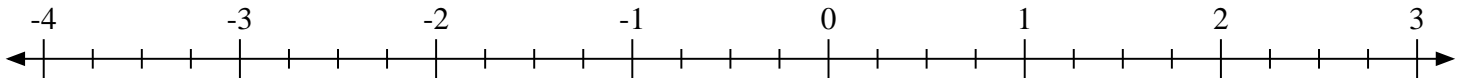
3) Marque la ubicación de  $-1\frac{3}{5}$



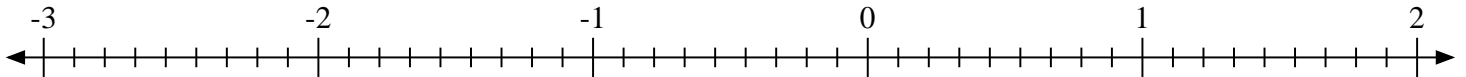
4) Marque la ubicación de  $-1\frac{2}{5}$



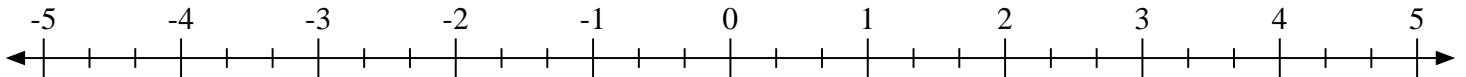
5) Marque la ubicación de  $0\frac{3}{4}$



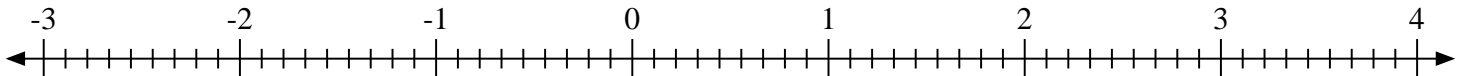
6) Marque la ubicación de  $0\frac{7}{9}$



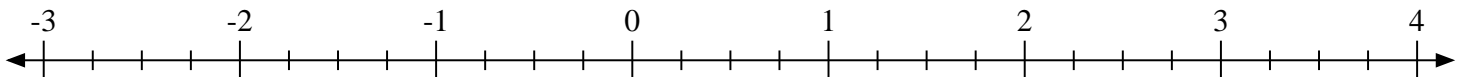
7) Marque la ubicación de  $1\frac{1}{3}$



8) Marque la ubicación de  $3\frac{4}{9}$

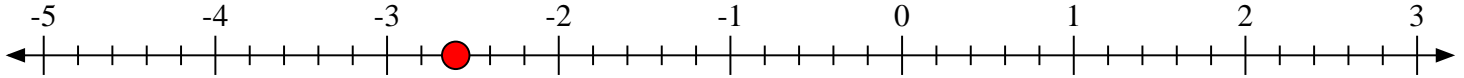
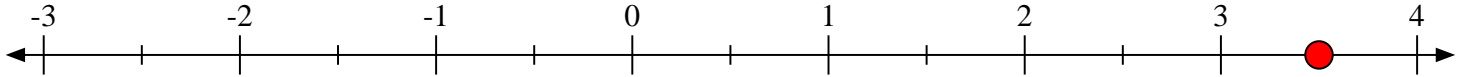
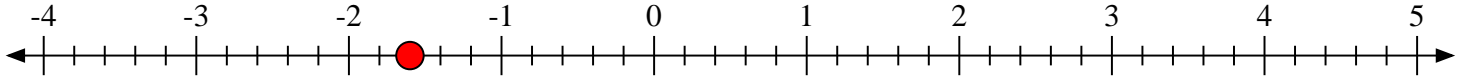
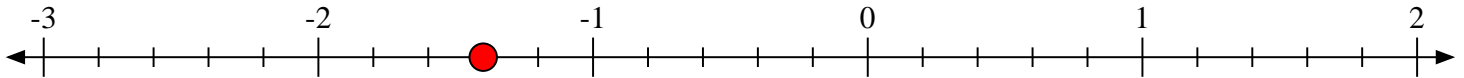
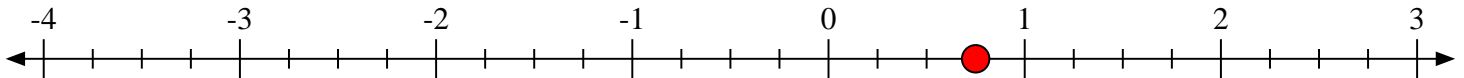
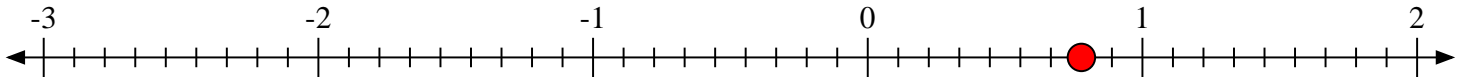
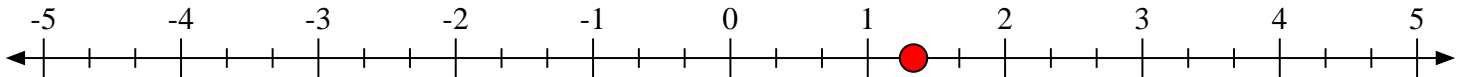
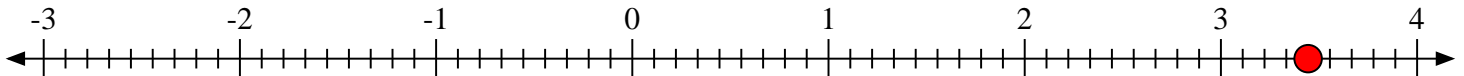


9) Marque la ubicación de  $-2\frac{3}{4}$





Marca cada ubicación descrita.

1) Marque la ubicación de  $-2\frac{3}{5}$ 2) Marque la ubicación de  $3\frac{1}{2}$ 3) Marque la ubicación de  $-1\frac{3}{5}$ 4) Marque la ubicación de  $-1\frac{2}{5}$ 5) Marque la ubicación de  $0\frac{3}{4}$ 6) Marque la ubicación de  $0\frac{7}{9}$ 7) Marque la ubicación de  $1\frac{1}{3}$ 8) Marque la ubicación de  $3\frac{4}{9}$ 9) Marque la ubicación de  $-2\frac{3}{4}$ 