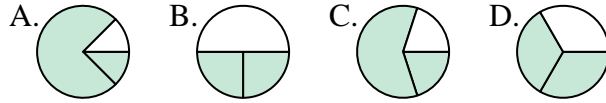




**Determina cuál letra mejor representa a cada fracción**

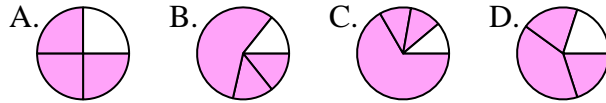
**Respuestas**

1) ¿Qué opción muestra mejor  $\frac{2}{3}$  ?



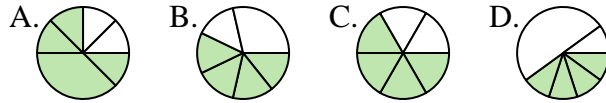
1. \_\_\_\_\_

2) ¿Qué opción muestra mejor  $\frac{3}{4}$  ?



2. \_\_\_\_\_

3) ¿Qué opción muestra mejor  $\frac{4}{6}$  ?



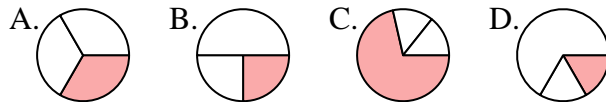
3. \_\_\_\_\_

4) ¿Qué opción muestra mejor  $\frac{1}{8}$  ?



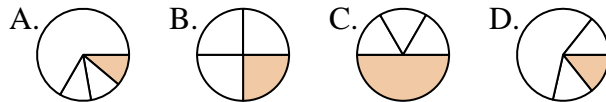
4. \_\_\_\_\_

5) ¿Qué opción muestra mejor  $\frac{1}{3}$  ?



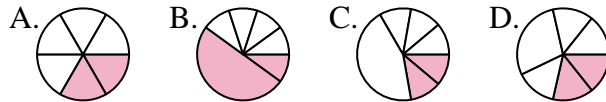
5. \_\_\_\_\_

6) ¿Qué opción muestra mejor  $\frac{1}{4}$  ?



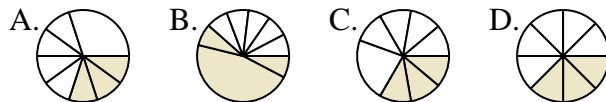
6. \_\_\_\_\_

7) ¿Qué opción muestra mejor  $\frac{2}{6}$  ?



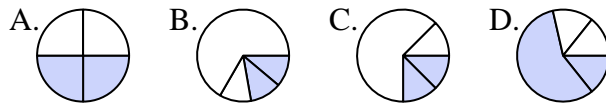
7. \_\_\_\_\_

8) ¿Qué opción muestra mejor  $\frac{3}{8}$  ?



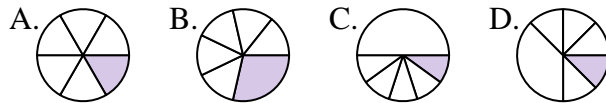
8. \_\_\_\_\_

9) ¿Qué opción muestra mejor  $\frac{2}{4}$  ?



9. \_\_\_\_\_

10) ¿Qué opción muestra mejor  $\frac{1}{6}$  ?



10. \_\_\_\_\_

11) ¿Qué opción muestra mejor  $\frac{6}{8}$  ?



11. \_\_\_\_\_

12) ¿Qué opción muestra mejor  $\frac{3}{6}$  ?



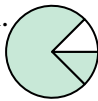
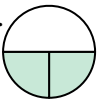


12. \_\_\_\_\_



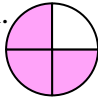



Determina cuál letra mejor representa a cada fracción

**Respuestas**



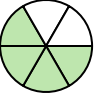

1) ¿Qué opción muestra mejor  $\frac{2}{3}$  ?

A.  B.  C.  D. 

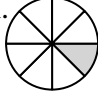
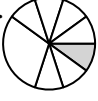
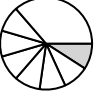

2) ¿Qué opción muestra mejor  $\frac{3}{4}$  ?

A.  B.  C.  D. 

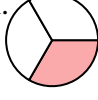
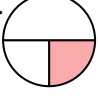

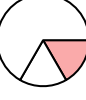
3) ¿Qué opción muestra mejor  $\frac{4}{6}$  ?

A.  B.  C.  D. 


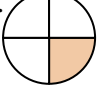
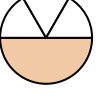
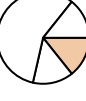
4) ¿Qué opción muestra mejor  $\frac{1}{8}$  ?

A.  B.  C.  D. 

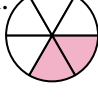



5) ¿Qué opción muestra mejor  $\frac{1}{3}$  ?

A.  B.  C.  D. 

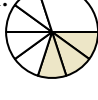

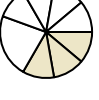
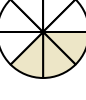
6) ¿Qué opción muestra mejor  $\frac{1}{4}$  ?

A.  B.  C.  D. 

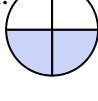
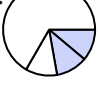
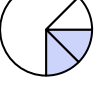
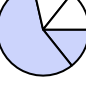
7) ¿Qué opción muestra mejor  $\frac{2}{6}$  ?

A.  B.  C.  D. 

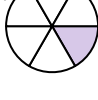
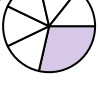
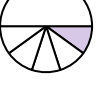
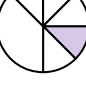
8) ¿Qué opción muestra mejor  $\frac{3}{8}$  ?

A.  B.  C.  D. 

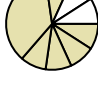
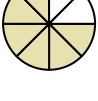


9) ¿Qué opción muestra mejor  $\frac{2}{4}$  ?

A.  B.  C.  D. 





10) ¿Qué opción muestra mejor  $\frac{1}{6}$  ?

A.  B.  C.  D. 

11) ¿Qué opción muestra mejor  $\frac{6}{8}$  ?

A.  B.  C.  D. 

12) ¿Qué opción muestra mejor  $\frac{3}{6}$  ?

A.  B.  C.  D. 

1.     **D**
2.     **A**
3.     **C**
4.     **A**
5.     **A**
6.     **B**
7.     **A**
8.     **D**
9.     **A**
10.     **A**
11.     **B**
12.     **A**