



Determina cuál letra mejor representa a cada fracción

Respuestas

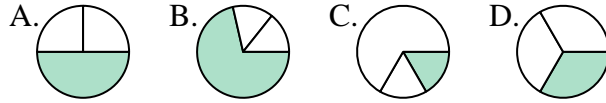
1) ¿Qué opción muestra mejor $\frac{1}{3}$?	A.	B.	C.	D.	1. _____
2) ¿Qué opción muestra mejor $\frac{3}{4}$?	A.	B.	C.	D.	2. _____
3) ¿Qué opción muestra mejor $\frac{5}{6}$?	A.	B.	C.	D.	3. _____
4) ¿Qué opción muestra mejor $\frac{7}{8}$?	A.	B.	C.	D.	4. _____
5) ¿Qué opción muestra mejor $\frac{2}{3}$?	A.	B.	C.	D.	5. _____
6) ¿Qué opción muestra mejor $\frac{2}{4}$?	A.	B.	C.	D.	6. _____
7) ¿Qué opción muestra mejor $\frac{3}{6}$?	A.	B.	C.	D.	7. _____
8) ¿Qué opción muestra mejor $\frac{3}{8}$?	A.	B.	C.	D.	8. _____
9) ¿Qué opción muestra mejor $\frac{1}{4}$?	A.	B.	C.	D.	9. _____
10) ¿Qué opción muestra mejor $\frac{1}{6}$?	A.	B.	C.	D.	10. _____
11) ¿Qué opción muestra mejor $\frac{4}{8}$?	A.	B.	C.	D.	11. _____
12) ¿Qué opción muestra mejor $\frac{4}{6}$?	A.	B.	C.	D.	12. _____



Determina cuál letra mejor representa a cada fracción

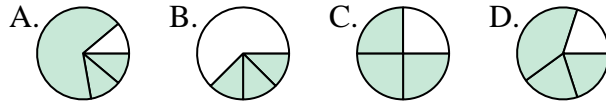
Respuestas

1) ¿Qué opción muestra mejor $\frac{1}{3}$?



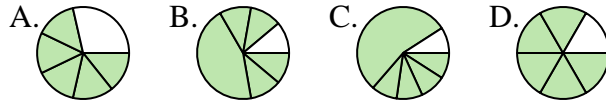
1. **D**

2) ¿Qué opción muestra mejor $\frac{3}{4}$?



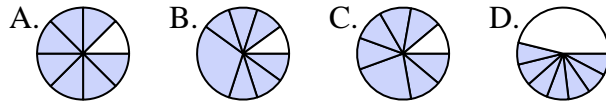
2. **C**

3) ¿Qué opción muestra mejor $\frac{5}{6}$?



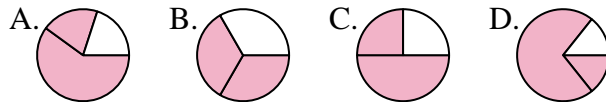
3. **D**

4) ¿Qué opción muestra mejor $\frac{7}{8}$?



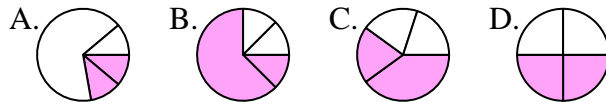
4. **A**

5) ¿Qué opción muestra mejor $\frac{2}{3}$?



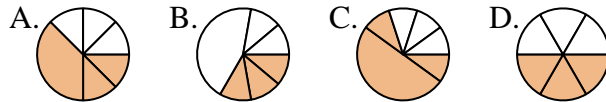
5. **B**

6) ¿Qué opción muestra mejor $\frac{2}{4}$?



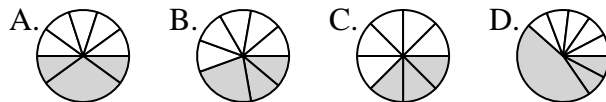
6. **D**

7) ¿Qué opción muestra mejor $\frac{3}{6}$?



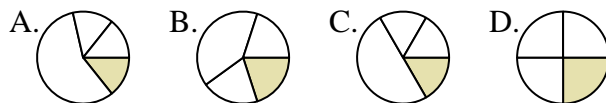
7. **D**

8) ¿Qué opción muestra mejor $\frac{3}{8}$?



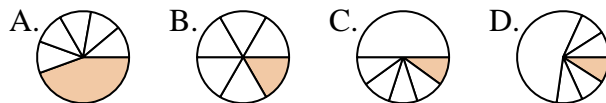
8. **C**

9) ¿Qué opción muestra mejor $\frac{1}{4}$?



9. **D**

10) ¿Qué opción muestra mejor $\frac{1}{6}$?



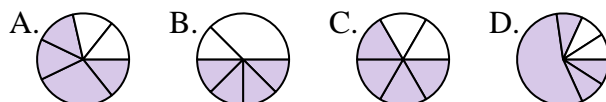
10. **B**

11) ¿Qué opción muestra mejor $\frac{4}{8}$?



11. **A**

12) ¿Qué opción muestra mejor $\frac{4}{6}$?



12. **C**