


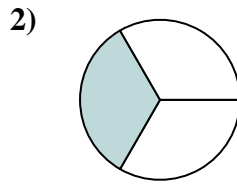


Determina cuál letra mejor describe a la porción sombreada.

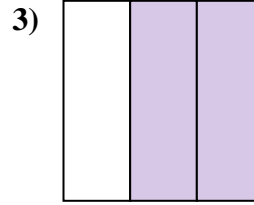
Respuestas



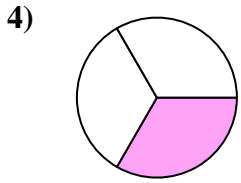
- A. un medio
- B. cuatro cuartos
- C. un cuarto



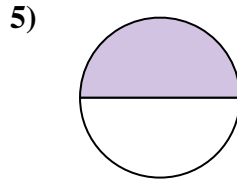
- A. un tercio
- B. un cuarto
- C. un medio



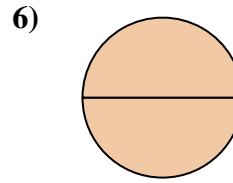
- A. un tercio
- B. dos tercios
- C. tres tercios



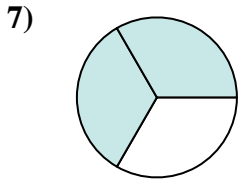
- A. un tercio
- B. tres cuartos
- C. un cuarto



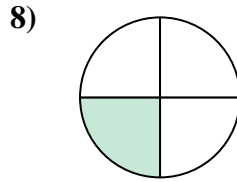
- A. un tercio
- B. un cuarto
- C. un medio



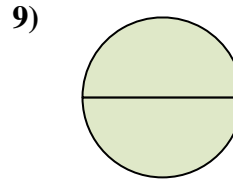
- A. un medio
- B. dos tercios
- C. dos medios



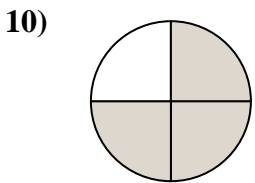
- A. un medio
- B. dos tercios
- C. cuatro cuartos



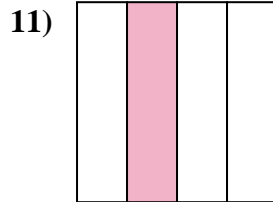
- A. dos cuartos
- B. un cuarto
- C. tres cuartos



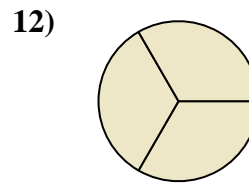
- A. dos medios
- B. un tercio
- C. un medio



- A. tres cuartos
- B. tres tercios
- C. cuatro cuartos



- A. tres cuartos
- B. dos cuartos
- C. un cuarto




- A. dos tercios
- B. un medio
- C. tres tercios

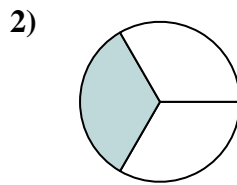
- 1. _____
- 2. _____
- 3. _____
- 4. _____
- 5. _____
- 6. _____
- 7. _____
- 8. _____
- 9. _____
- 10. _____
- 11. _____
- 12. _____



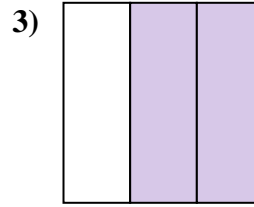
Determina cuál letra mejor describe a la porción sombreada.



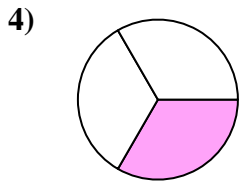
- A. un medio
- B. cuatro cuartos
- C. un cuarto



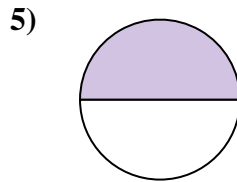
- A. un tercio
- B. un cuarto
- C. un medio



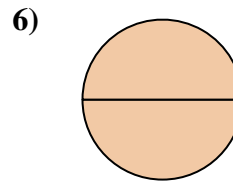
- A. un tercio
- B. dos tercios
- C. tres tercios



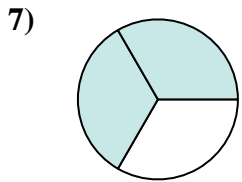
- A. un tercio
- B. tres cuartos
- C. un cuarto



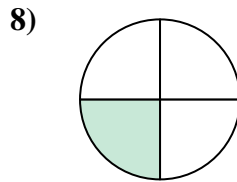
- A. un tercio
- B. un cuarto
- C. un medio



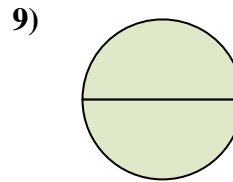
- A. un medio
- B. dos tercios
- C. dos medios



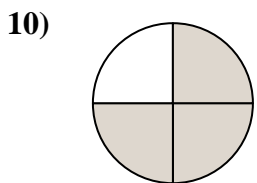
- A. un medio
- B. dos tercios
- C. cuatro cuartos



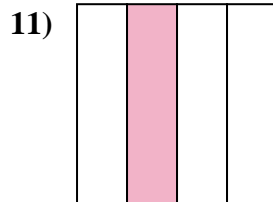
- A. dos cuartos
- B. un cuarto
- C. tres cuartos



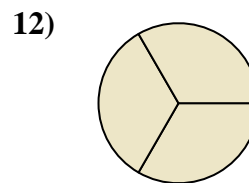
- A. dos medios
- B. un tercio
- C. un medio



- A. tres cuartos
- B. tres tercios
- C. cuatro cuartos



- A. tres cuartos
- B. dos cuartos
- C. un cuarto



- A. dos tercios
- B. un medio
- C. tres tercios

Respuestas

1. **A**

2. **A**

3. **B**

4. **A**

5. **C**

6. **C**

7. **B**

8. **B**

9. **A**

10. **A**

11. **C**

12. **C**