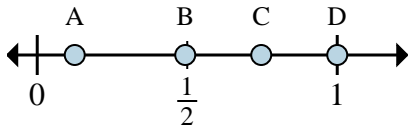
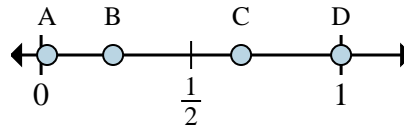




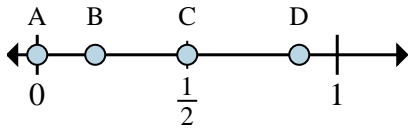
**Determina cuál letra mejor muestra la ubicación de la fracción.**



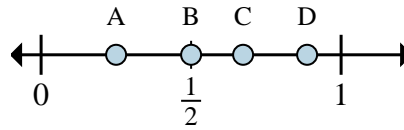
- 1) ¿Qué letra representa mejor  $\frac{8}{8}$ ?
- 2) ¿Qué letra representa mejor  $\frac{1}{8}$ ?



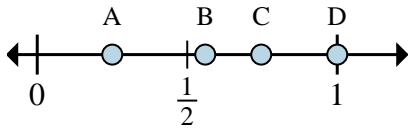
- 3) ¿Qué letra representa mejor  $\frac{3}{3}$ ?
- 4) ¿Qué letra representa mejor  $\frac{2}{3}$ ?



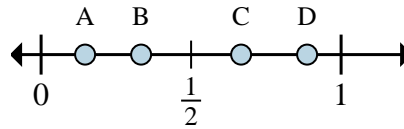
- 5) ¿Qué letra representa mejor  $\frac{0}{2}$ ?
- 6) ¿Qué letra representa mejor  $\frac{1}{2}$ ?



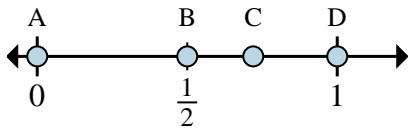
- 7) ¿Qué letra representa mejor  $\frac{2}{8}$ ?
- 8) ¿Qué letra representa mejor  $\frac{4}{8}$ ?



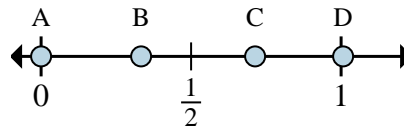
- 9) ¿Qué letra representa mejor  $\frac{1}{4}$ ?
- 10) ¿Qué letra representa mejor  $\frac{4}{4}$ ?



- 11) ¿Qué letra representa mejor  $\frac{2}{6}$ ?
- 12) ¿Qué letra representa mejor  $\frac{4}{6}$ ?



- 13) ¿Qué letra representa mejor  $\frac{6}{6}$ ?
- 14) ¿Qué letra representa mejor  $\frac{3}{6}$ ?



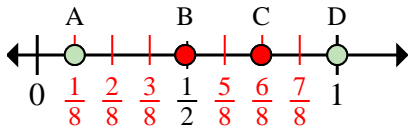
- 15) ¿Qué letra representa mejor  $\frac{0}{3}$ ?
- 16) ¿Qué letra representa mejor  $\frac{1}{3}$ ?

**Respuestas**

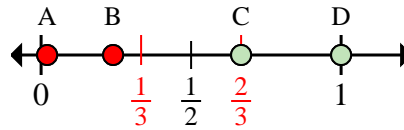
1. \_\_\_\_\_
2. \_\_\_\_\_
3. \_\_\_\_\_
4. \_\_\_\_\_
5. \_\_\_\_\_
6. \_\_\_\_\_
7. \_\_\_\_\_
8. \_\_\_\_\_
9. \_\_\_\_\_
10. \_\_\_\_\_
11. \_\_\_\_\_
12. \_\_\_\_\_
13. \_\_\_\_\_
14. \_\_\_\_\_
15. \_\_\_\_\_
16. \_\_\_\_\_



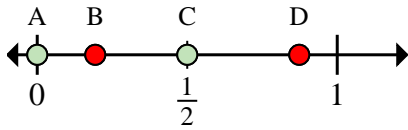
Determina cuál letra mejor muestra la ubicación de la fracción.



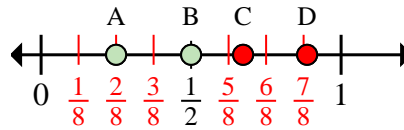
- 1) ¿Qué letra representa mejor  $\frac{8}{8}$ ?
- 2) ¿Qué letra representa mejor  $\frac{1}{8}$ ?



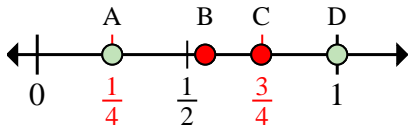
- 3) ¿Qué letra representa mejor  $\frac{3}{3}$ ?
- 4) ¿Qué letra representa mejor  $\frac{2}{3}$ ?



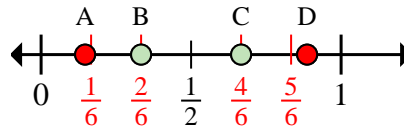
- 5) ¿Qué letra representa mejor  $\frac{0}{2}$ ?
- 6) ¿Qué letra representa mejor  $\frac{1}{2}$ ?



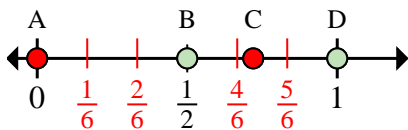
- 7) ¿Qué letra representa mejor  $\frac{2}{8}$ ?
- 8) ¿Qué letra representa mejor  $\frac{4}{8}$ ?



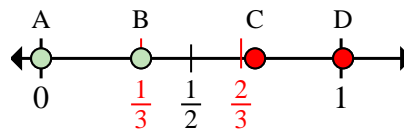
- 9) ¿Qué letra representa mejor  $\frac{1}{4}$ ?
- 10) ¿Qué letra representa mejor  $\frac{4}{4}$ ?



- 11) ¿Qué letra representa mejor  $\frac{2}{6}$ ?
- 12) ¿Qué letra representa mejor  $\frac{4}{6}$ ?



- 13) ¿Qué letra representa mejor  $\frac{6}{6}$ ?
- 14) ¿Qué letra representa mejor  $\frac{3}{6}$ ?



- 15) ¿Qué letra representa mejor  $\frac{0}{3}$ ?
- 16) ¿Qué letra representa mejor  $\frac{1}{3}$ ?

**Respuestas**

1. **D**
2. **A**
3. **D**
4. **C**
5. **A**
6. **C**
7. **A**
8. **B**
9. **A**
10. **D**
11. **B**
12. **C**
13. **D**
14. **B**
15. **A**
16. **B**