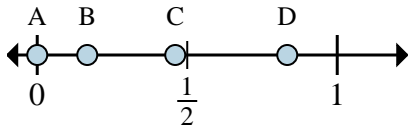
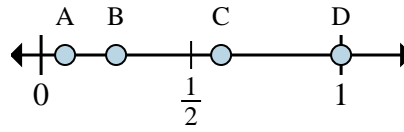




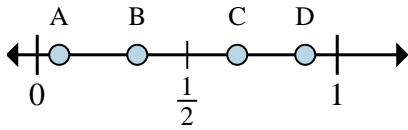
Determina cuál letra mejor muestra la ubicación de la fracción.



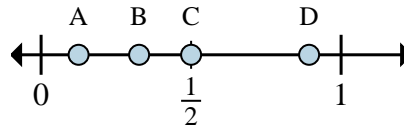
- 1) ¿Qué letra representa mejor  $\frac{0}{6}$ ?
- 2) ¿Qué letra representa mejor  $\frac{1}{6}$ ?



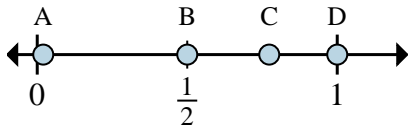
- 3) ¿Qué letra representa mejor  $\frac{1}{4}$ ?
- 4) ¿Qué letra representa mejor  $\frac{4}{4}$ ?



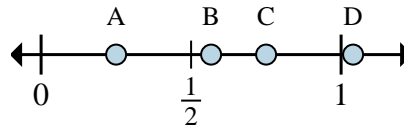
- 5) ¿Qué letra representa mejor  $\frac{4}{6}$ ?
- 6) ¿Qué letra representa mejor  $\frac{2}{6}$ ?



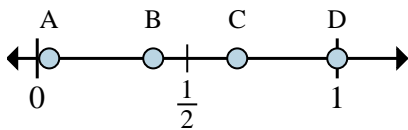
- 7) ¿Qué letra representa mejor  $\frac{4}{8}$ ?
- 8) ¿Qué letra representa mejor  $\frac{1}{8}$ ?



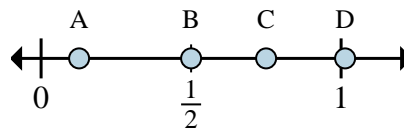
- 9) ¿Qué letra representa mejor  $\frac{2}{2}$ ?
- 10) ¿Qué letra representa mejor  $\frac{1}{2}$ ?



- 11) ¿Qué letra representa mejor  $\frac{6}{8}$ ?
- 12) ¿Qué letra representa mejor  $\frac{2}{8}$ ?



- 13) ¿Qué letra representa mejor  $\frac{3}{3}$ ?
- 14) ¿Qué letra representa mejor  $\frac{2}{3}$ ?



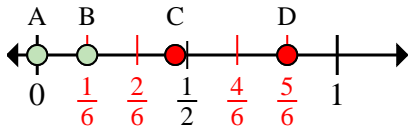
- 15) ¿Qué letra representa mejor  $\frac{3}{4}$ ?
- 16) ¿Qué letra representa mejor  $\frac{2}{4}$ ?

**Respuestas**

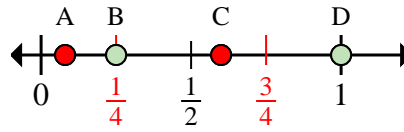
- 1. \_\_\_\_\_
- 2. \_\_\_\_\_
- 3. \_\_\_\_\_
- 4. \_\_\_\_\_
- 5. \_\_\_\_\_
- 6. \_\_\_\_\_
- 7. \_\_\_\_\_
- 8. \_\_\_\_\_
- 9. \_\_\_\_\_
- 10. \_\_\_\_\_
- 11. \_\_\_\_\_
- 12. \_\_\_\_\_
- 13. \_\_\_\_\_
- 14. \_\_\_\_\_
- 15. \_\_\_\_\_
- 16. \_\_\_\_\_



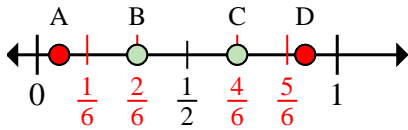
Determina cuál letra mejor muestra la ubicación de la fracción.



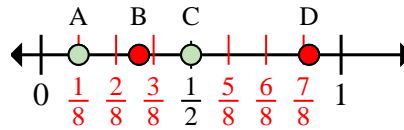
- 1) ¿Qué letra representa mejor  $\frac{0}{6}$ ?
- 2) ¿Qué letra representa mejor  $\frac{1}{6}$ ?



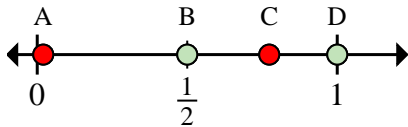
- 3) ¿Qué letra representa mejor  $\frac{1}{4}$ ?
- 4) ¿Qué letra representa mejor  $\frac{4}{4}$ ?



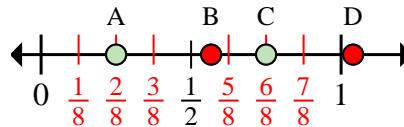
- 5) ¿Qué letra representa mejor  $\frac{4}{6}$ ?
- 6) ¿Qué letra representa mejor  $\frac{2}{6}$ ?



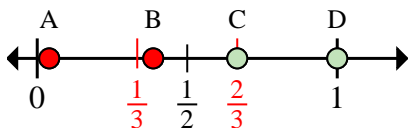
- 7) ¿Qué letra representa mejor  $\frac{4}{8}$ ?
- 8) ¿Qué letra representa mejor  $\frac{1}{8}$ ?



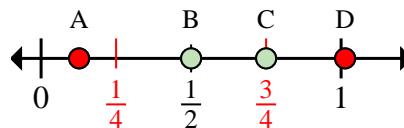
- 9) ¿Qué letra representa mejor  $\frac{2}{2}$ ?
- 10) ¿Qué letra representa mejor  $\frac{1}{2}$ ?



- 11) ¿Qué letra representa mejor  $\frac{6}{8}$ ?
- 12) ¿Qué letra representa mejor  $\frac{2}{8}$ ?



- 13) ¿Qué letra representa mejor  $\frac{3}{3}$ ?
- 14) ¿Qué letra representa mejor  $\frac{2}{3}$ ?



- 15) ¿Qué letra representa mejor  $\frac{3}{4}$ ?
- 16) ¿Qué letra representa mejor  $\frac{2}{4}$ ?

**Respuestas**

1. **A**
2. **B**
3. **B**
4. **D**
5. **C**
6. **B**
7. **C**
8. **A**
9. **D**
10. **B**
11. **C**
12. **A**
13. **D**
14. **C**
15. **C**
16. **B**