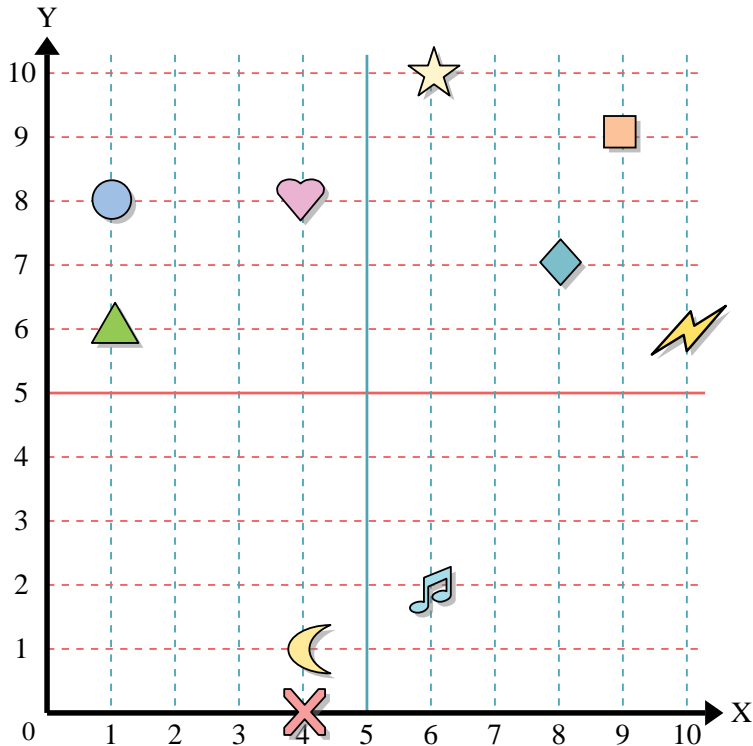




Usar la cuadrícula de abajo para determinar las coordenadas donde cada figura está localizada.



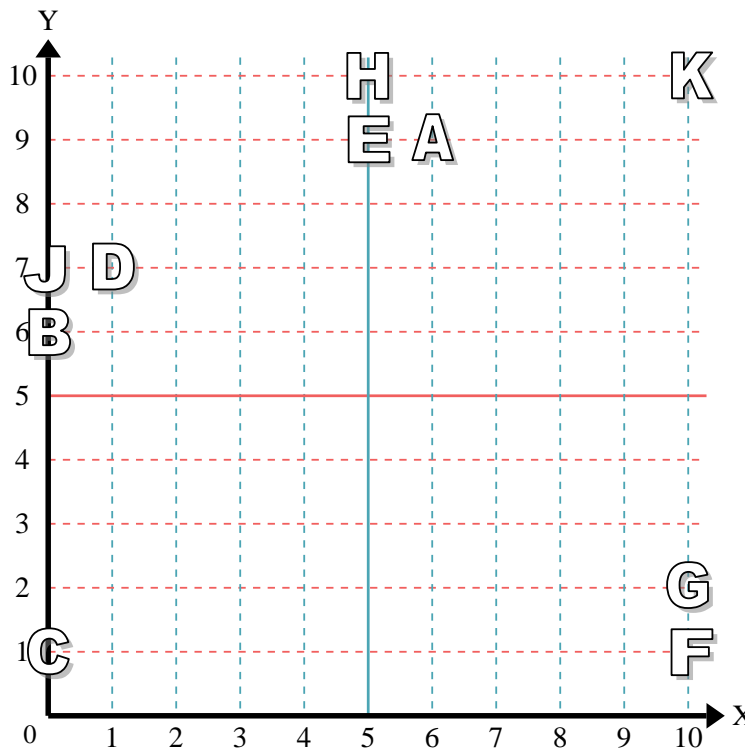
- 1) Estrella \_\_\_\_\_
- 2) Rayo \_\_\_\_\_
- 3) Circulo \_\_\_\_\_
- 4) Corazón \_\_\_\_\_
- 5) Cruz \_\_\_\_\_
- 6) Triángulo \_\_\_\_\_
- 7) Luna \_\_\_\_\_
- 8) Cuadro \_\_\_\_\_
- 9) Diamante \_\_\_\_\_
- 10) Nota musical \_\_\_\_\_

**Respuestas**

- 1. \_\_\_\_\_
- 2. \_\_\_\_\_
- 3. \_\_\_\_\_
- 4. \_\_\_\_\_
- 5. \_\_\_\_\_
- 6. \_\_\_\_\_
- 7. \_\_\_\_\_
- 8. \_\_\_\_\_
- 9. \_\_\_\_\_
- 10. \_\_\_\_\_
- 11. \_\_\_\_\_
- 12. \_\_\_\_\_
- 13. \_\_\_\_\_
- 14. \_\_\_\_\_
- 15. \_\_\_\_\_
- 16. \_\_\_\_\_
- 17. \_\_\_\_\_
- 18. \_\_\_\_\_
- 19. \_\_\_\_\_
- 20. \_\_\_\_\_

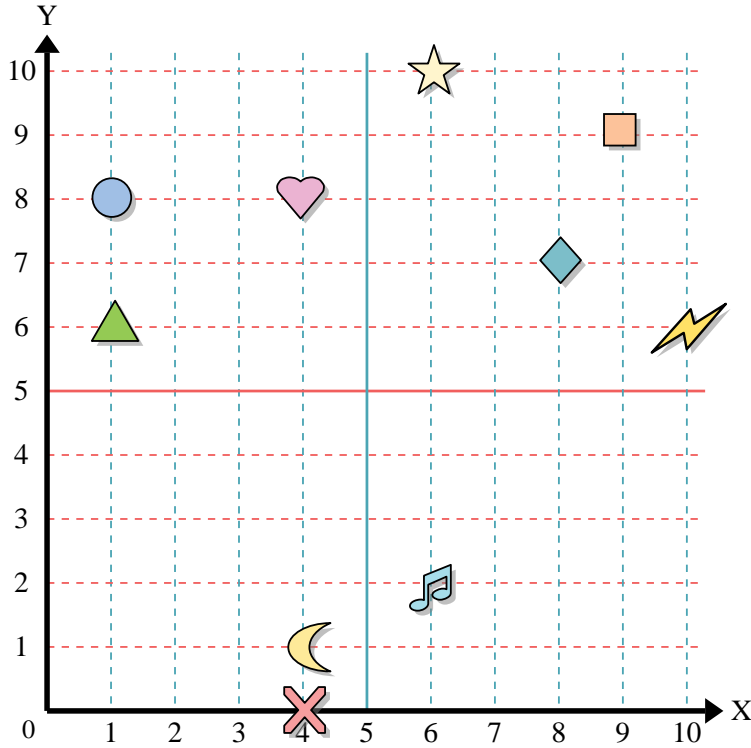
Determine qué letra está en cada coordenada utilizando la cuadrícula de abajo.

- 11) (10,10) \_\_\_\_\_
- 12) (5,10) \_\_\_\_\_
- 13) (10,1) \_\_\_\_\_
- 14) (1,7) \_\_\_\_\_
- 15) (5,9) \_\_\_\_\_
- 16) (0,6) \_\_\_\_\_
- 17) (0,7) \_\_\_\_\_
- 18) (0,1) \_\_\_\_\_
- 19) (6,9) \_\_\_\_\_
- 20) (10,2) \_\_\_\_\_





Usar la cuadrícula de abajo para determinar las coordenadas donde cada figura está localizada.



- 1) Estrella (6, 10)
- 2) Rayo (10, 6)
- 3) Circulo (1, 8)
- 4) Corazón (4, 8)
- 5) Cruz (4, 0)
- 6) Triángulo (1, 6)
- 7) Luna (4, 1)
- 8) Cuadro (9, 9)
- 9) Diamante (8, 7)
- 10) Nota musical (6, 2)

**Respuestas**

- 1. (6, 10)
- 2. (10, 6)
- 3. (1, 8)
- 4. (4, 8)
- 5. (4, 0)
- 6. (1, 6)
- 7. (4, 1)
- 8. (9, 9)
- 9. (8, 7)
- 10. (6, 2)
- 11. K
- 12. H
- 13. F
- 14. D
- 15. E
- 16. B
- 17. J
- 18. C
- 19. A
- 20. G

Determine qué letra está en cada coordenada utilizando la cuadrícula de abajo.

- 11) (10,10) K
- 12) (5,10) H
- 13) (10,1) F
- 14) (1,7) D
- 15) (5,9) E
- 16) (0,6) B
- 17) (0,7) J
- 18) (0,1) C
- 19) (6,9) A
- 20) (10,2) G

